

2026 纽约驾照笔试中文题库 PDF

大字体打印版 | 347 题完整练习 + 答案解析

基于 nyjiazhao.com 纽约 DMV 笔试题库整理，适合打印给父母、长辈或想离线复习的用户。

包含内容

- 347 道纽约 DMV 练习题：200 道文字题 + 147 道交通标志题。
- 大字体排版，适合打印阅读和纸上练习。
- 练习题与答案解析分开，方便先做题、后核对。
- 每页带网站入口，可回到在线题库继续做模拟考试。

使用提醒

本站不是 New York DMV 官方网站。正式考试规则、费用、预约和政策请以 dmv.ny.gov 为准。



练习版

请先完成题目，不要翻到后面的答案解析。建议打印后用笔勾选 A/B/C/D。



1. 红灯闪烁表示什么？

- A. 和 STOP 标志一样：停车、让行、安全时通行
- B. 减速但不用停车
- C. 路口关闭，不能通行
- D. 以上都不正确

我的答案： A B C D

2. 黄灯闪烁表示什么？

- A. 谨慎通行
- B. 必须完全停车
- C. 只能右转
- D. 以上都不正确

我的答案： A B C D

3. 交通灯或控制设备失灵时，接近路口应怎么做？

- A. 像面对 STOP 标志一样停车，再按路权规则通行
- B. 按原来的绿灯方向通行
- C. 鸣喇叭后直接通过
- D. 以上都不正确

我的答案： A B C D

4. 纽约市内，红灯右转的一般规则是什么？

- A. 除非有标志允许，否则不可以红灯右转
- B. 和纽约其他地方一样，停车后都可以右转
- C. 只有晚上可以红灯右转
- D. 以上都不正确

我的答案： A B C D



5. 纽约非纽约市地区，红灯右转通常需要先做什么？

- A. 完全停下并让行来车和行人
- B. 减速即可，不必停
- C. 只要打灯即可
- D. 以上都不正确

我的答案： A B C D

6. 红色箭头灯亮时，可以向箭头方向转弯吗？

- A. 不可以，必须等红箭头熄灭并出现绿灯或绿箭头
- B. 可以，先停再转
- C. 只有右转可以
- D. 以上都不正确

我的答案： A B C D

7. 警察或交通指挥员的指挥与信号灯冲突时，应听谁的？

- A. 交通指挥员
- B. 信号灯
- C. 道路标线
- D. 以上都不正确

我的答案： A B C D

8. 单条虚线车道线通常表示什么？

- A. 安全且不妨碍交通时可以变道或超车
- B. 绝对不能跨越
- C. 只能左转时跨越
- D. 以上都不正确

我的答案： A B C D



9. 双实线通常表示什么？

- A. 不能超车或变道，但可按规定左转进出道路
- B. 任何情况下都不能跨越
- C. 只限制卡车
- D. 以上都不正确

我的答案： A B C D

10. 带菱形标记的车道通常表示什么？

- A. 该车道为公交、HOV、自行车或其他特殊车辆保留
- B. 该车道限速更高
- C. 该车道只能临时停车
- D. 以上都不正确

我的答案： A B C D

11. 无信号控制路口，右侧车辆与你同时到达，你应怎么做？

- A. 让右侧车辆先行
- B. 你先行，因为你在直行
- C. 谁速度快谁先走
- D. 以上都不正确

我的答案： A B C D

12. 你左转，对向车辆直行并同时到达，谁应让行？

- A. 左转车辆必须让行
- B. 直行车辆必须让行
- C. 谁先打灯谁先走
- D. 以上都不正确

我的答案： A B C D



13. 从 driveway、alley 或停车场进入道路时必须怎么做？

- A. 停车并让行道路车辆和行人
- B. 只让行车辆，不用管行人
- C. 只要打灯即可进入
- D. 以上都不正确

我的答案： A B C D

14. 交通堵在路口另一侧时，你面对绿灯可以进入路口吗？

- A. 不可以，应等前方清空
- B. 可以，因为你是绿灯
- C. 可以，只要车头过线
- D. 以上都不正确

我的答案： A B C D

15. 接近 traffic circle 或 roundabout 时，谁有先行权？

- A. 已经在圆环内的车辆
- B. 准备进入圆环的车辆
- C. 右侧车辆永远先行
- D. 以上都不正确

我的答案： A B C D

16. 听到或看到紧急车辆从任何方向驶来时，应怎么做？

- A. 安全靠右边缘停车，等待其通过
- B. 立即停在原车道
- C. 加速离开它前方
- D. 以上都不正确

我的答案： A B C D



17. 纽约 Move Over Law 要求遇到路肩上有警示灯的授权紧急或危险车辆时怎么做？

- A. 减速；在多车道受控道路上能安全时离开相邻车道
- B. 保持原速通过
- C. 只在警车旁边才需要变道
- D. 以上都不正确

我的答案： A B C D

18. 转弯或变道前，纽约法律要求至少提前多远打信号？

- A. 至少 100 英尺
- B. 至少 200 英尺
- C. 只需开始转弯时打灯
- D. 以上都不正确

我的答案： A B C D

19. 做左转等待时，为什么应保持车轮直行？

- A. 避免被后车追尾时推入对向车道
- B. 这样可以更快转弯
- C. 法律要求停车时车轮必须直
- D. 以上都不正确

我的答案： A B C D

20. 纽约哪里禁止掉头？

- A. 纽约市商业区、学校区域、有限通行高速，以及有 NO U-TURN 标志处
- B. 所有住宅区
- C. 所有双向街道
- D. 以上都不正确

我的答案： A B C D



21. 靠近山顶、弯道等位置掉头时，至少需要多远视距？

- A. 任一方向至少 500 英尺
- B. 任一方向至少 200 英尺
- C. 任一方向至少 100 英尺
- D. 以上都不正确

我的答案： A B C D

22. 在多数情况下，超车应从哪一侧进行？

- A. 左侧
- B. 右侧
- C. 路肩
- D. 以上都不正确

我的答案： A B C D

23. 超车时可以超过限速吗？

- A. 不可以
- B. 可以，只要很快完成
- C. 可以，但只能超过 5 mph
- D. 以上都不正确

我的答案： A B C D

24. 哪种情况下不能从左侧超车？

- A. 你的车道有实黄中心线
- B. 前车速度低于限速
- C. 道路很直且视线良好
- D. 以上都不正确

我的答案： A B C D



25. 对向车辆距离多近时，你不能开始左侧超车？

- A. 如果不能在对向车辆到达 200 英尺前安全回到右侧车道，就不能超车
- B. 50 英尺
- C. 100 英尺
- D. 以上都不正确

我的答案： A B C D

26. 接近铁路道口多少英尺内，在双向道路上不能左侧超车？

- A. 100 英尺
- B. 200 英尺
- C. 500 英尺
- D. 以上都不正确

我的答案： A B C D

27. 前车在 crosswalk 前停车让行行人时，你可以超车吗？

- A. 不可以
- B. 可以，如果你看不到行人
- C. 可以，只能从右侧
- D. 以上都不正确

我的答案： A B C D

28. 校车红灯闪烁并停车时，你应停多远？

- A. 至少 20 英尺
- B. 至少 15 英尺
- C. 至少 50 英尺
- D. 以上都不正确

我的答案： A B C D



29. 在纽约，校车红灯闪烁时，对向车道在分隔公路另一侧是否也必须停车？

- A. 必须停车
- B. 不必停车
- C. 只有在学校门口才停车
- D. 以上都不正确

我的答案： A B C D

30. 校车黄灯闪烁通常表示什么？

- A. 校车即将停车上下学生，应减速准备停车
- B. 可以超车
- C. 校车正在右转
- D. 以上都不正确

我的答案： A B C D

31. NO PARKING 标志下，你可以做什么？

- A. 临时停车装卸货物或上下乘客
- B. 停车等待朋友很久
- C. 任何时候都不能停一下
- D. 以上都不正确

我的答案： A B C D

32. NO STANDING 标志下，你可以做什么？

- A. 临时停车上下乘客，但不能装卸货物，驾驶人不能离车
- B. 可以停车装卸货物
- C. 可以长时间停车
- D. 以上都不正确

我的答案： A B C D



33. NO STOPPING 标志表示什么？

- A. 只有为遵守交通标志/信号/警察或避免冲突时才能停
- B. 可以上下乘客
- C. 可以装卸货物
- D. 以上都不正确

我的答案： A B C D

34. 纽约消防栓多少英尺内不能停车、停站或停车等候？

- A. 15 英尺
- B. 20 英尺
- C. 30 英尺
- D. 以上都不正确

我的答案： A B C D

35. 在路口 crosswalk 多少英尺内通常不能 parking 或 standing？

- A. 20 英尺
- B. 30 英尺
- C. 50 英尺
- D. 以上都不正确

我的答案： A B C D

36. 交通灯、STOP 或 YIELD 标志多少英尺内通常不能 parking 或 standing？

- A. 30 英尺
- B. 15 英尺
- C. 75 英尺
- D. 以上都不正确

我的答案： A B C D



37. 纽约离铁路道口多少英尺内不能停车？

- A. 50 英尺
- B. 15 英尺
- C. 100 英尺
- D. 以上都不正确

我的答案： A B C D

38. 平行停车完成后，车轮距离路缘最多应多远？

- A. 不超过 1 英尺
- B. 不超过 2 英尺
- C. 不超过 3 英尺
- D. 以上都不正确

我的答案： A B C D

39. 纽约市内没有标示限速时，通常最高限速是多少？

- A. 25 mph
- B. 35 mph
- C. 55 mph
- D. 以上都不正确

我的答案： A B C D

40. 纽约没有标示限速时，纽约市以外通常最高不能超过多少？

- A. 55 mph
- B. 65 mph
- C. 45 mph
- D. 以上都不正确

我的答案： A B C D



41. 即使没有超过标示限速，什么时候仍可能因速度不合理被开罚单？

- A. 雨雪雾、湿滑等情况下速度对条件来说不合理
- B. 只要低于限速就永远不会
- C. 只有高速公路上才会
- D. 以上都不正确

我的答案： A B C D

42. 使用 two-second rule 时，如果你在数完前就到达参照物，说明什么？

- A. 跟车太近
- B. 距离足够安全
- C. 车速太慢
- D. 以上都不正确

我的答案： A B C D

43. 恶劣天气或跟随大型卡车时，两秒规则应怎样调整？

- A. 增加到至少 3 或 4 秒
- B. 减少到 1 秒
- C. 保持 2 秒即可
- D. 以上都不正确

我的答案： A B C D

44. 纽约驾驶时手持手机通话的第一违规可能有什么后果？

- A. 最高 \$200 罚款和 5 分
- B. 只会警告
- C. 自动吊销驾照一年
- D. 以上都不正确

我的答案： A B C D



45. 纽约开车时使用便携电子设备发短信或邮件是否合法？

- A. 违法
- B. 合法，只要车速低于 25 mph
- C. 只有高速公路违法
- D. 以上都不正确

我的答案： A B C D

46. 纽约儿童几岁以下必须使用联邦批准的儿童安全座椅？

- A. 4 岁以下
- B. 8 岁以下
- C. 16 岁以下
- D. 以上都不正确

我的答案： A B C D

47. 纽约 4 到 7 岁儿童通常应使用什么约束系统？

- A. 合适的儿童约束系统，通常为 booster seat 配合腰肩带
- B. 成人安全带即可
- C. 不需要任何约束
- D. 以上都不正确

我的答案： A B C D

48. 儿童坐后向式安全座椅时，是否可以放在有乘客安全气囊的前座？

- A. 绝对不可以
- B. 可以，只要安全带系紧
- C. 可以，只在短途
- D. 以上都不正确

我的答案： A B C D



49. 纽约未满 21 岁驾驶人的 zero tolerance BAC 范围是什么？

- A. .02 到 .07
- B. .08 或更高
- C. .18 或更高
- D. 以上都不正确

我的答案： A B C D

50. 纽约 BAC 达到多少是 DWI 的法定证据？

- A. .08 或更高
- B. .05 或更高
- C. .02 或更高
- D. 以上都不正确

我的答案： A B C D

51. 纽约 BAC 达到多少是 aggravated DWI 的证据？

- A. .18 或更高
- B. .08 或更高
- C. .02 或更高
- D. 以上都不正确

我的答案： A B C D

52. 纽约 BAC 超过多少可作为 impaired 的法定证据？

- A. 超过 .05
- B. .02
- C. .18
- D. 以上都不正确

我的答案： A B C D



53. 根据纽约 implied consent law , 驾驶车辆意味着你同意什么 ?

- A. 被逮捕酒驾/药驾后接受化学测试
- B. 任何时候让警察搜查车辆
- C. 自动放弃听证权
- D. 以上都不正确

我的答案 : A B C D

54. 咖啡、运动或冷水澡能让 BAC 迅速下降吗 ?

- A. 不能, 只有时间能有效降低 BAC
- B. 能, 咖啡最快
- C. 能, 只要大量喝水
- D. 以上都不正确

我的答案 : A B C D

55. 纽约公共道路上, 驾驶人或乘客持有或饮用打开的酒精饮料是否合法 ?

- A. 违法
- B. 只有驾驶人违法, 乘客合法
- C. 只要车没动就合法
- D. 以上都不正确

我的答案 : A B C D

56. 铁路道口红灯闪烁、栏杆下降或铃响时, 应停在离铁轨至少多远 ?

- A. 至少 15 英尺
- B. 至少 20 英尺
- C. 至少 50 英尺
- D. 以上都不正确

我的答案 : A B C D



57. 铁路道口没有信号或栏杆时，应怎么做？

- A. 减速，准备停车，确认无火车后再通过
- B. 保持速度快速通过
- C. 只要没听到火车声就不用看
- D. 以上都不正确

我的答案： A B C D

58. 车辆卡在铁轨上且火车接近时，离开车辆后应往哪里跑？

- A. 朝火车来的方向跑，但以 45 度角远离铁轨
- B. 沿着火车前进方向跑
- C. 留在车旁等待帮助
- D. 以上都不正确

我的答案： A B C D

59. 纽约 expressway 的通常限速是多少？

- A. 55 mph，但部分乡村地区可标示 65 mph
- B. 65 mph，所有地方一样
- C. 70 mph
- D. 以上都不正确

我的答案： A B C D

60. 如果在 expressway 错过出口，应怎么做？

- A. 继续到下一个出口再重新规划
- B. 在出口匝道倒车
- C. 横穿中央隔离带
- D. 以上都不正确

我的答案： A B C D



61. 驶入 expressway 时，通常应怎样并入车流？

- A. 利用匝道加速到接近车流速度，打灯并回头观察后安全并入
- B. 在匝道尽头永远停车
- C. 低速直接切入主路
- D. 以上都不正确

我的答案： A B C D

62. 驶离 expressway 前，至少提前多远打转向灯？

- A. 至少 100 英尺
- B. 至少 500 英尺
- C. 只在进入匝道后打灯
- D. 以上都不正确

我的答案： A B C D

63. 纽约什么时候必须使用前照灯？

- A. 日落后半小时至日出前半小时、能见度低于 1,000 英尺、以及雨雪雾需用雨刷时
- B. 只有完全黑夜
- C. 只有高速公路
- D. 以上都不正确

我的答案： A B C D

64. 遇到对向车辆时，远光灯应在多少英尺内切换为近光？

- A. 500 英尺
- B. 200 英尺
- C. 100 英尺
- D. 以上都不正确

我的答案： A B C D



65. 跟随前车时，远光灯应在多少英尺内切换为近光？

- A. 200 英尺
- B. 500 英尺
- C. 50 英尺
- D. 以上都不正确

我的答案： A B C D

66. 雨、雾、雪中使用远光灯通常会怎样？

- A. 光线反射回来，让视线更差
- B. 视线一定更好
- C. 只会影响后车
- D. 以上都不正确

我的答案： A B C D

67. 开始下雨、下雪或结冰时，路面为什么特别危险？

- A. 路面会变滑，应减速并增加跟车距离
- B. 轮胎抓地力会自动变好
- C. 只有高速公路危险
- D. 以上都不正确

我的答案： A B C D

68. 发生 hydroplaning 时，正确做法是什么？

- A. 进一步降低速度，避免急打方向或急刹
- B. 加速冲过去
- C. 立即猛踩刹车
- D. 以上都不正确

我的答案： A B C D



69. 在冰雪中后轮开始打滑时，应向哪里转方向盘？

- A. 朝车辆试图滑去的方向转
- B. 朝相反方向猛转
- C. 保持方向盘不动
- D. 以上都不正确

我的答案： A B C D

70. 纽约金属钉胎 (metal studs) 允许使用的日期范围是什么？

- A. 10 月 16 日至 4 月 30 日
- B. 全年
- C. 12 月 1 日至 2 月 1 日
- D. 以上都不正确

我的答案： A B C D

71. 行人合法使用有标记或无标记 crosswalk 时，驾驶人必须怎么做？

- A. 减速或停车让行，避免碰撞
- B. 只有有信号灯时才让行
- C. 鸣喇叭让行人快走
- D. 以上都不正确

我的答案： A B C D

72. 右转时为什么要特别注意行人、自行车和 moped rider？

- A. 他们在交通中常不易看见，可能在你的转弯路径上
- B. 他们永远必须让你
- C. 只有路考时需要注意
- D. 以上都不正确

我的答案： A B C D



73. 超越自行车时，纽约手册要求怎样做？

- A. 从左侧以安全距离超越，直到完全超过自行车
- B. 可以贴近同车道通过
- C. 鸣喇叭让自行车靠边即可
- D. 以上都不正确

我的答案： A B C D

74. 在 roundabout 内遇到自行车时，应怎样做？

- A. 不要在圆环内超越自行车
- B. 必须按喇叭要求其离开车道
- C. 可以从右侧挤过去
- D. 以上都不正确

我的答案： A B C D

75. 遇到 aggressive driver 时，哪种做法最安全？

- A. 保持冷静，避免眼神挑衅，安全远离
- B. 加速抢回位置
- C. 用喇叭和手势回应
- D. 以上都不正确

我的答案： A B C D

76. 疲劳驾驶出现打哈欠、记不清刚开过的路、偏离车道等症状时，应怎么做？

- A. 找安全地点停车休息或小睡
- B. 打开车窗继续开
- C. 把音乐调大继续开
- D. 以上都不正确

我的答案： A B C D



77. 道路施工区的 flagger 指挥是否必须服从？

- A. 必须，flagger 有与标志相同的指挥效力
- B. 不用，只看信号灯
- C. 只在白天需要服从
- D. 以上都不正确

我的答案： A B C D

78. 如果你接近路口时绿灯刚变黄，最安全的做法是什么？

- A. 如果能安全停车就停车；若已经太近无法安全停车，则谨慎通过
- B. 立即加速抢过路口
- C. 无论距离多近都猛踩刹车
- D. 把车停在路口中间等待

我的答案： A B C D

79. 绿箭头亮起时，驾驶人是否还需要让行路口内的行人和车辆？

- A. 需要
- B. 不需要，绿箭头表示绝对优先
- C. 只需要让行车辆，不用让行行人
- D. 只在纽约市需要

我的答案： A B C D

80. 红灯处准备右转时，哪一项是正确的？

- A. 必须先完全停车，并确认没有禁止转弯标志
- B. 只要路口空就不用停车
- C. 纽约市所有路口都可以红灯右转
- D. 红灯右转时不用让行行人

我的答案： A B C D



81. 如果行人已经在人行横道内，即使你有绿灯，你应怎么做？

- A. 让行并等待其安全通过
- B. 鸣喇叭让他们让开
- C. 绕到他们前方通过
- D. 只要你是绿灯就可以先走

我的答案： A B C D

82. 无信号路口两车同时到达，一车在你右侧。你应怎么做？

- A. 让右侧车辆先行
- B. 你先走，因为你已经到达
- C. 两车同时进入路口
- D. 按喇叭后抢先通过

我的答案： A B C D

83. 你从小路或 driveway 进入主路时，必须让行谁？

- A. 道路上的车辆和行人
- B. 只让行车辆
- C. 只让行行人
- D. 不需要让行

我的答案： A B C D

84. 进入 roundabout 前，最重要的让行规则是什么？

- A. 让行已经在 roundabout 内的交通
- B. 进入车辆永远优先
- C. 只让行大型车辆
- D. 先到入口者永远先行

我的答案： A B C D



85. 你正在等左转，信号灯变红但你已经在路口内，应怎么做？

- A. 在安全时完成转弯，清空路口
- B. 倒车回停车线后面
- C. 停在路口中间直到下个绿灯
- D. 立即左转不管对向车

我的答案： A B C D

86. 在纽约，哪些地点通常禁止 U-turn？

- A. 学校区域、纽约市商业区、有限通行高速和有禁止掉头标志处
- B. 所有住宅街道
- C. 所有没有信号灯的路口
- D. 所有单行道出口

我的答案： A B C D

87. 在弯道或坡顶附近掉头时，其他驾驶人至少要能从多远看到你的车？

- A. 500 英尺
- B. 200 英尺
- C. 100 英尺
- D. 50 英尺

我的答案： A B C D

88. 变道前，除了打转向灯，还必须做什么？

- A. 看后视镜并回头检查盲区，确认安全
- B. 只看前方即可
- C. 只要速度更快就可以变道
- D. 先轻踩刹车让后车让路

我的答案： A B C D



89. 超车时能否为了尽快通过而超过限速？

- A. 不能
- B. 可以，只能超过 5 mph
- C. 可以，只要没有警察
- D. 只在高速上可以

我的答案： A B C D

90. 对向车辆接近时，什么时候不能开始左侧超车？

- A. 如果不能在对向车辆到达 200 英尺前安全回到右侧车道
- B. 如果对向车辆在 1 英里外
- C. 只要你打灯就都可以
- D. 只在夜间不能

我的答案： A B C D

91. 在双向道路上，距离铁路道口多少英尺内不能左侧超车？

- A. 100 英尺
- B. 200 英尺
- C. 500 英尺
- D. 15 英尺

我的答案： A B C D

92. 前车在人行横道前停车让行行人时，你应该怎么做？

- A. 不得超越该车
- B. 从左侧超越
- C. 从右侧超越
- D. 鸣喇叭后通过

我的答案： A B C D



93. 校车红灯闪烁并停车时，你应停在多远以外？

- A. 至少 20 英尺
- B. 至少 15 英尺
- C. 至少 50 英尺
- D. 至少 100 英尺

我的答案： A B C D

94. 在纽约 divided highway 对向侧有校车红灯闪烁时，你是否必须停车？

- A. 必须
- B. 不必
- C. 只有没有中央隔离带时必须
- D. 只有校车旁有学生时必须

我的答案： A B C D

95. 校车黄灯闪烁时通常意味着什么？

- A. 校车即将停车上下学生，应减速准备停车
- B. 可以超车
- C. 校车发生故障
- D. 校车允许你从右侧通过

我的答案： A B C D

96. 在纽约，NO PARKING 区域允许什么？

- A. 临时停车装卸货物或上下乘客
- B. 长时间停车等待
- C. 离开车辆办事
- D. 停车过夜

我的答案： A B C D



97. 在纽约，NO STANDING 区域允许什么？

- A. 临时停车上下乘客
- B. 装卸货物
- C. 长时间等人
- D. 驾驶人离开车辆

我的答案： A B C D

98. 纽约消防栓多少英尺内通常不能停车、停站或停车等候？

- A. 15 英尺
- B. 20 英尺
- C. 30 英尺
- D. 50 英尺

我的答案： A B C D

99. 路口 crosswalk 多少英尺内通常不能 parking 或 standing？

- A. 20 英尺
- B. 15 英尺
- C. 30 英尺
- D. 50 英尺

我的答案： A B C D

100. 铁路道口多少英尺内通常不能停车？

- A. 50 英尺
- B. 15 英尺
- C. 20 英尺
- D. 100 英尺

我的答案： A B C D



101. 纽约市未另有标示时，通常最高限速是多少？

- A. 25 mph
- B. 35 mph
- C. 45 mph
- D. 55 mph

我的答案： A B C D

102. 纽约市以外没有标示限速时，纽约手册给出的最高速度是多少？

- A. 55 mph
- B. 65 mph
- C. 45 mph
- D. 25 mph

我的答案： A B C D

103. 即使没有超过标示限速，什么时候也可能速度过快？

- A. 雨雪雾、湿滑、交通拥挤或能见度差时
- B. 永远不会
- C. 只有夜间
- D. 只有高速公路

我的答案： A B C D

104. 使用 two-second rule 时，如果你数完前就到达同一参照物，说明什么？

- A. 跟车太近
- B. 跟车距离足够
- C. 车速太慢
- D. 必须变道

我的答案： A B C D



105. 在坏天气或跟随大型车辆时，跟车距离应怎样调整？

- A. 增加到至少 3 或 4 秒
- B. 减少到 1 秒
- C. 保持 2 秒不变
- D. 只看限速，不看距离

我的答案： A B C D

106. 纽约驾驶时手持手机通话的第一违规可能带来什么后果？

- A. 最高 \$200 罚款和 5 分
- B. 只会警告
- C. 自动吊销一年
- D. 没有任何分数

我的答案： A B C D

107. 纽约开车时使用便携电子设备发短信是否合法？

- A. 违法
- B. 合法，只要车速低
- C. 只在高速公路违法
- D. 只有未成年人违法

我的答案： A B C D

108. 纽约 4 岁以下儿童通常必须使用什么？

- A. 联邦批准的儿童安全座椅
- B. 成人安全带即可
- C. 不需要约束
- D. 只需要坐后排

我的答案： A B C D



109. 儿童后向式安全座椅能否放在有乘客安全气囊的前座？

- A. 绝对不可以
- B. 可以，只要系紧
- C. 只在低速道路可以
- D. 只在短途可以

我的答案： A B C D

110. 纽约 aggravated DWI 的 BAC 标准是多少？

- A. .18 或更高
- B. .08 或更高
- C. .05 或更高
- D. .02 或更高

我的答案： A B C D

111. 纽约 implied consent law 的核心含义是什么？

- A. 驾驶即同意在酒精/药物相关逮捕后接受化学测试
- B. 驾驶即同意任何时候搜车
- C. 驾驶即同意放弃保险
- D. 驾驶即同意永远不能听证

我的答案： A B C D

112. 咖啡、冷水澡或运动能让 BAC 迅速下降吗？

- A. 不能，只有时间能有效降低 BAC
- B. 咖啡可以
- C. 冷水澡可以
- D. 运动可以

我的答案： A B C D



113. 纽约公共道路机动车内，驾驶人或乘客持有打开的酒精饮料是否合法？

- A. 违法
- B. 乘客合法
- C. 车辆停着就合法
- D. 只在高速违法

我的答案： A B C D

114. 铁路道口红灯闪烁或栏杆下降时，应停在离铁轨至少多远？

- A. 至少 15 英尺
- B. 至少 20 英尺
- C. 至少 50 英尺
- D. 至少 100 英尺

我的答案： A B C D

115. 车辆卡在铁轨上且火车接近时，离车后应往哪个方向跑？

- A. 朝火车来的方向，并以 45 度角远离铁轨
- B. 沿火车前进方向跑
- C. 留在车旁等待
- D. 跑到车后方推车

我的答案： A B C D

116. 纽约 expressway 通常限速是多少，除非另有标示？

- A. 55 mph，部分乡村地区可标示 65 mph
- B. 70 mph
- C. 45 mph
- D. 25 mph

我的答案： A B C D



117. 错过 expressway 出口时，正确做法是什么？

- A. 继续到下一个出口
- B. 倒车回出口
- C. 穿越中央隔离带
- D. 停在路肩等机会

我的答案： A B C D

118. 驶入 expressway 时，通常应怎样并入？

- A. 利用入口匝道加速接近车流速度，打灯并安全并入
- B. 在匝道末端永远停车
- C. 低速直接切入主路
- D. 从路肩加速超车

我的答案： A B C D

119. 驶离 expressway 前，至少应提前多远打信号？

- A. 至少 100 英尺
- B. 至少 15 英尺
- C. 至少 20 英尺
- D. 至少 500 英尺

我的答案： A B C D

120. 纽约什么时候必须开前照灯？

- A. 日落后半小时至日出前半小时、能见度低于 1,000 英尺、以及雨雪雾需用雨刷时
- B. 只有完全黑夜
- C. 只有高速公路
- D. 只有下雪时

我的答案： A B C D



121. 对向车辆接近时，远光灯应在多少英尺内切换近光？

- A. 500 英尺
- B. 200 英尺
- C. 100 英尺
- D. 50 英尺

我的答案： A B C D

122. 跟随前车时，远光灯应在多少英尺内切换近光？

- A. 200 英尺
- B. 500 英尺
- C. 100 英尺
- D. 50 英尺

我的答案： A B C D

123. 车辆开始 hydroplane 时，正确做法是什么？

- A. 进一步减速，避免急刹和急打方向
- B. 加速通过积水
- C. 猛踩刹车
- D. 立刻拉手刹

我的答案： A B C D

124. 后轮在冰雪中打滑时，应向哪里转方向盘？

- A. 朝车辆试图滑去的方向
- B. 朝相反方向猛转
- C. 保持方向盘不动
- D. 先关掉发动机

我的答案： A B C D



125. 纽约金属钉胎允许使用的日期范围是什么？

- A. 10 月 16 日至 4 月 30 日
- B. 全年
- C. 12 月 1 日至 2 月 1 日
- D. 只在下雪当天

我的答案： A B C D

126. 疲劳驾驶出现打哈欠、偏离车道、记不清刚开过路段时，应怎么做？

- A. 找安全地点停车休息
- B. 打开车窗继续开
- C. 把音乐调大继续开
- D. 喝咖啡后立即继续长途驾驶

我的答案： A B C D

127. 工作区遇到 flagger 指挥时，你应怎么做？

- A. 服从 flagger 指挥
- B. 只看信号灯，不管 flagger
- C. 如果赶时间可绕过
- D. 只在白天服从

我的答案： A B C D

128. 施工区驾驶时，哪种做法正确？

- A. 减速、保持安全距离、服从标志和工作人员
- B. 保持原速度
- C. 靠近前车防止插队
- D. 只在看到工人时减速

我的答案： A B C D



129. 摩托车在车道中的权利与汽车相比如何？

- A. 摩托车有权使用完整车道
- B. 摩托车必须贴右边缘行驶
- C. 汽车可以与摩托车并排挤在同一车道
- D. 摩托车只在高速上有车道权

我的答案： A B C D

130. 跟随摩托车时，为什么应留出更大的跟车距离？

- A. 摩托车可能更快停车或为避开小障碍突然改变位置
- B. 摩托车刹车距离一定比汽车长很多
- C. 摩托车永远不会突然减速
- D. 只有夜间需要留距离

我的答案： A B C D

131. 左转前为什么要特别寻找摩托车？

- A. 摩托车体积小，速度和距离更容易被误判
- B. 摩托车没有先行权
- C. 摩托车只能从右侧来
- D. 摩托车必须自己避让所有左转车辆

我的答案： A B C D

132. 准备变道时，为什么必须检查盲区中的摩托车？

- A. 摩托车很容易隐藏在汽车盲区内
- B. 摩托车总会鸣喇叭提醒你
- C. 只看后视镜永远足够
- D. 摩托车不能在多车道道路上行驶

我的答案： A B C D



133. 在同一车道内超越摩托车，正确做法是什么？

- A. 像超车汽车一样换到相邻车道并保持安全距离
- B. 在同一车道内贴近挤过去
- C. 鸣喇叭让摩托车让到路肩
- D. 只要车速低就可以并排行驶

我的答案： A B C D

134. 自行车在纽约道路上的基本地位是什么？

- A. 自行车属于道路交通的一部分，驾驶人应按车辆共享道路
- B. 自行车只能在人行道上行驶
- C. 自行车永远没有路权
- D. 汽车可以要求自行车离开车道

我的答案： A B C D

135. 超越自行车时应怎样做？

- A. 从左侧以安全距离通过，直到完全超过自行车
- B. 贴近同一车道通过
- C. 从右侧通过
- D. 鸣喇叭后立即加速通过

我的答案： A B C D

136. 右转前为什么要检查右侧自行车道或路肩？

- A. 自行车可能直行进入你的转弯路径
- B. 自行车必须永远在你后面
- C. 右转车辆永远优先
- D. 只有在有红灯时需要检查

我的答案： A B C D



137. 打开车门前，驾驶人和乘客应先做什么？

- A. 检查后方和旁边是否有自行车、摩托车或车辆接近
- B. 立即开门，因为停着的车有优先权
- C. 只检查前方
- D. 只在夜间需要检查

我的答案： A B C D

138. 看到骑车人绕开坑洞、排水口或碎石时，你应怎样理解？

- A. 预留空间，因为这些小障碍对自行车更危险
- B. 鸣喇叭要求其保持直线
- C. 贴近通过以免被挡路
- D. 认为骑车人违规

我的答案： A B C D

139. 遇到使用白手杖或导盲犬的行人时，应怎么做？

- A. 完全让行并特别谨慎
- B. 鸣喇叭让其加快
- C. 只在有信号灯时让行
- D. 从其前方快速通过

我的答案： A B C D

140. 行人、老人或行动不便者过街较慢时，驾驶人应怎么做？

- A. 耐心等待，给他们足够时间和空间
- B. 鸣喇叭催促
- C. 贴近他们前方通过
- D. 只要绿灯变了就前进

我的答案： A B C D



141. 大型卡车和公交车周围的 No-Zone 指什么？

- A. 驾驶人视线受限的盲区
- B. 专供小车超车的区域
- C. 紧急停车区
- D. 允许跟车更近的区域

我的答案： A B C D

142. 如果你看不到大型卡车的侧后视镜，通常说明什么？

- A. 卡车驾驶人可能也看不到你
- B. 你一定在安全位置
- C. 你可以放心加速通过
- D. 卡车必须让你先行

我的答案： A B C D

143. 为什么不能在大型卡车或公交车前方突然切入？

- A. 大型车辆需要更长距离停车
- B. 大型车辆停车距离比小车短
- C. 大型车辆驾驶人总能立即看到你
- D. 只在下雨时危险

我的答案： A B C D

144. 大型卡车右转时，你为什么不应从其右侧挤过去？

- A. 大型车可能需要先向左摆再右转，右侧空间会被挤占
- B. 卡车右转时右侧永远安全
- C. 卡车必须保持在最右边不摆动
- D. 只有摩托车需要避开

我的答案： A B C D



145. 跟在大型卡车后面太近有什么风险？

- A. 你会看不到前方路况，也可能处在卡车后方盲区
- B. 卡车会帮你挡住所有危险
- C. 这样最省油且安全
- D. 卡车驾驶人一定能通过后视镜看到你

我的答案： A B C D

146. 看到橙色三角形慢速车辆标志时，通常表示什么？

- A. 前方车辆行驶速度很低，可能是农用或维护车辆
- B. 前方车辆会高速行驶
- C. 道路完全关闭
- D. 只能紧跟通过

我的答案： A B C D

147. 遇到骑马者或马车时，驾驶人应怎样做？

- A. 减速、留足空间，避免突然鸣喇叭或惊吓动物
- B. 贴近通过以尽快离开
- C. 持续鸣喇叭提醒
- D. 只有在乡村道路才需要注意

我的答案： A B C D

148. 在大型车辆旁边长时间并排行驶为什么危险？

- A. 你可能停留在侧方 No-Zone 盲区内
- B. 大型车旁边空气永远更稳定
- C. 这样能让大型车更容易转弯
- D. 只有夜间危险

我的答案： A B C D



149. 为什么在公交车站附近要特别注意行人？

- A. 乘客可能从公交车前后突然出现或横穿道路
- B. 公交车站附近没有行人
- C. 公交车会替你观察所有行人
- D. 只在学校区域需要注意

我的答案： A B C D

150. 学校巴士载有学生时，可以在红灯处右转吗？

- A. 不可以
- B. 可以，先完全停车即可
- C. 只在纽约市不可以
- D. 只在没有行人时可以

我的答案： A B C D

151. 黄色箭头灯表示什么？

- A. 绿箭头保护即将结束，准备停车
- B. 必须立即加速转弯
- C. 只能直行
- D. 箭头方向永远禁止通行

我的答案： A B C D

152. 车道上方显示红色 X 时，该车道可以使用吗？

- A. 不可以
- B. 可以，只要车道空
- C. 只可以超车时短暂使用
- D. 只可以夜间使用

我的答案： A B C D



153. 车道上方显示黄色 X 时，正确做法是什么？

- A. 离开该车道
- B. 加速通过该车道
- C. 只用于左转
- D. 停车在车道内等待

我的答案： A B C D

154. 车道上方闪烁黄色 X 通常表示什么？

- A. 该车道只能用于左转
- B. 该车道完全关闭
- C. 该车道限速取消
- D. 该车道只给公交车

我的答案： A B C D

155. 必须停车时，有白色停止线和人行横道线，应该停在哪里？

- A. 到达停止线前停下
- B. 停在人行横道中间
- C. 越过停止线后再停
- D. 只要不碰到行人即可

我的答案： A B C D

156. 你的车道一侧是实线、对向一侧是虚线时，你可以跨线超车吗？

- A. 不可以，除非按规定左转进出道路
- B. 可以，只要对向没车
- C. 只可以超越慢车
- D. 只在白天可以

我的答案： A B C D



157. 道路边缘实线通常表示什么？

- A. 行车道结束、路肩开始的位置
- B. 可以任意行驶的额外车道
- C. 专用超车车道
- D. 停车专用区

我的答案： A B C D

158. 工作区限速最低可能被标示为多少？

- A. 25 mph
- B. 35 mph
- C. 45 mph
- D. 55 mph

我的答案： A B C D

159. 进入工作区后，flagger 的指挥和普通交通标志相比应如何处理？

- A. 按 flagger 指挥行驶
- B. 只看信号灯，不看 flagger
- C. 只有警察的指挥才有效
- D. flagger 只能建议，不能要求

我的答案： A B C D

160. 另一辆车已经在路口内左转，你面对绿灯直行时应怎么做？

- A. 让它完成转弯后再进入
- B. 立刻直行，因为绿灯优先
- C. 鸣喇叭并从它前方通过
- D. 只要不碰撞就挤过去

我的答案： A B C D



161. 左转进入 driveway 或停车场时，对向车辆接近，你应怎么做？

- A. 让行对向交通
- B. 对向车必须让你
- C. 只要打左转灯即可先转
- D. 停在对向车道中等待

我的答案： A B C D

162. 红灯变绿时，行人仍在横道内，你可以开始转弯吗？

- A. 不可以，应让行人通过
- B. 可以，因为行人应停下
- C. 可以，只要转弯很慢
- D. 只在右转时可以

我的答案： A B C D

163. 听到附近警笛但不知道紧急车辆在哪里，应怎么做？

- A. 安全靠右停车，直到确定它不是朝你驶来
- B. 继续原速行驶
- C. 停在路口中央观察
- D. 加速离开附近区域

我的答案： A B C D

164. 私人车辆显示蓝灯、绿灯或琥珀灯时，你是否法律上必须让行？

- A. 通常不强制，但安全时应礼让
- B. 必须像警车一样立即靠边
- C. 必须停在原车道
- D. 只要是蓝灯就一定是授权紧急车辆

我的答案： A B C D



165. 右转前，车辆位置应尽量在哪里？

- A. 尽量靠道路右侧
- B. 尽量靠车道中心线
- C. 从左侧车道转
- D. 先向左大幅摆出

我的答案： A B C D

166. 三点掉头第一步通常应做什么？

- A. 打右转灯，靠右停车，再打左转灯并检查各方向
- B. 直接左转横过道路
- C. 先倒车到对向车道
- D. 不用打灯，快速完成

我的答案： A B C D

167. 超车或变道前，仅看后视镜够不够？

- A. 不够，还要快速回头检查盲区
- B. 够，只要后视镜调整正确
- C. 只在高速上需要回头
- D. 只在夜间需要回头

我的答案： A B C D

168. 完成左侧超车后，何时回到右车道较安全？

- A. 能在内后视镜看到被超车辆前保险杠，并回头确认有空间后
- B. 刚超过车尾就立即回去
- C. 不打灯直接回去
- D. 只要对向没车就回去

我的答案： A B C D



169. 前车正在左转时，你可以在什么前提下从右侧通过？

- A. 只有在必要且安全，并且不驶上路肩或越过边缘线时
- B. 任何时候都可以
- C. 只能驶上路肩绕过
- D. 只要鸣喇叭即可

我的答案： A B C D

170. 两向道路接近弯道或坡顶，看不清前方时可以左侧超车吗？

- A. 不可以
- B. 可以，只要前车慢
- C. 可以，只要鸣喇叭
- D. 只在白天可以

我的答案： A B C D

171. 两向道路上，在视线受阻的桥梁、隧道或高架桥 100 英尺内能左侧超车吗？

- A. 不可以
- B. 可以，只要没有黄线
- C. 可以，只要限速低
- D. 只在夜间不可以

我的答案： A B C D

172. 平行停车选车位并准备停车前，应先做什么？

- A. 检查后视镜并打信号提醒后车
- B. 突然停车让后车反应
- C. 打开远光灯
- D. 不用观察后方

我的答案： A B C D



173. 平行停车倒车时，应主要看哪里？

- A. 通过后窗向后看，同时偶尔检查侧方和前方
- B. 只看倒车镜
- C. 只看前方
- D. 只看仪表盘

我的答案： A B C D

174. 山坡停车后，除了转动车轮外还应做什么？

- A. 拉紧停车制动，并把自动挡置于 Park
- B. 只开双闪即可
- C. 保持空挡
- D. 不用做其他操作

我的答案： A B C D

175. 双排停车在纽约规则中如何处理？

- A. 不得停车、停站或停车等候
- B. 只要开双闪就可以
- C. 只允许 5 分钟
- D. 只在住宅区禁止

我的答案： A B C D

176. 在人行道或人行横道上可以停车、停站或停车等候吗？

- A. 不可以
- B. 可以，只要很快
- C. 只要车内有人就可以
- D. 只在没有行人时可以

我的答案： A B C D



177. 消防站车道同侧多少英尺内通常不能 parking 或 standing ?

- A. 20 英尺
- B. 30 英尺
- C. 50 英尺
- D. 75 英尺

我的答案： A B C D

178. 在消防站车道对面多少英尺内通常不能 parking 或 standing ?

- A. 75 英尺
- B. 20 英尺
- C. 30 英尺
- D. 50 英尺

我的答案： A B C D

179. 防御驾驶中，为什么不能只盯着前车？

- A. 应持续扫描前方、两侧和后方，提前发现问题
- B. 前车会替你发现所有危险
- C. 只看前车最省力且最安全
- D. 只在高速上需要看远

我的答案： A B C D

180. 遇到 aggressive driver 挑衅时，应怎么做？

- A. 保持冷静，避免眼神接触，安全远离
- B. 加速挑战对方
- C. 挡住自己的车道不让
- D. 停车下车争论

我的答案： A B C D



181. 如果 aggressive driver 跟着你，正确做法是什么？

- A. 不要停车或下车，开到最近的警察局
- B. 开回家让对方知道地址
- C. 停在路边争论
- D. 突然刹车警告对方

我的答案： A B C D

182. 工作区最常见的碰撞类型是什么？

- A. 追尾碰撞
- B. 正面碰撞
- C. 倒车碰撞
- D. 停车场擦碰

我的答案： A B C D

183. 工作区罚款在什么情况下可能加倍？

- A. 即使工人或工程车辆不在现场也可能加倍
- B. 只有夜间施工时
- C. 只有发生事故时
- D. 只有限速低于 25 mph 时

我的答案： A B C D

184. 接近现代 roundabout 时，应先看哪个方向的车流？

- A. 看左侧，圆环内车流有先行权
- B. 只看右侧
- C. 只看后方
- D. 不用看，进入车辆优先

我的答案： A B C D



185. 在 roundabout 内遇到自行车，应如何处理？

- A. 不要在圆环内超越自行车
- B. 贴近从右侧通过
- C. 鸣喇叭要求其退出车道
- D. 自行车必须下车走人行道

我的答案： A B C D

186. 成年人坐在有安全气囊的位置时，胸部中心与气囊盖至少应保持多远？

- A. 至少 10 英寸
- B. 至少 3 英寸
- C. 至少 5 英寸
- D. 至少 20 英寸

我的答案： A B C D

187. 后向式婴儿安全座椅可以放在有乘客安全气囊的前座吗？

- A. 绝对不可以
- B. 可以，只要座椅固定好
- C. 可以，只在低速道路上
- D. 可以，只要成年人坐旁边

我的答案： A B C D

188. 处方药、非处方感冒药或过敏药会影响驾驶吗？

- A. 会，应查看警告并询问医生或药剂师
- B. 不会，只有酒精会影响驾驶
- C. 只有非法药物会影响驾驶
- D. 只有晚上服用才影响

我的答案： A B C D



189. 服药时喝酒为什么危险？

- A. 酒精和药物作用可能互相增强
- B. 药物会立即消除酒精影响
- C. 只会让人更清醒
- D. 只影响乘客不影响驾驶人

我的答案： A B C D

190. 纽约 BAC 超过多少可作为 ability impaired 的法律证据？

- A. 0.05%
- B. 0.02%
- C. 0.08%
- D. 0.18%

我的答案： A B C D

191. 纽约 BAC 达到多少通常是 DWI/intoxication 的证据？

- A. 0.08% 或更高
- B. 0.02% 或更高
- C. 0.05% 或更高
- D. 0.18% 以下都不算

我的答案： A B C D

192. 纽约 BAC 达到多少属于 aggravated DWI 的证据？

- A. 0.18% 或更高
- B. 0.08% 或更高
- C. 0.05% 或更高
- D. 0.02% 或更高

我的答案： A B C D



193. 咖啡、运动或冷水澡能快速降低 BAC 吗？

- A. 不能，只有时间能有效降低 BAC
- B. 能，咖啡最快
- C. 能，运动最快
- D. 能，冷水澡最快

我的答案： A B C D

194. 纽约 implied consent 法意味着什么？

- A. 在纽约开车即视为同意酒药相关逮捕后的化学测试
- B. 可以拒绝所有测试且无后果
- C. 只有商用驾驶人才适用
- D. 只适用于血液测试

我的答案： A B C D

195. 21 岁以下驾驶人触发 zero tolerance 的 BAC 范围是什么？

- A. 0.02% 到 0.07%
- B. 0.08% 到 0.17%
- C. 0.18% 以上
- D. 只有 0.00% 才违法

我的答案： A B C D

196. 铁路道口应如何看待？

- A. 把它视为路口，并始终预期可能有火车
- B. 只在有栏杆时当作路口
- C. 只在夜间危险
- D. 没有信号就不用减速

我的答案： A B C D



197. 铁路道口有多条轨道时，一列火车通过后应立即通过吗？

- A. 不应，应确认所有轨道双向都无其他火车
- B. 应该，第一列通过后一定安全
- C. 只要栏杆开始升起就立即通过
- D. 只看最近的轨道即可

我的答案： A B C D

198. 前方交通堵塞，铁路另一侧没有足够空间，你可以上轨道等待吗？

- A. 不可以，必须等到车能完全越过所有轨道
- B. 可以，只要没有火车
- C. 可以，只要栏杆升起
- D. 只在白天可以

我的答案： A B C D

199. 跟随公交车或某些卡车接近铁路道口时，为什么要小心？

- A. 它们可能必须在所有铁路道口停车
- B. 它们会加速冲过铁路
- C. 它们不用遵守铁路信号
- D. 它们会在轨道上倒车

我的答案： A B C D

200. 主动铁路道口的栏杆和红灯结束后，什么时候可以通过？

- A. 栏杆完全升起、红灯和铃声停止，并确认安全后
- B. 火车尾部刚过就立刻走
- C. 栏杆开始升起时就走
- D. 只要后车鸣喇叭就走

我的答案： A B C D



201. 看到 STOP 标志时，正确做法是什么？



- A. 完全停下，按规则让行，安全时再走
- B. 只要没有车就慢慢通过
- C. 只需要让行行人，不必停车
- D. 以上都不正确

我的答案： A B C D

202. 看到 YIELD 标志时，应当怎么做？



- A. 减速，必要时完全停下，让行车辆和行人
- B. 永远完全停车 3 秒
- C. 有优先权，可以直接通过
- D. 以上都不正确

我的答案： A B C D



203. 看到这个红色八边形标志时必须做什么？



- A. 在停车线或人行横道前完全停下，再安全通行
- B. 若无行人可减速通过
- C. 只需让行行人，不必停车
- D. 以上都不正确

我的答案： A B C D

204. 在四向停车路口看到这个标志时，通行顺序如何？



- A. 按到达顺序依次通行，同时让行行人和右侧车辆
- B. 先来的车都让右侧车先走
- C. 若无行人可不必完全停
- D. 以上都不正确

我的答案： A B C D



205. 这个“EXCEPT RIGHT TURN”配合红灯时表示什么？



- A. 红灯时仅允许右转无需停
- B. 红灯时仅允许右转，仍需完全停下并让行
- C. 仅左转时需要停
- D. 以上都不正确

我的答案： A B C D

206. 这个箭头标志要求你在红灯时做什么？



- A. 在箭头指示位置完全停下
- B. 在路口中心停下
- C. 减速到 5 mph 即可
- D. 以上都不正确

我的答案： A B C D



207. 看到这个红底白字标志时应怎样？



- A. 继续前进，前方有优先权
- B. 立即停车并安全掉头或驶离
- C. 靠右慢行观察
- D. 以上都不正确

我的答案： A B C D

208. 遇到这个倒三角标志时你应做什么？



- A. 减速并在必要时完全停下，让行车辆和行人
- B. 有优先权可直接通过
- C. 只对行人让行，不管车辆
- D. 以上都不正确

我的答案： A B C D



209. 这个标志告诉你在窄桥或临时通行时应当做什么？



- A. 你有优先通行权
- B. 让行对向来车，必要时停下
- C. 两侧车辆同时通行
- D. 以上都不正确

我的答案： A B C D

210. 这个标志提示什么道路情况？



- A. 前方道路合流
- B. 前方进入分隔公路，有中央隔离
- C. 双向单车道
- D. 以上都不正确

我的答案： A B C D



211. 看到这个标志时你可以做什么？



- A. 可短暂停车上下客
- B. 禁止停车，但可短暂停靠即走人
- C. 可自由停车
- D. 以上都不正确

我的答案： A B C D

212. 这个标志说明在红灯时如何左转？



- A. 红灯禁止左转
- B. 红灯左转需先停后转
- C. 仅绿箭头允许左转
- D. 以上都不正确

我的答案： A B C D



213. 碰到这个标志时你可以左转吗？



- A. 任何时候都禁止左转
- B. 仅红灯时禁止左转
- C. 仅高峰时段禁止左转
- D. 以上都不正确

我的答案： A B C D

214. 这个标志对自行车意味着什么？



- A. 禁止自行车通行
- B. 仅夜间禁止自行车
- C. 要求下车推行
- D. 以上都不正确

我的答案： A B C D



215. 绿灯左转时看到这个标志应如何？



- A. 绿灯左转前先让行对向直行/行人
- B. 绿灯左转拥有绝对优先权
- C. 红灯也可左转
- D. 以上都不正确

我的答案： A B C D

216. 遇到这个标志你应如何行驶？



- A. 保持在隔离或障碍物右侧通行
- B. 保持左侧行驶
- C. 可以在任意一侧通过
- D. 以上都不正确

我的答案： A B C D



217. 这个标志对超车的要求是什么？



- A. 允许超车，但必须小心并确保安全
- B. 禁止任何超车
- C. 仅卡车可超车
- D. 以上都不正确

我的答案： A B C D

218. 看到这个标志时应该怎么做？



- A. 禁止进入对向车道超车
- B. 仅可在白天超车
- C. 小心左转
- D. 以上都不正确

我的答案： A B C D



219. 遇到这个红圆标志时正确动作是？



- A. 立即停车并掉头，勿进入
- B. 慢行通过
- C. 仅夜间禁止进入
- D. 以上都不正确

我的答案： A B C D

220. 这个标志对行人意味着什么？



- A. 禁止行人进入或穿越此区域
- B. 仅夜间禁止行人
- C. 可在人行道通行
- D. 以上都不正确

我的答案： A B C D



221. 看到这个标志时是否可以右转？



- A. 禁止右转
- B. 仅红灯禁止右转
- C. 仅卡车禁止右转
- D. 以上都不正确

我的答案： A B C D

222. 这个标志对卡车驾驶员意味着什么？



- A. 禁止卡车通行
- B. 卡车限速 25 mph
- C. 仅允许卡车通行
- D. 以上都不正确

我的答案： A B C D



223. 这个标志在红灯时的要求是？



- A. 红灯禁止任何转弯
- B. 红灯仅禁止右转
- C. 红灯可慢行转弯
- D. 以上都不正确

我的答案： A B C D

224. 这个标志对红灯右转的限制是？



- A. 红灯禁止右转
- B. 红灯可在停稳后右转
- C. 仅高峰禁止右转
- D. 以上都不正确

我的答案： A B C D



225. 这个标志对掉头的规定是什么？



- A. 禁止掉头
- B. 只在红灯时禁止掉头
- C. 需要让行后可掉头
- D. 以上都不正确

我的答案： A B C D

226. 这个标志的含义是什么？



- A. 道路为单行道，交通方向指向左侧
- B. 左转禁止
- C. 仅公交可走左侧
- D. 以上都不正确

我的答案： A B C D



227. 看到这个标志在左转时应注意什么？



- A. 对向直行可能保持更久的绿灯，需让行
- B. 你拥有更长绿灯可优先通行
- C. 红灯时可左转
- D. 以上都不正确

我的答案： A B C D

228. 这个上分支箭头标志表示什么？



- A. 前方可直行或左转
- B. 仅可左转
- C. 禁止直行
- D. 以上都不正确

我的答案： A B C D



229. 这个左转 ONLY 车道标志的要求是？



- A. 该车道仅用于左转，禁止直行
- B. 该车道优先直行
- C. 仅公交可左转
- D. 以上都不正确

我的答案： A B C D

230. 这个直行或右转标志说明什么？



- A. 此车道可直行或右转
- B. 只能右转
- C. 禁止右转
- D. 以上都不正确

我的答案： A B C D



231. 这个车道用途标志说明？



- A. 左车道仅左转，右车道可直行或左转
- B. 两车道都直行
- C. 右车道禁止右转
- D. 以上都不正确

我的答案： A B C D

232. 这个标志说明红灯时允许什么？



- A. 红灯时由右转专用信号控制，需遵守信号指示
- B. 红灯可直接右转
- C. 禁止任何转向
- D. 以上都不正确

我的答案： A B C D



233. 这个标志规定中央车道的用途是什么？



- A. 中央车道仅用于左转进出车道
- B. 中央车道允许超车
- C. 中央车道是快车道
- D. 以上都不正确

我的答案： A B C D

234. 这个标志表示什么停车要求？

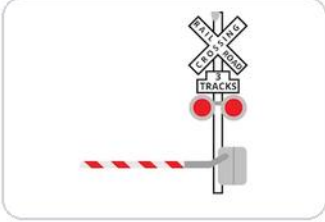


- A. 残障人士专用车位，需有效许可证
- B. 仅周末可停
- C. 访客优先停车
- D. 以上都不正确

我的答案： A B C D



235. 栏杆放下且红灯闪烁，这个标志提示你应做什么？



- A. 在栏杆前完全停下，等信号解除再通过
- B. 绕过栏杆快速通过
- C. 只要听不到火车即可通过
- D. 以上都不正确

我的答案： A B C D

236. 这个交叉形铁路标志意味着什么？



- A. 铁路道口，视作让行标志，需让行火车
- B. 仅公交需要停车
- C. 可加速通过
- D. 以上都不正确

我的答案： A B C D



237. 这个右转 ONLY 标志要求？



- A. 该车道仅可右转，禁止直行
- B. 右转优先但可直行
- C. 禁止右转
- D. 以上都不正确

我的答案： A B C D

238. 这个标志对路肩停车的规定是？



- A. 仅紧急情况可在此停车
- B. 允许临时休息
- C. 允许装卸货物
- D. 以上都不正确

我的答案： A B C D



239. 看到这个 NO TURNS 标志时怎么开？



- A. 禁止左转、右转和掉头，只能直行
- B. 禁止左转但可右转
- C. 仅禁止掉头
- D. 以上都不正确

我的答案： A B C D

240. 这个最小限速标志的要求是？



- A. 除特殊情况外车速不得低于 40 mph
- B. 最高限速 40 mph
- C. 建议速度 40 mph
- D. 以上都不正确

我的答案： A B C D



241. 这个组合限速牌表示什么？



- A. 最高 55 mph，最低 45 mph
- B. 建议 55 mph
- C. 固定速度 45 mph
- D. 以上都不正确

我的答案： A B C D

242. 遇到这个 ROAD CLOSED 标志时？



- A. 前方道路封闭，必须改道
- B. 仅夜间封闭
- C. 当地居民可通过
- D. 以上都不正确

我的答案： A B C D



243. 这个标志要求慢车如何行驶？



- A. 车速较慢需靠右行驶或让行
- B. 快车靠右，慢车靠左
- C. 仅卡车靠右
- D. 以上都不正确

我的答案： A B C D

244. 这个 WHEN CHILDREN ARE PRESENT 标志与限速有何关系？



- A. 儿童在场时需按校区限速行驶
- B. 儿童在场时禁止通行
- C. 仅晚上适用
- D. 以上都不正确

我的答案： A B C D



245. 这个校区限速牌在灯闪烁时要求什么？



- A. 灯闪烁时限速 20 mph，并注意行人/校车
- B. 任何时候都 20 mph
- C. 仅周末 20 mph
- D. 以上都不正确

我的答案： A B C D

246. ALL YEAR 字样的黄牌说明什么？



- A. 校区限速全年有效，不分学期
- B. 仅夏季有效
- C. 限速仅夜间
- D. 以上都不正确

我的答案： A B C D



247. WHEN FLASHING 白底牌通常表示什么？



**WHEN
FLASHING**

- A. 灯闪烁时对应的限速/规则开始生效
- B. 灯闪烁时可忽略限速
- C. 仅卡车遵守
- D. 以上都不正确

我的答案： A B C D

248. END SCHOOL ZONE 表示什么？



**END
SCHOOL
ZONE**

- A. 校区限速结束，可恢复常规限速
- B. 前方开始校区
- C. 禁止经过此区域
- D. 以上都不正确

我的答案： A B C D



249. 这个竖牌提示驾驶员对斑马线的义务是？



- A. 州法要求在斑马线前让行行人，必要时停车
- B. 仅需减速无需让行
- C. 行人必须让车
- D. 以上都不正确

我的答案： A B C D

250. 这个 SCHOOL 黄牌通常意味着？



- A. 与前方警告组合，表示学校相关区域
- B. 学校停车入口
- C. 仅教师停车标识
- D. 以上都不正确

我的答案： A B C D



251. 这个持旗人标志提示你什么？



- A. 前方有交通指挥员，需减速并听从指挥
- B. 前方封路必须掉头
- C. 前方测速执法
- D. 以上都不正确

我的答案： A B C D

252. 这个 WORK ZONE 标志要求你做什么？



- A. 进入施工区必须打开车灯
- B. 关闭车灯避免眩光
- C. 鸣笛通过
- D. 以上都不正确

我的答案： A B C D



253. END ACTIVE WORK ZONE 表示什么？



- A. 正在施工的区域结束，恢复常规限速/罚则
- B. 前方开始施工
- C. 道路封闭
- D. 以上都不正确

我的答案： A B C D

254. ROAD WORK AHEAD 提示你什么？



- A. 前方有道路施工，需减速留意工人设备
- B. 道路封闭必须掉头
- C. 允许加速通过
- D. 以上都不正确

我的答案： A B C D



255. 这个工人铲土标志表示？



- A. 前方有工人作业，减速慢行
- B. 道路封闭
- C. 允许超车
- D. 以上都不正确

我的答案： A B C D

256. 这个校区限速预告告诉你什么？



- A. 前方将进入校区限速 20 mph，提前减速
- B. 校区结束
- C. 仅夜间限速
- D. 以上都不正确

我的答案： A B C D



257. 校车警告牌带行人和箭头表示？



- A. 前方校车上下学生区域，需准备停车礼让
- B. 仅公交专用道
- C. 校车不停车
- D. 以上都不正确

我的答案： A B C D

258. SCHOOL BUS STOP AHEAD 意味着？



- A. 前方校车站点，可能随时停车，上下学生时必须停
- B. 仅夜间停车
- C. 可在校车伸停牌时超车
- D. 以上都不正确

我的答案： A B C D



259. 20 MPH SCHOOL ZONE AHEAD 告诉你？



- A. 前方学校区域限速 20 mph，需提前减速
- B. 最高限速 20 mph 全程
- C. 仅夜间 20 mph
- D. 以上都不正确

我的答案： A B C D

260. ACTIVE WORK ZONE WHEN FLASHING 提示什么？



- A. 灯闪时施工区生效，可能有加重罚则
- B. 灯闪时可加速通过
- C. 仅卡车须注意
- D. 以上都不正确

我的答案： A B C D



261. ROAD CLOSED AHEAD 警告你什么？



- A. 前方道路将封闭，需提前寻找绕行
- B. 仅夜间封闭
- C. 你有优先通行权
- D. 以上都不正确

我的答案： A B C D

262. CONSTRUCTION ENTRANCE 表示什么？



- A. 施工车辆出入口，需警惕慢行
- B. 道路封闭
- C. 允许超车
- D. 以上都不正确

我的答案： A B C D



263. 黑色八边形写 SLOW 的牌子表示？



- A. 在施工区减速行驶
- B. 加速通过避免延误
- C. 仅卡车减速
- D. 以上都不正确

我的答案： A B C D

264. CONSTRUCTION 标志加上箭头表示？



- A. 前方开始施工区域，需提前减速
- B. 仅夜间施工
- C. 道路已开放无须减速
- D. 以上都不正确

我的答案： A B C D



265. ROAD MACHINERY AHEAD 意味着？



- A. 前方有施工机械缓慢移动，提前减速
- B. 仅限机械通行，禁止车辆
- C. 道路封闭
- D. 以上都不正确

我的答案： A B C D

266. DETOUR 上箭头标志要求？



- A. 按箭头方向走绕行路线
- B. 原路直行即可
- C. 掉头返回
- D. 以上都不正确

我的答案： A B C D



267. ONE LANE ROAD AHEAD 提示什么？



- A. 前方变为单车道，需减速并交替通行
- B. 仅货车单车道
- C. 允许并排行驶
- D. 以上都不正确

我的答案： A B C D

268. BE PREPARED TO STOP 要求什么？



- A. 可能需要突然停车，提前减速
- B. 必须立即停车
- C. 无需减速
- D. 以上都不正确

我的答案： A B C D



269. CONSTRUCTION VEHICLES ONLY 表示？



- A. 仅施工车辆可进入/使用该出口
- B. 私人车辆优先
- C. 仅夜间限制
- D. 以上都不正确

我的答案： A B C D

270. END ROAD WORK 意味着？



- A. 施工区结束，可恢复常规行驶/限速
- B. 前方开始施工
- C. 必须掉头
- D. 以上都不正确

我的答案： A B C D



271. LEFT LANE CLOSED AHEAD 提示？



- A. 前方左车道将关闭，应提前并线
- B. 右车道关闭
- C. 两侧车道全封闭
- D. 以上都不正确

我的答案： A B C D

272. BUMP 黄牌提示什么？



- A. 前方路面隆起/减速带，需减速
- B. 坡道上坡需加速
- C. 道路封闭
- D. 以上都不正确

我的答案： A B C D



273. NO PASSING ZONE 黄三角表示什么？



- A. 此处及前方禁止跨线超车
- B. 建议谨慎超车
- C. 仅夜间禁超
- D. 以上都不正确

我的答案： A B C D

274. 25 MPH 黄底牌通常意味着？



- A. 建议速度 25 mph (弯道/匝道等) ， 根据条件调整
- B. 强制最高限速 25
- C. 最低限速 25
- D. 以上都不正确

我的答案： A B C D



275. 这个并线标志提示什么？



- A. 右侧车道并入主线，需留意并线车辆
- B. 新增车道无需并线
- C. 左侧车道结束
- D. 以上都不正确

我的答案： A B C D

276. 这个标志对并线意味着什么？



- A. 旁侧匝道形成新增车道，无需互相抢道并线
- B. 右侧车道将结束，需要并入左侧
- C. 必须立即变道
- D. 以上都不正确

我的答案： A B C D



277. 这个分流箭头标志提示？



- A. 前方车流分为直行和右去向，提前选道
- B. 必须掉头
- C. 仅右转
- D. 以上都不正确

我的答案： A B C D

278. 这个上下箭头加隔离岛的标志提示什么？



- A. 中央分隔即将结束，前方无隔离的双向交通
- B. 开始分隔公路
- C. 道路封闭
- D. 以上都不正确

我的答案： A B C D



279. 这个右弯标志提示？



- A. 前方右向弯道，需减速
- B. 禁止右转
- C. 道路封闭
- D. 以上都不正确

我的答案： A B C D

280. 这个左弯标志要求你？



- A. 减速，准备通过左向弯道
- B. 必须左转掉头
- C. 表示道路封闭
- D. 以上都不正确

我的答案： A B C D



281. 这个三色灯警告牌提示？



- A. 前方有信号灯，需减速准备停车
- B. 信号失效可忽略
- C. 仅行人灯
- D. 以上都不正确

我的答案： A B C D

282. 车辆打滑图标提示什么？



- A. 路面潮湿易打滑，需减速平稳操控
- B. 允许漂移
- C. 仅夜间湿滑
- D. 以上都不正确

我的答案： A B C D



283. 圆形 RR 交叉警告牌意味着？



- A. 前方铁路道口，减速、听/看是否有火车
- B. 铁路已废弃
- C. 仅公交停车
- D. 以上都不正确

我的答案： A B C D

284. 这个右侧收窄标志提示？



- A. 右侧车道变窄，提前并线或留意间隙
- B. 左侧收窄
- C. 新增车道
- D. 以上都不正确

我的答案： A B C D



285. 双箭头相反方向黄牌表示？



- A. 前方或当前为无隔离双向通行
- B. 单行道开始
- C. 仅公交双向
- D. 以上都不正确

我的答案： A B C D

286. 双向绕行分隔物标志提示？



- A. 前方中央障碍/岛，车辆需分两侧绕行
- B. 道路封闭
- C. 单行道
- D. 以上都不正确

我的答案： A B C D



287. 直角左转标志警告什么？



- A. 前方急转 90° 左弯，需大幅减速
- B. 仅小弯可高速过
- C. 禁止左转
- D. 以上都不正确

我的答案： A B C D

288. 直角右转标志提示？



- A. 前方急转 90° 右弯，需减速
- B. 禁止右转
- C. 建议加速
- D. 以上都不正确

我的答案： A B C D



289. 这块“左后右”连续弯道牌告诉你？



- A. 先左后右的连续弯道，需降低车速
- B. 只有一个左弯
- C. 直路无弯
- D. 以上都不正确

我的答案： A B C D

290. 这个先右后左的连续弯道标志提示什么？



- A. 先右后左连续弯，需要减速
- B. 只有右弯
- C. 道路封闭
- D. 以上都不正确

我的答案： A B C D



291. 这个黄色右箭头长牌告诉你什么？



- A. 前方必须按箭头方向行驶/转弯
- B. 可任意方向
- C. 禁止右转
- D. 以上都不正确

我的答案： A B C D

292. 这个 T 字路口警告牌表示？



- A. 前方道路到此为止，需要左转或右转
- B. 可直行穿过
- C. 环岛在前
- D. 以上都不正确

我的答案： A B C D



293. 这个右侧支路标志表示？



- A. 前方有右侧支路接入，注意来车
- B. 必须右转
- C. 禁止右转
- D. 以上都不正确

我的答案： A B C D

294. 这个十字路口警告牌表示？



- A. 前方有四向交叉路口，注意交叉交通
- B. 单行道结束
- C. 环岛
- D. 以上都不正确

我的答案： A B C D



295. LANE ENDS MERGE LEFT 表示？



- A. 你所在车道结束，需并入左侧车道
- B. 左车道结束并向右并线
- C. 禁止并线
- D. 以上都不正确

我的答案： A B C D

296. ROAD NARROWS 警示你什么？



- A. 前方道路变窄，需减速并保持间距
- B. 道路封闭
- C. 新增车道
- D. 以上都不正确

我的答案： A B C D



297. 这个卡车倾侧标志提醒什么？



- A. 前方急弯/坡度有倾覆风险，卡车需大幅减速
- B. 仅小客车注意
- C. 允许高速通过
- D. 以上都不正确

我的答案： A B C D

298. 这个 Y 形交叉标志表示？



- A. 前方道路分叉成两支，需提前选道减速
- B. 必须右转
- C. 环岛在前
- D. 以上都不正确

我的答案： A B C D



299. 这个环岛警告标志要求？



- A. 前方环岛，减速并让行岛内车辆
- B. 必须直行，不可绕行
- C. 可高速通过
- D. 以上都不正确

我的答案： A B C D

300. 这个双头箭头标志表示？



- A. 前方只能左转或右转，禁止直行
- B. 允许直行
- C. 必须掉头
- D. 以上都不正确

我的答案： A B C D



301. 这个窄桥/窄道标志警告？



- A. 前方桥梁/路面变窄，会车须小心减速
- B. 桥梁封闭
- C. 仅卡车通行
- D. 以上都不正确

我的答案： A B C D

302. WATCH FOR ICE ON BRIDGES 提示？



- A. 桥面易结冰，需减速、平稳操控
- B. 桥面封闭
- C. 加速防打滑
- D. 以上都不正确

我的答案： A B C D



303. 鹿跃标志意味着？



- A. 前方可能有鹿横穿，需减速警惕
- B. 允许狩猎
- C. 仅夜间有鹿
- D. 以上都不正确

我的答案： A B C D

304. 12'-6" 这种上下箭头牌表示？



- A. 前方结构净空 12 英尺 6 英寸，超高车辆不得通行
- B. 限速 12 mph
- C. 最小车长 12 英尺
- D. 以上都不正确

我的答案： A B C D



305. 这个自行车图标黄牌表示？



- A. 前方有自行车通行/横穿，减速注意
- B. 禁止自行车
- C. 仅自行车道，禁止机动车
- D. 以上都不正确

我的答案： A B C D

306. LOOSE GRAVEL 标志提醒？



- A. 路面碎石易打滑/飞溅，需减速加大车距
- B. 道路封闭
- C. 仅卡车受限
- D. 以上都不正确

我的答案： A B C D



307. HIGHWAY INTERSECTION AHEAD 表示？



- A. 前方与高速/主干线交汇，注意高速来车
- B. 封闭路口
- C. 仅行人通行
- D. 以上都不正确

我的答案： A B C D

308. 看到这个黄色菱形警告标志时，它提示驾驶者前方道路状况如何？



- A. 前方有车辆从右侧车道汇入主路，注意避让。
- B. 前方道路分岔，车流将分为两个不同的方向（直行和向右）。
- C. 前方是一个连续弯道（先左后右），需要减速行驶。
- D. 以上都不正确

我的答案： A B C D



309. 双色下箭头牌表示什么？



- A. 中央障碍/岛，车辆可从两侧绕行
- B. 只准右侧通行
- C. 道路封闭
- D. 以上都不正确

我的答案： A B C D

310. 这个低/软路肩标志提醒什么？



- A. 路肩高度/强度不足，勿突然驶入或猛回正
- B. 可在路肩超车
- C. 路肩封闭不可使用
- D. 以上都不正确

我的答案： A B C D



311. 看到这个卡车下坡标志时应如何？



- A. 前方陡坡，提前减速并用低速挡控制车速
- B. 加速通过
- C. 仅卡车受限，小车无须理会
- D. 以上都不正确

我的答案： A B C D

312. DIP 标志提醒什么？



- A. 前方路面下凹，需减速通过
- B. 坡道上坡
- C. 禁止通行
- D. 以上都不正确

我的答案： A B C D



313. 行人图标黄牌要求？



- A. 前方人行横道，减速并礼让行人
- B. 禁止行人通行
- C. 仅夜间才有人行横道
- D. 以上都不正确

我的答案： A B C D

314. SPEED LIMIT 65 白底牌表示？



- A. 法定最高限速 65 mph，不得超速
- B. 建议速度 65 mph，可超
- C. 最低限速 65 mph
- D. 以上都不正确

我的答案： A B C D



315. 当您在有“红灯禁止转弯” (NO TURN ON RED) 标志的十字路口时，这意味着：



- A. 您不可以在红灯时右转。
- B. 您不可以在红灯时右转，除非您先停车。
- C. 该标志仅适用于卡车。
- D. 以上都不正确

我的答案： A B C D

316. 在有闪烁黄灯 (Flashing Yellow Light) 的十字路口，您是否需要为 (可能有闪烁红灯的) 交叉车流停车？



- A. 是，您必须始终停车。
- B. 否，您有先行权，但您仍应减速并保持警惕。
- C. 是，您必须为他们让行。
- D. 以上都不正确

我的答案： A B C D



317. 在有恒亮绿色箭头 (Solid Green Arrow) 的情况下左转，您是否需要为迎面而来的车流让行？



- A. 是，您必须始终为迎面车流让行。
- B. 否，绿色箭头表示“受保护”转弯，迎面车流有红灯。
- C. 是，但仅限卡车。
- D. 以上都不正确

我的答案： A B C D

318. 如果您在十字路口面对闪烁红灯 (Flashing Red Light) ，而交叉车流 (来自您左侧和右侧) 面对恒亮的红灯，您应该：



- A. (这种情况不会发生)
- B. 在停车后，您可以 (在为他人让行后) 继续行驶。
- C. 等待绿灯。
- D. 以上都不正确

我的答案： A B C D



319. 如果您在十字路口面对闪烁黄灯 (Flashing Yellow Light) ，而交叉车流 (来自您左侧和右侧) 面对闪烁红灯，谁有先行权？



- A. 您 (闪烁黄灯) 。
- B. 您们都必须停车。
- C. 右侧的车辆。
- D. 以上都不正确

我的答案： A B C D

320. 在十字路口，如果您在 (STOP 标志处的) 限制线前停车，但您的视线受阻，您应该：

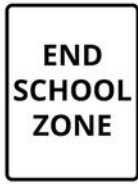


- A. (在停车后) 缓慢向前“蠕行” (Creep) ，直到您能看清为止。
- B. 鸣喇叭并继续行驶。
- C. 掉头。
- D. 以上都不正确

我的答案： A B C D



321. 如果您在学校区域看到“END SCHOOL ZONE”（学校区域结束）的标志，您可以：



- A. 立即加速至时速 65 哩。
- B. 恢复到该区域（例如，住宅区）的正常标示限速。
- C. 停车并掉头。
- D. 以上都不正确

我的答案： A B C D

322. 在有“禁止泊车”（NO PARKING）标志的地方，您可以：



- A. 临时停车（不超过 5 分钟）上下客或装卸货物。
- B. 停车，只要驾驶员留在车内。
- C. 停车，但仅限夜间。
- D. 以上都不正确

我的答案： A B C D



323. 在有“禁止泊车” (NO PARKING) 标志的区域，您是否可以短暂时停车让乘客下车？



- A. 是，这通常是允许的。
- B. 是，但仅限 30 秒内。
- C. 否，除非您打开应急闪光灯。
- D. 以上都不正确

我的答案： A B C D

324. “红色路缘石” (Red Curb) 和“禁止泊车” (NO PARKING) 标志之间的区别是什么？



- A. 没有区别，它们的意思相同。
- B. 红色路缘石表示完全禁止停车/待车，而“禁止泊车”标志通常允许短暂上下客。
- C. “禁止泊车”标志仅适用于白天。
- D. 以上都不正确

我的答案： A B C D



325. 无围栏操场附近 500 呎内，儿童在场时限速应为多少？



WHEN
CHILDREN
ARE PRESENT

- A. 15 mph。
- B. 25 mph。
- C. 35 mph。
- D. 以上都不正确

我的答案： A B C D

326. 橙色的菱形标志（例如“ROAD WORK AHEAD”）表示什么？



- A. 高速公路建设及维护（施工区）。
- B. 前方有永久性的道路危险。
- C. 前方有休息区。
- D. 以上都不正确

我的答案： A B C D



327. 在施工区看到旗手举着“SLOW/STOP”指示牌时，您应该：



- A. 只在看到危险时才遵守。
- B. 鸣喇叭继续行驶。
- C. 始终遵从旗手的指示。
- D. 以上都不正确

我的答案： A B C D

328. 在施工区，您看到一个标志显示“ROAD MACHINERY AHEAD”（前方道路机械）。这意味着：



- A. 道路已封闭，您必须掉头。
- B. 前方有大型、移动缓慢的设备（如推土机或铺路机）可能正在或即将进入行车线。
- C. 机械将为您让行。
- D. 以上都不正确

我的答案： A B C D



329. 当您在不受管制的“T”字形交叉路口（您在“T”字的顶部直行）时，谁拥有先行权？



- A. 从“T”字底部道路转弯的车辆。
- B. 在直行道路上的车辆、行人和自行车。
- C. 最先打信号的车辆。
- D. 以上都不正确

我的答案： A B C D

330. 在有“STOP”标志的四向停车十字路口，如果您与您左侧的车辆同时停车，谁应该先行？



- A. 您（在右侧的车辆）应该先行。
- B. 左转的车辆先行。
- C. 车身较大的车辆先行。
- D. 以上都不正确

我的答案： A B C D



331. 当您驾车靠近一个您没有“STOP”标志的十字路口时，您看到一辆来自您左侧的车辆有“STOP”标志。您应该：



- A. 减速并准备在他们不让行时停车，但您拥有先行权。
- B. 鸣喇叭并加速通过。
- C. 为他们让行，因为他们在您的左侧。
- D. 以上都不正确

我的答案： A B C D

332. 在有“STOP”标志的四向停车十字路口，当您停车后，您发现您右侧的车辆也在停车。您应该怎么做？



- A. 您先行，因为您想直行。
- B. 为右侧的车辆让行。
- C. 鸣喇叭，示意他们先走。
- D. 以上都不正确

我的答案： A B C D



333. 在有“STOP”标志的四向停车十字路口，如果您在另一辆车之后到达，您应该：



- A. 在他们后方停车，然后在他们通过后立即跟随他们通过。
- B. 完全停车，并等待轮到您。
- C. 如果您也想直行，可以和他們同时通过。
- D. 以上都不正确

我的答案： A B C D

334. “左转车绿灯减速慢行” (LEFT TURN YIELD ON GREEN) 的标志是什么意思？



- A. 您有受保护的转弯，迎面车流会停止。
- B. 您可以在绿灯时左转，但必须为迎面车流和行人让行。
- C. 在此十字路口禁止左转。
- D. 以上都不正确

我的答案： A B C D



335. 在“T”字形路口（没有标志或信号灯）从单行道转入双向道时，谁拥有先行权？



- A. 在双向道上直行的车流拥有先行权。
- B. 从右侧接近的车辆。
- C. 从单行道驶出的车辆。
- D. 以上都不正确

我的答案： A B C D

336. 如果您在等待左转时，迎面而来的车辆的右转向灯正在闪烁，您应该：



- A. 鸣喇叭提醒他们转弯。
- B. 等待，直到该车辆真正开始转弯或通过，再继续左转。
- C. 关闭您的信号灯，等待下一个绿灯。
- D. 以上都不正确

我的答案： A B C D



337. 在没有“禁止左转”标志的情况下，您可以在哪里合法地进行左转？



- A. 穿过双黄线进入私人车道。
- B. 在红色箭头信号灯处。
- C. 在铁路交叉口。
- D. 以上都不正确

我的答案： A B C D

338. 在没有“红灯禁止转弯”标志的十字路口，您在红灯时右转之前必须：



- A. 减速至爬行速度，然后转弯。
- B. 完全停车。
- C. 仅为车辆让行，然后转弯。
- D. 以上都不正确

我的答案： A B C D



339. 在分隔式公路上，您可以在何处进行掉头（U-turn）？



- A. 仅在十字路口。
- B. 在中央分隔带提供的指定开口处。
- C. 任何时候都不允许。
- D. 以上都不正确

我的答案： A B C D

340. 绿灯时但有“NO U-TURN”标志，您应当：



- A. 可以掉头，只要慢速。
- B. 等行人通过后再掉头。
- C. 不得掉头，必须遵守标志。
- D. 以上都不正确

我的答案： A B C D



341. 这个菱形车道标志提示什么？



- A. 前方有高乘载/共乘车道限制
- B. 禁止超车
- C. 仅货车车道
- D. 以上都不正确

我的答案： A B C D

342. SHOULDER WORK AHEAD 提示？



- A. 路肩施工，主道行驶但需注意工人/设备
- B. 主车道封闭
- C. 仅行人施工
- D. 以上都不正确

我的答案： A B C D



343. THRU TRAFFIC MERGE LEFT 提示？



- A. 直行车辆需并到左侧车道
- B. 左转车辆靠右
- C. 禁止左转
- D. 以上都不正确

我的答案： A B C D

344. ONE LANE TUNNEL 警告什么？




- A. 前方隧道仅单车道，需减速让行
- B. 隧道封闭
- C. 隧道限速 10 mph
- D. 以上都不正确

我的答案： A B C D



345. 成对的黑黄车道导向牌提示？



- A. 前方急弯，需减速按箭头方向行驶
- B. 允许超车
- C. 直行优先
- D. 以上都不正确

我的答案： A B C D

346. LEFT LANE ENDS 黄牌提示？



- A. 左车道即将结束，需提前并线
- B. 右车道结束
- C. 道路封闭
- D. 以上都不正确

我的答案： A B C D



347. 在施工区，“SHOULDER WORK AHEAD”（前方路肩施工）的标志表示：



- A. 道路已封闭，您必须掉头。
- B. 工人将在道路旁边的路肩上施工，您应小心。
- C. 您必须在路肩上行驶。
- D. 以上都不正确

我的答案： A B C D



答案解析版

做完练习后再核对答案。错题建议回到网站完整题库继续练习。



1. 红灯闪烁表示什么？

- A. 和 STOP 标志一样：停车、让行、安全时通行
- B. 减速但不用停车
- C. 路口关闭，不能通行
- D. 以上都不正确

正确答案: A

解析：纽约 DMV 手册 Chapter 4 说明，flashing red 的含义与 STOP 标志相同。

2. 黄灯闪烁表示什么？

- A. 谨慎通行
- B. 必须完全停车
- C. 只能右转
- D. 以上都不正确

正确答案: A

解析：纽约 DMV 手册 Chapter 4 说明，flashing yellow 表示谨慎驾驶。

3. 交通灯或控制设备失灵时，接近路口应怎么做？

- A. 像面对 STOP 标志一样停车，再按路权规则通行
- B. 按原来的绿灯方向通行
- C. 鸣喇叭后直接通过
- D. 以上都不正确

正确答案: A

解析：纽约 DMV 手册 Chapter 4 要求，控制设备失灵时接近路口要像停牌一样停车。

4. 纽约市内，红灯右转的一般规则是什么？

- A. 除非有标志允许，否则不可以红灯右转
- B. 和纽约其他地方一样，停车后都可以右转
- C. 只有晚上可以红灯右转
- D. 以上都不正确

正确答案: A

解析：纽约 DMV 手册 Chapter 4 明确说明，在 New York City，除非有标志允许，否则不允许红灯转弯。



5. 纽约非纽约市地区，红灯右转通常需要先做什么？

- A. 完全停下并让行来车和行人
- B. 减速即可，不必停
- C. 只要打灯即可
- D. 以上都不正确

正确答案: A

解析：纽约 DMV 手册 Chapter 4 说明，允许红灯右转时必须先完全停车并让行；若有 NO TURN ON RED 或其他禁止标志则不得转。

6. 红色箭头灯亮时，可以向箭头方向转弯吗？

- A. 不可以，必须等红箭头熄灭并出现绿灯或绿箭头
- B. 可以，先停再转
- C. 只有右转可以
- D. 以上都不正确

正确答案: A

解析：纽约 DMV 手册 Chapter 4 说明，red arrow 亮时不得按箭头方向行驶或转弯。

7. 警察或交通指挥员的指挥与信号灯冲突时，应听谁的？

- A. 交通指挥员
- B. 信号灯
- C. 道路标线
- D. 以上都不正确

正确答案: A

解析：纽约 DMV 手册 Chapter 4 说明，交通指挥员的指挥优先于标志、信号灯和道路标线。

8. 单条虚线车道线通常表示什么？

- A. 安全且不妨碍交通时可以变道或超车
- B. 绝对不能跨越
- C. 只能左转时跨越
- D. 以上都不正确

正确答案: A

解析：纽约 DMV 手册 Chapter 4 说明，一条 broken line 表示在安全且不妨碍交通时可以变道或通过。



9. 双实线通常表示什么？

- A. 不能超车或变道，但可按规定左转进出道路
- B. 任何情况下都不能跨越
- C. 只限制卡车
- D. 以上都不正确

正确答案: A

解析：纽约 DMV 手册 Chapter 4 说明，double solid lines 表示不能超车或变道，但可为左转进出道路而跨越。

10. 带菱形标记的车道通常表示什么？

- A. 该车道为公交、HOV、自行车或其他特殊车辆保留
- B. 该车道限速更高
- C. 该车道只能临时停车
- D. 以上都不正确

正确答案: A

解析：纽约 DMV 手册 Chapter 4 说明，diamond symbol 用来标示公交、HOV、自行车或其他特殊车辆保留车道。

11. 无信号控制路口，右侧车辆与你同时到达，你应怎么做？

- A. 让右侧车辆先行
- B. 你先行，因为你在直行
- C. 谁速度快谁先走
- D. 以上都不正确

正确答案: A

解析：纽约 DMV 手册 Chapter 5 说明，在无信号或多车同时停牌的路口，左侧驾驶人应让右侧驾驶人先行。



12. 你左转，对向车辆直行并同时到达，谁应让行？

- A. 左转车辆必须让行
- B. 直行车辆必须让行
- C. 谁先打灯谁先走
- D. 以上都不正确

正确答案: A

解析：纽约 DMV 手册 Chapter 5 说明，对向同时到达时，左转车辆必须让行直行或右转车辆。

13. 从 driveway、alley 或停车场进入道路时必须怎么做？

- A. 停车并让行道路车辆和行人
- B. 只让行车辆，不用管行人
- C. 只要打灯即可进入
- D. 以上都不正确

正确答案: A

解析：纽约 DMV 手册 Chapter 5 说明，从非道路位置进入道路的车辆必须停车，并让行道路上的交通和行人。

14. 交通堵在路口另一侧时，你面对绿灯可以进入路口吗？

- A. 不可以，应等前方清空
- B. 可以，因为你是绿灯
- C. 可以，只要车头过线
- D. 以上都不正确

正确答案: A

解析：纽约 DMV 手册 Chapter 5 说明，如果不能完全通过路口，不能进入路口造成堵塞。

15. 接近 traffic circle 或 roundabout 时，谁有先行权？

- A. 已经在圆环内的车辆
- B. 准备进入圆环的车辆
- C. 右侧车辆永远先行
- D. 以上都不正确

正确答案: A

解析：纽约 DMV 手册 Chapter 5 和 Chapter 8 都说明，进入圆环前应让行已经在圆环内的车辆。



16. 听到或看到紧急车辆从任何方向驶来时，应怎么做？

- A. 安全靠右边缘停车，等待其通过
- B. 立即停在原车道
- C. 加速离开它前方
- D. 以上都不正确

正确答案: A

解析：纽约 DMV 手册 Chapter 5 要求，看到或听到紧急车辆时，应立即安全靠右停车；若在路口内，先驶出路口再靠边。

17. 纽约 Move Over Law 要求遇到路肩上有警示灯的授权紧急或危险车辆时怎么做？

- A. 减速；在多车道受控道路上能安全时离开相邻车道
- B. 保持原速通过
- C. 只在警车旁边才需要变道
- D. 以上都不正确

正确答案: A

解析：纽约 DMV 手册 Chapter 5 说明，Move Over Law 要求所有道路上减速；在 parkways、interstates 等多车道受控道路上，安全时还要离开相邻车道。

18. 转弯或变道前，纽约法律要求至少提前多远打信号？

- A. 至少 100 英尺
- B. 至少 200 英尺
- C. 只需开始转弯时打灯
- D. 以上都不正确

正确答案: A

解析：纽约 DMV 手册 Chapter 5 和 Chapter 6 都说明，转弯或变道前至少提前 100 英尺打转向灯或手势。



19. 做左转等待时，为什么应保持车轮直行？

- A. 避免被后车追尾时推入对向车道
- B. 这样可以更快转弯
- C. 法律要求停车时车轮必须直
- D. 以上都不正确

正确答案: A

解析：纽约 DMV 手册 Chapter 5 建议，等待左转时保持车轮直行，避免被追尾后被推入对向车流。

20. 纽约哪里禁止掉头？

- A. 纽约市商业区、学校区域、有限通行高速，以及有 NO U-TURN 标志处
- B. 所有住宅区
- C. 所有双向街道
- D. 以上都不正确

正确答案: A

解析：纽约 DMV 手册 Chapter 5 说明，U-turn 在纽约市商业区、学校区域、limited access expressway、NO U-TURN 标志处等禁止。

21. 靠近山顶、弯道等位置掉头时，至少需要多远视距？

- A. 任一方向至少 500 英尺
- B. 任一方向至少 200 英尺
- C. 任一方向至少 100 英尺
- D. 以上都不正确

正确答案: A

解析：纽约 DMV 手册 Chapter 5 说明，在其他驾驶人无法从任一方向 500 英尺外看到你的地点，不得掉头。



22. 在多数情况下，超车应从哪一侧进行？

- A. 左侧
- B. 右侧
- C. 路肩
- D. 以上都不正确

正确答案: A

解析：纽约 DMV 手册 Chapter 6 说明，通常应从左侧超车；右侧超车只在特定条件下且安全时允许。

23. 超车时可以超过限速吗？

- A. 不可以
- B. 可以，只要很快完成
- C. 可以，但只能超过 5 mph
- D. 以上都不正确

正确答案: A

解析：纽约 DMV 手册 Chapter 6 明确说明，超车时也不得超过限速。

24. 哪种情况下不能从左侧超车？

- A. 你的车道有实黄中心线
- B. 前车速度低于限速
- C. 道路很直且视线良好
- D. 以上都不正确

正确答案: A

解析：纽约 DMV 手册 Chapter 6 列出不能左侧超车的情况，包括你的车道有实黄中心线、接近弯道/坡顶视线受阻、接近铁路道口或桥隧等。



25. 对向车辆距离多近时，你不能开始左侧超车？

- A. 如果不能在对向车辆到达 200 英尺前安全回到右侧车道，就不能超车
- B. 50 英尺
- C. 100 英尺
- D. 以上都不正确

正确答案: A

解析：纽约 DMV 手册 Chapter 6 说明，若不能在对向车辆接近到 200 英尺前安全回到右侧车道，不得超车。

26. 接近铁路道口多少英尺内，在双向道路上不能左侧超车？

- A. 100 英尺
- B. 200 英尺
- C. 500 英尺
- D. 以上都不正确

正确答案: A

解析：纽约 DMV 手册 Chapter 6 说明，在双向道路上距离铁路道口 100 英尺内不得左侧超车。

27. 前车在 crosswalk 前停车让行行人时，你可以超车吗？

- A. 不可以
- B. 可以，如果你看不到行人
- C. 可以，只能从右侧
- D. 以上都不正确

正确答案: A

解析：纽约 DMV 手册 Chapter 6 明确说明，不能超越已经在 crosswalk 前停车让行行人的车辆。



28. 校车红灯闪烁并停车时，你应停多远？

- A. 至少 20 英尺
- B. 至少 15 英尺
- C. 至少 50 英尺
- D. 以上都不正确

正确答案: A

解析：纽约 DMV 手册 Chapter 6 说明，校车红灯闪烁时，双向来车都必须在到达校车前停车，建议至少 20 英尺外停车。

29. 在纽约，校车红灯闪烁时，对向车道在分隔公路另一侧是否也必须停车？

- A. 必须停车
- B. 不必停车
- C. 只有在学校门口才停车
- D. 以上都不正确

正确答案: A

解析：纽约 DMV 手册 Chapter 6 说明，纽约所有道路都适用校车停车规则，即使校车在 divided highway 的对向侧也必须停车。

30. 校车黄灯闪烁通常表示什么？

- A. 校车即将停车上下学生，应减速准备停车
- B. 可以超车
- C. 校车正在右转
- D. 以上都不正确

正确答案: A

解析：纽约 DMV 手册 Chapter 6 说明，校车通常会在停车上下乘客前闪烁黄色警告灯，看到时应减速并准备停车。



31. NO PARKING 标志下，你可以做什么？

- A. 临时停车装卸货物或上下乘客
- B. 停车等待朋友很久
- C. 任何时候都不能停一下
- D. 以上都不正确

正确答案: A

解析：纽约 DMV 手册 Chapter 7 区分 parking、standing 和 stopping；NO PARKING 允许临时停下装卸货物或上下乘客。

32. NO STANDING 标志下，你可以做什么？

- A. 临时停车上下乘客，但不能装卸货物，驾驶人不能离车
- B. 可以停车装卸货物
- C. 可以长时间停车
- D. 以上都不正确

正确答案: A

解析：纽约 DMV 手册 Chapter 7 说明，NO STANDING 允许临时上下乘客，但不等同于停车或装卸货物。

33. NO STOPPING 标志表示什么？

- A. 只有为遵守交通标志/信号/警察或避免冲突时才能停
- B. 可以上下乘客
- C. 可以装卸货物
- D. 以上都不正确

正确答案: A

解析：纽约 DMV 手册 Chapter 7 说明，NO STOPPING 下只能为遵守交通控制或避免交通冲突而停车。



34. 纽约消防栓多少英尺内不能停车、停站或停车等候？

- A. 15 英尺
- B. 20 英尺
- C. 30 英尺
- D. 以上都不正确

正确答案: A

解析：纽约 DMV 手册 Chapter 7 说明，不得在消防栓 15 英尺内 park、stop 或 stand，除非有持照驾驶人留在车内以便紧急移车。

35. 在路口 crosswalk 多少英尺内通常不能 parking 或 standing？

- A. 20 英尺
- B. 30 英尺
- C. 50 英尺
- D. 以上都不正确

正确答案: A

解析：纽约 DMV 手册 Chapter 7 说明，路口 crosswalk 20 英尺内不允许 parking 或 standing。

36. 交通灯、STOP 或 YIELD 标志多少英尺内通常不能 parking 或 standing？

- A. 30 英尺
- B. 15 英尺
- C. 75 英尺
- D. 以上都不正确

正确答案: A

解析：纽约 DMV 手册 Chapter 7 说明，交通灯、STOP 标志或 YIELD 标志 30 英尺内不允许 parking 或 standing。



37. 纽约离铁路道口多少英尺内不能停车？

- A. 50 英尺
- B. 15 英尺
- C. 100 英尺
- D. 以上都不正确

正确答案: A

解析：纽约 DMV 手册 Chapter 7 说明，车辆不得停在铁路道口 50 英尺内。

38. 平行停车完成后，车轮距离路缘最多应多远？

- A. 不超过 1 英尺
- B. 不超过 2 英尺
- C. 不超过 3 英尺
- D. 以上都不正确

正确答案: A

解析：纽约 DMV 手册 Chapter 7 说明，平行停车最终位置时车轮距离路缘不得超过 1 英尺。

39. 纽约市内没有标示限速时，通常最高限速是多少？

- A. 25 mph
- B. 35 mph
- C. 55 mph
- D. 以上都不正确

正确答案: A

解析：纽约 DMV 手册 Chapter 8 说明，有些城市限速低于 55 mph 且不一定总有标志；纽约市未另有标示时通常为 25 mph。



40. 纽约没有标示限速时，纽约市以外通常最高不能超过多少？

- A. 55 mph
- B. 65 mph
- C. 45 mph
- D. 以上都不正确

正确答案: A

解析：纽约 DMV 手册 Chapter 8 说明，没有限速标志时，不得超过 55 mph；仍需根据天气和路况降低到安全速度。

41. 即使没有超过标示限速，什么时候仍可能因速度不合理被开罚单？

- A. 雨雪雾、湿滑等情况下速度对条件来说不合理
- B. 只要低于限速就永远不会
- C. 只有高速公路上才会
- D. 以上都不正确

正确答案: A

解析：纽约 DMV 手册 Chapter 8 说明，实际速度必须符合当时条件；在湿滑或低能见度道路上低于限速也可能不安全。

42. 使用 two-second rule 时，如果你在数完前就到达参照物，说明什么？

- A. 跟车太近
- B. 距离足够安全
- C. 车速太慢
- D. 以上都不正确

正确答案: A

解析：纽约 DMV 手册 Chapter 8 说明，两秒规则用于保持跟车距离；若数完前已到达同一参照物，说明跟车过近。



43. 恶劣天气或跟随大型卡车时，两秒规则应怎样调整？

- A. 增加到至少 3 或 4 秒
- B. 减少到 1 秒
- C. 保持 2 秒即可
- D. 以上都不正确

正确答案: A

解析：纽约 DMV 手册 Chapter 8 说明，坏天气和跟随大型卡车时，应把跟车时间增加到至少 3 或 4 秒。

44. 纽约驾驶时手持手机通话的第一违规可能有什么后果？

- A. 最高 \$200 罚款和 5 分
- B. 只会警告
- C. 自动吊销驾照一年
- D. 以上都不正确

正确答案: A

解析：纽约 DMV 手册 Chapter 8 说明，驾驶时手持移动电话通话属交通违规，第一次可罚最高 \$200 并记 5 分。

45. 纽约开车时使用便携电子设备发短信或邮件是否合法？

- A. 违法
- B. 合法，只要车速低于 25 mph
- C. 只有高速公路违法
- D. 以上都不正确

正确答案: A

解析：纽约 DMV 手册 Chapter 8 说明，驾驶时使用便携电子设备收发短信或电子邮件是违法的。



46. 纽约儿童几岁以下必须使用联邦批准的儿童安全座椅？

- A. 4 岁以下
- B. 8 岁以下
- C. 16 岁以下
- D. 以上都不正确

正确答案: A

解析：纽约 DMV 手册 Chapter 8 说明，4 岁以下儿童必须使用联邦批准的儿童安全座椅。

47. 纽约 4 到 7 岁儿童通常应使用什么约束系统？

- A. 合适的儿童约束系统，通常为 booster seat 配合腰肩带
- B. 成人安全带即可
- C. 不需要任何约束
- D. 以上都不正确

正确答案: A

解析：纽约 DMV 手册 Chapter 8 说明，4 到 7 岁儿童必须使用合适的联邦批准儿童约束系统。

48. 儿童坐后向式安全座椅时，是否可以放在有乘客安全气囊的前座？

- A. 绝对不可以
- B. 可以，只要安全带系紧
- C. 可以，只在短途
- D. 以上都不正确

正确答案: A

解析：纽约 DMV 手册 Chapter 8 特别提醒，不要把后向式儿童安全座椅放在有乘客安全气囊的前座。



49. 纽约未满 21 岁驾驶人的 zero tolerance BAC 范围是什么？

- A. .02 到 .07
- B. .08 或更高
- C. .18 或更高
- D. 以上都不正确

正确答案: A

解析：纽约 DMV 手册 Chapter 9 说明，未满 21 岁驾驶人有可测量 BAC (.02 到 .07) 即违反 zero tolerance law。

50. 纽约 BAC 达到多少是 DWI 的法定证据？

- A. .08 或更高
- B. .05 或更高
- C. .02 或更高
- D. 以上都不正确

正确答案: A

解析：纽约 DMV 手册 Chapter 9 说明，BAC .08 或更高是 intoxication 的证据。

51. 纽约 BAC 达到多少是 aggravated DWI 的证据？

- A. .18 或更高
- B. .08 或更高
- C. .02 或更高
- D. 以上都不正确

正确答案: A

解析：纽约 DMV 手册 Chapter 9 说明，BAC .18 或更高是 aggravated driving while intoxicated 的证据。



52. 纽约 BAC 超过多少可作为 impaired 的法定证据？

- A. 超过 .05
- B. .02
- C. .18
- D. 以上都不正确

正确答案: A

解析：纽约 DMV 手册 Chapter 9 说明，BAC 超过 .05 是 impaired 的法定证据；.08 或更高是 intoxication 的证据。

53. 根据纽约 implied consent law，驾驶车辆意味着你同意什么？

- A. 被逮捕酒驾/药驾后接受化学测试
- B. 任何时候让警察搜查车辆
- C. 自动放弃听证权
- D. 以上都不正确

正确答案: A

解析：纽约 DMV 手册 Chapter 9 说明，在纽约驾驶即被视为已同意在相关逮捕后接受化学测试。

54. 咖啡、运动或冷水澡能让 BAC 迅速下降吗？

- A. 不能，只有时间能有效降低 BAC
- B. 能，咖啡最快
- C. 能，只要大量喝水
- D. 以上都不正确

正确答案: A

解析：纽约 DMV 手册 Chapter 9 说明，只有经过时间，身体代谢酒精后 BAC 才会下降；咖啡、运动、冷水澡不能让你清醒到可安全驾驶。



55. 纽约公共道路上，驾驶人或乘客持有或饮用打开的酒精饮料是否合法？

- A. 违法
- B. 只有驾驶人违法，乘客合法
- C. 只要车没动就合法
- D. 以上都不正确

正确答案: A

解析：纽约 DMV 手册 Chapter 9 说明，驾驶人或乘客在公共道路机动车内饮用或持有打开的酒精饮料属交通违规。

56. 铁路道口红灯闪烁、栏杆下降或铃响时，应停在离铁轨至少多远？

- A. 至少 15 英尺
- B. 至少 20 英尺
- C. 至少 50 英尺
- D. 以上都不正确

正确答案: A

解析：纽约 DMV 手册 Chapter 10 说明，铁路道口红灯、栏杆或铃响时，必须在离铁轨至少 15 英尺处停车。

57. 铁路道口没有信号或栏杆时，应怎么做？

- A. 减速，准备停车，确认无火车后再通过
- B. 保持速度快速通过
- C. 只要没听到火车声就不用看
- D. 以上都不正确

正确答案: A

解析：纽约 DMV 手册 Chapter 10 说明，无主动信号的铁路道口也要减速、准备停车，并确认没有火车再通过。



58. 车辆卡在铁轨上且火车接近时，离开车辆后应往哪里跑？

- A. 朝火车来的方向跑，但以 45 度角远离铁轨
- B. 沿着火车前进方向跑
- C. 留在车旁等待帮助
- D. 以上都不正确

正确答案: A

解析：纽约 DMV 手册 Chapter 10 说明，车辆卡在铁轨上应所有人立即离车；火车接近时朝火车来的方向、以 45 度角远离铁轨跑。

59. 纽约 expressway 的通常限速是多少？

- A. 55 mph，但部分乡村地区可标示 65 mph
- B. 65 mph，所有地方一样
- C. 70 mph
- D. 以上都不正确

正确答案: A

解析：纽约 DMV 手册 Chapter 10 说明，expressway 通常限速 55 mph，部分 rural areas 可标示 65 mph。

60. 如果在 expressway 错过出口，应怎么做？

- A. 继续到下一个出口再重新规划
- B. 在出口匝道倒车
- C. 横穿中央隔离带
- D. 以上都不正确

正确答案: A

解析：纽约 DMV 手册 Chapter 10 说明，在入口或出口匝道倒车、横穿中央隔离带都很危险；错过出口应继续到下一个出口。



61. 驶入 expressway 时，通常应怎样并入车流？

- A. 利用匝道加速到接近车流速度，打灯并回头观察后安全并入
- B. 在匝道尽头永远停车
- C. 低速直接切入主路
- D. 以上都不正确

正确答案: A

解析：纽约 DMV 手册 Chapter 10 说明，除非有 STOP/YIELD/信号灯，应利用入口匝道加速并安全融入车流。

62. 驶离 expressway 前，至少提前多远打转向灯？

- A. 至少 100 英尺
- B. 至少 500 英尺
- C. 只在进入匝道后打灯
- D. 以上都不正确

正确答案: A

解析：纽约 DMV 手册 Chapter 10 说明，驶离高速前应提前进入正确车道，并至少在到达出口匝道前 100 英尺打信号。

63. 纽约什么时候必须使用前照灯？

- A. 日落后半小时至日出前半小时、能见度低于 1,000 英尺、以及雨雪雾需用雨刷时
- B. 只有完全黑夜
- C. 只有高速公路
- D. 以上都不正确

正确答案: A

解析：纽约 DMV 手册 Chapter 10 说明了前照灯使用时间和低能见度/雨刷联动要求。



64. 遇到对向车辆时，远光灯应在多少英尺内切换为近光？

- A. 500 英尺
- B. 200 英尺
- C. 100 英尺
- D. 以上都不正确

正确答案: A

解析：纽约 DMV 手册 Chapter 10 说明，对向车辆 500 英尺内必须使用近光灯。

65. 跟随前车时，远光灯应在多少英尺内切换为近光？

- A. 200 英尺
- B. 500 英尺
- C. 50 英尺
- D. 以上都不正确

正确答案: A

解析：纽约 DMV 手册 Chapter 10 说明，距离前方车辆 200 英尺内，即使前车在不同车道，也应使用近光灯。

66. 雨、雾、雪中使用远光灯通常会怎样？

- A. 光线反射回来，让视线更差
- B. 视线一定更好
- C. 只会影响后车
- D. 以上都不正确

正确答案: A

解析：纽约 DMV 手册 Chapter 10 说明，雨、雾、雪中远光会反射，使视线更差，应使用近光并减速。



67. 开始下雨、下雪或结冰时，路面为什么特别危险？

- A. 路面会变滑，应减速并增加跟车距离
- B. 轮胎抓地力会自动变好
- C. 只有高速公路危险
- D. 以上都不正确

正确答案: A

解析：纽约 DMV 手册 Chapter 10 说明，少量雨雪冰就会让路面湿滑；应减速并增加跟车距离。

68. 发生 hydroplaning 时，正确做法是什么？

- A. 进一步降低速度，避免急打方向或急刹
- B. 加速冲过去
- C. 立即猛踩刹车
- D. 以上都不正确

正确答案: A

解析：纽约 DMV 手册 Chapter 10 说明，暴雨中轮胎可能水滑失去牵引；发现失去抓地时应进一步减速。

69. 在冰雪中后轮开始打滑时，应向哪里转方向盘？

- A. 朝车辆试图滑去的方向转
- B. 朝相反方向猛转
- C. 保持方向盘不动
- D. 以上都不正确

正确答案: A

解析：纽约 DMV 手册 Chapter 10 说明，后轮打滑时，方向盘应朝车辆试图移动的方向转。

70. 纽约金属钉胎 (metal studs) 允许使用的日期范围是什么？

- A. 10 月 16 日至 4 月 30 日
- B. 全年
- C. 12 月 1 日至 2 月 1 日
- D. 以上都不正确

正确答案: A

解析：纽约 DMV 手册 Chapter 10 说明，metal studs 可在纽约 10 月 16 日至 4 月 30 日使用。



71. 行人合法使用有标记或无标记 crosswalk 时，驾驶人必须怎么做？

- A. 减速或停车让行，避免碰撞
- B. 只有有信号灯时才让行
- C. 鸣喇叭让行人快走
- D. 以上都不正确

正确答案: A

解析：纽约 DMV 手册 Chapter 5 说明，驾驶人必须让行合法使用有标记或无标记 crosswalk 的行人，并注意避免碰撞行人与骑车人。

72. 右转时为什么要特别注意行人、自行车和 moped rider？

- A. 他们在交通中常不易看见，可能在你的转弯路径上
- B. 他们永远必须让你
- C. 只有路考时需要注意
- D. 以上都不正确

正确答案: A

解析：纽约 DMV 手册 Chapter 5 提醒，右转时行人、骑车人和 moped rider 常不易看见，应特别观察。

73. 超越自行车时，纽约手册要求怎样做？

- A. 从左侧以安全距离超越，直到完全超过自行车
- B. 可以贴近同车道通过
- C. 鸣喇叭让自行车靠边即可
- D. 以上都不正确

正确答案: A

解析：纽约 DMV 手册 Chapter 6 说明，从后方超越自行车时，应从左侧保持安全距离直到完全超过。



74. 在 roundabout 内遇到自行车时，应怎样做？

- A. 不要在圆环内超越自行车
- B. 必须按喇叭要求其离开车道
- C. 可以从右侧挤过去
- D. 以上都不正确

正确答案: A

解析：纽约 DMV 手册 Chapter 8 说明，自行车可以像车辆一样在 roundabout 内骑行，机动车不应在圆环内超越自行车。

75. 遇到 aggressive driver 时，哪种做法最安全？

- A. 保持冷静，避免眼神挑衅，安全远离
- B. 加速抢回位置
- C. 用喇叭和手势回应
- D. 以上都不正确

正确答案: A

解析：纽约 DMV 手册 Chapter 8 建议，遇到 aggressive driver 时保持冷静，不挑衅，尽量安全远离。

76. 疲劳驾驶出现打哈欠、记不清刚开过的路、偏离车道等症状时，应怎么做？

- A. 找安全地点停车休息或小睡
- B. 打开车窗继续开
- C. 把音乐调大继续开
- D. 以上都不正确

正确答案: A

解析：纽约 DMV 手册 Chapter 8 说明，疲劳时不能依赖开窗或收音机，应找安全地点停车休息。



77. 道路施工区的 flagger 指挥是否必须服从？

- A. 必须，flagger 有与标志相同的指挥效力
- B. 不用，只看信号灯
- C. 只在白天需要服从
- D. 以上都不正确

正确答案: A

解析：纽约 DMV 手册 Chapter 8 说明，flagger 可指挥你停车、谨慎通行或变道，违反其指挥可能被开罚单。

78. 如果你接近路口时绿灯刚变黄，最安全的做法是什么？

- A. 如果能安全停车就停车；若已经太近无法安全停车，则谨慎通过
- B. 立即加速抢过路口
- C. 无论距离多近都猛踩刹车
- D. 把车停在路口中间等待

正确答案: A

解析：纽约 DMV 手册 Chapter 4 的交通信号内容强调，黄灯表示信号即将变红，应在安全时停车，避免急刹或抢灯。

79. 绿箭头亮起时，驾驶人是否还需要让行路口内的行人和车辆？

- A. 需要
- B. 不需要，绿箭头表示绝对优先
- C. 只需要让行车辆，不用让行行人
- D. 只在纽约市需要

正确答案: A

解析：纽约 DMV 手册 Chapter 4 说明，绿箭头允许按箭头方向通行，但仍必须让行路口内的其他交通和行人。



80. 红灯处准备右转时，哪一项是正确的？

- A. 必须先完全停车，并确认没有禁止转弯标志
- B. 只要路口空就不用停车
- C. 纽约市所有路口都可以红灯右转
- D. 红灯右转时不用让行行人

正确答案: A

解析：纽约 DMV 手册 Chapter 4 说明，红灯转弯必须先完全停车并让行；纽约市内除非标志允许，一般不允许红灯转弯。

81. 如果行人已经在人行横道内，即使你有绿灯，你应怎么做？

- A. 让行并等待其安全通过
- B. 鸣喇叭让他们让开
- C. 绕到他们前方通过
- D. 只要你是绿灯就可以先走

正确答案: A

解析：纽约 DMV 手册 Chapter 5 强调，驾驶人必须避免撞到行人，并让行合法使用 crosswalk 的行人。

82. 无信号路口两车同时到达，一车在你右侧。你应怎么做？

- A. 让右侧车辆先行
- B. 你先走，因为你已经到达
- C. 两车同时进入路口
- D. 按喇叭后抢先通过

正确答案: A

解析：纽约 DMV 手册 Chapter 5 说明，同时到达无控制路口时，左侧驾驶人应让右侧驾驶人先行。



83. 你从小路或 driveway 进入主路时，必须让行谁？

- A. 道路上的车辆和行人
- B. 只让行车辆
- C. 只让行行人
- D. 不需要让行

正确答案: A

解析：纽约 DMV 手册 Chapter 5 说明，从 driveway、alley 或私人道路进入道路时必须停车，并让行道路交通和行人。

84. 进入 roundabout 前，最重要的让行规则是什么？

- A. 让行已经在 roundabout 内的交通
- B. 进入车辆永远优先
- C. 只让行大型车辆
- D. 先到入口者永远先行

正确答案: A

解析：纽约 DMV 手册 Chapter 5 和 Chapter 8 都说明，进入圆环前必须让行已经在圆环内的交通。

85. 你正在等左转，信号灯变红但你已经在路口内，应怎么做？

- A. 在安全时完成转弯，清空路口
- B. 倒车回停车线后面
- C. 停在路口中间直到下个绿灯
- D. 立即左转不管对向车

正确答案: A

解析：纽约 DMV 手册 Chapter 5 的转弯规则强调，不要堵在路口；已进入路口等待左转时，应在安全时完成转弯清空路口。



86. 在纽约，哪些地点通常禁止 U-turn？

- A. 学校区域、纽约市商业区、有限通行高速和有禁止掉头标志处
- B. 所有住宅街道
- C. 所有没有信号灯的路口
- D. 所有单行道出口

正确答案: A

解析：纽约 DMV 手册 Chapter 5 列明，学校区域、纽约市商业区、limited-access expressway 和有 NO U-TURN 标志处禁止掉头。

87. 在弯道或坡顶附近掉头时，其他驾驶人至少要能从多远看到你的车？

- A. 500 英尺
- B. 200 英尺
- C. 100 英尺
- D. 50 英尺

正确答案: A

解析：纽约 DMV 手册 Chapter 5 说明，如果其他驾驶人不能从任一方向 500 英尺外看到你的车辆，不得掉头。

88. 变道前，除了打转向灯，还必须做什么？

- A. 看后视镜并回头检查盲区，确认安全
- B. 只看前方即可
- C. 只要速度更快就可以变道
- D. 先轻踩刹车让后车让路

正确答案: A

解析：纽约 DMV 手册 Chapter 6 说明，变道或超车前要确认车道安全，包括看镜子和检查盲区。



89. 超车时能否为了尽快通过而超过限速？

- A. 不能
- B. 可以，只能超过 5 mph
- C. 可以，只要没有警察
- D. 只在高速上可以

正确答案: A

解析：纽约 DMV 手册 Chapter 6 明确说明，超车时也不得超过限速。

90. 对向车辆接近时，什么时候不能开始左侧超车？

- A. 如果不能在对向车辆到达 200 英尺前安全回到右侧车道
- B. 如果对向车辆在 1 英里外
- C. 只要你打灯就都可以
- D. 只在夜间不能

正确答案: A

解析：纽约 DMV 手册 Chapter 6 规定，若不能在对向车辆接近到 200 英尺前安全回到右侧车道，不得左侧超车。

91. 在双向道路上，距离铁路道口多少英尺内不能左侧超车？

- A. 100 英尺
- B. 200 英尺
- C. 500 英尺
- D. 15 英尺

正确答案: A

解析：纽约 DMV 手册 Chapter 6 说明，在双向道路上，铁路道口 100 英尺内不得左侧超车。

92. 前车在人行横道前停车让行行人时，你应该怎么做？

- A. 不得超越该车
- B. 从左侧超越
- C. 从右侧超越
- D. 鸣喇叭后通过

正确答案: A

解析：纽约 DMV 手册 Chapter 6 明确说明，不得超越已经在 crosswalk 前停车让行行人的车辆。



93. 校车红灯闪烁并停车时，你应停在多远以外？

- A. 至少 20 英尺
- B. 至少 15 英尺
- C. 至少 50 英尺
- D. 至少 100 英尺

正确答案: A

解析：纽约 DMV 手册 Chapter 6 说明，校车红灯闪烁时，车辆应在到达校车前至少 20 英尺处停车。

94. 在纽约 divided highway 对向侧有校车红灯闪烁时，你是否必须停车？

- A. 必须
- B. 不必
- C. 只有没有中央隔离带时必须
- D. 只有校车旁有学生时必须

正确答案: A

解析：纽约 DMV 手册 Chapter 6 说明，校车停车规则适用于所有道路，包括 divided highway 的对向侧。

95. 校车黄灯闪烁时通常意味着什么？

- A. 校车即将停车上下学生，应减速准备停车
- B. 可以超车
- C. 校车发生故障
- D. 校车允许你从右侧通过

正确答案: A

解析：纽约 DMV 手册 Chapter 6 说明，校车会先闪烁黄色警告灯，提示即将停车上下学生。



96. 在纽约，NO PARKING 区域允许什么？

- A. 临时停车装卸货物或上下乘客
- B. 长时间停车等待
- C. 离开车辆办事
- D. 停车过夜

正确答案: A

解析：纽约 DMV 手册 Chapter 7 区分 parking、standing 和 stopping；NO PARKING 可临时停下装卸货物或上下乘客。

97. 在纽约，NO STANDING 区域允许什么？

- A. 临时停车上下乘客
- B. 装卸货物
- C. 长时间等人
- D. 驾驶人离开车辆

正确答案: A

解析：纽约 DMV 手册 Chapter 7 说明，NO STANDING 只允许临时上下乘客，不允许装卸货物或停车等候。

98. 纽约消防栓多少英尺内通常不能停车、停站或停车等候？

- A. 15 英尺
- B. 20 英尺
- C. 30 英尺
- D. 50 英尺

正确答案: A

解析：纽约 DMV 手册 Chapter 7 说明，不得在消防栓 15 英尺内停车、停站或停车等候，除非有持照驾驶人留在车内以便移车。



99. 路口 crosswalk 多少英尺内通常不能 parking 或 standing ?

- A. 20 英尺
- B. 15 英尺
- C. 30 英尺
- D. 50 英尺

正确答案: A

解析: 纽约 DMV 手册 Chapter 7 说明, 路口 crosswalk 20 英尺内不允许 parking 或 standing。

100. 铁路道口多少英尺内通常不能停车 ?

- A. 50 英尺
- B. 15 英尺
- C. 20 英尺
- D. 100 英尺

正确答案: A

解析: 纽约 DMV 手册 Chapter 7 说明, 不得在铁路道口 50 英尺内停车。

101. 纽约市未另有标示时, 通常最高限速是多少 ?

- A. 25 mph
- B. 35 mph
- C. 45 mph
- D. 55 mph

正确答案: A

解析: 纽约 DMV 手册 Chapter 8 说明, 纽约市未另有标示时通常限速为 25 mph。

102. 纽约市以外没有标示限速时, 纽约手册给出的最高速度是多少 ?

- A. 55 mph
- B. 65 mph
- C. 45 mph
- D. 25 mph

正确答案: A

解析: 纽约 DMV 手册 Chapter 8 说明, 没有限速标志时, 最高不得超过 55 mph, 同时仍要根据条件降低速度。



103. 即使没有超过标示限速，什么时候也可能速度过快？

- A. 雨雪雾、湿滑、交通拥挤或能见度差时
- B. 永远不会
- C. 只有夜间
- D. 只有高速公路

正确答案: A

解析：纽约 DMV 手册 Chapter 8 强调，速度必须适合道路、天气和交通条件；低于限速也可能不安全。

104. 使用 two-second rule 时，如果你数完前就到达同一参照物，说明什么？

- A. 跟车太近
- B. 跟车距离足够
- C. 车速太慢
- D. 必须变道

正确答案: A

解析：纽约 DMV 手册 Chapter 8 说明，two-second rule 用于检查跟车距离；过早到达同一参照物表示跟车太近。

105. 在坏天气或跟随大型车辆时，跟车距离应怎样调整？

- A. 增加到至少 3 或 4 秒
- B. 减少到 1 秒
- C. 保持 2 秒不变
- D. 只看限速，不看距离

正确答案: A

解析：纽约 DMV 手册 Chapter 8 说明，坏天气和跟随大型卡车时应增加跟车时间到至少 3 或 4 秒。



106. 纽约驾驶时手持手机通话的第一违规可能带来什么后果？

- A. 最高 \$200 罚款和 5 分
- B. 只会警告
- C. 自动吊销一年
- D. 没有任何分数

正确答案: A

解析：纽约 DMV 手册 Chapter 8 说明，第一次手持手机违规可罚最高 \$200 并记 5 分。

107. 纽约开车时使用便携电子设备发短信是否合法？

- A. 违法
- B. 合法，只要车速低
- C. 只在高速公路违法
- D. 只有未成年人违法

正确答案: A

解析：纽约 DMV 手册 Chapter 8 说明，驾驶时使用便携电子设备收发短信或电子邮件是违法的。

108. 纽约 4 岁以下儿童通常必须使用什么？

- A. 联邦批准的儿童安全座椅
- B. 成人安全带即可
- C. 不需要约束
- D. 只需要坐后排

正确答案: A

解析：纽约 DMV 手册 Chapter 8 说明，4 岁以下儿童必须使用联邦批准的儿童安全座椅。

109. 儿童后向式安全座椅能否放在有乘客安全气囊的前座？

- A. 绝对不可以
- B. 可以，只要系紧
- C. 只在低速道路可以
- D. 只在短途可以

正确答案: A

解析：纽约 DMV 手册 Chapter 8 提醒，不要将后向式儿童安全座椅放在有乘客安全气囊的前座。



110. 纽约 aggravated DWI 的 BAC 标准是多少？

- A. .18 或更高
- B. .08 或更高
- C. .05 或更高
- D. .02 或更高

正确答案: A

解析：纽约 DMV 手册 Chapter 9 说明，BAC .18 或更高是 aggravated DWI 的证据。

111. 纽约 implied consent law 的核心含义是什么？

- A. 驾驶即同意在酒精/药物相关逮捕后接受化学测试
- B. 驾驶即同意任何时候搜车
- C. 驾驶即同意放弃保险
- D. 驾驶即同意永远不能听证

正确答案: A

解析：纽约 DMV 手册 Chapter 9 说明，在纽约驾驶即被视为已同意在酒精或药物相关逮捕后接受化学测试。

112. 咖啡、冷水澡或运动能让 BAC 迅速下降吗？

- A. 不能，只有时间能有效降低 BAC
- B. 咖啡可以
- C. 冷水澡可以
- D. 运动可以

正确答案: A

解析：纽约 DMV 手册 Chapter 9 说明，只有时间能让身体代谢酒精并降低 BAC。



113. 纽约公共道路机动车内，驾驶人或乘客持有打开的酒精饮料是否合法？

- A. 违法
- B. 乘客合法
- C. 车辆停着就合法
- D. 只在高速违法

正确答案: A

解析：纽约 DMV 手册 Chapter 9 说明，驾驶人或乘客在公共道路机动车内饮用或持有打开的酒精饮料属交通违规。

114. 铁路道口红灯闪烁或栏杆下降时，应停在离铁轨至少多远？

- A. 至少 15 英尺
- B. 至少 20 英尺
- C. 至少 50 英尺
- D. 至少 100 英尺

正确答案: A

解析：纽约 DMV 手册 Chapter 10 说明，铁路道口红灯、铃声或栏杆启动时，应在离铁轨至少 15 英尺处停车。

115. 车辆卡在铁轨上且火车接近时，离车后应往哪个方向跑？

- A. 朝火车来的方向，并以 45 度角远离铁轨
- B. 沿火车前进方向跑
- C. 留在车旁等待
- D. 跑到车后方推车

正确答案: A

解析：纽约 DMV 手册 Chapter 10 说明，车辆卡在铁轨上且火车接近时，应朝火车来的方向并以 45 度角远离铁轨跑。



116. 纽约 expressway 通常限速是多少，除非另有标示？

- A. 55 mph，部分乡村地区可标示 65 mph
- B. 70 mph
- C. 45 mph
- D. 25 mph

正确答案: A

解析：纽约 DMV 手册 Chapter 10 说明，expressway 通常限速 55 mph，部分 rural areas 可标示 65 mph。

117. 错过 expressway 出口时，正确做法是什么？

- A. 继续到下一个出口
- B. 倒车回出口
- C. 穿越中央隔离带
- D. 停在路肩等机会

正确答案: A

解析：纽约 DMV 手册 Chapter 10 说明，错过出口时应继续到下一个出口；不要倒车或横穿中央隔离带。

118. 驶入 expressway 时，通常应怎样并入？

- A. 利用入口匝道加速接近车流速度，打灯并安全并入
- B. 在匝道末端永远停车
- C. 低速直接切入主路
- D. 从路肩加速超车

正确答案: A

解析：纽约 DMV 手册 Chapter 10 说明，除非有 STOP/YIELD/信号灯，进入 expressway 时应利用匝道加速并安全融入车流。



119. 驶离 expressway 前，至少应提前多远打信号？

- A. 至少 100 英尺
- B. 至少 15 英尺
- C. 至少 20 英尺
- D. 至少 500 英尺

正确答案: A

解析：纽约 DMV 手册 Chapter 10 说明，驶离 expressway 前应提前进入正确车道，并至少在出口匝道前 100 英尺打信号。

120. 纽约什么时候必须开前照灯？

- A. 日落后半小时至日出前半小时、能见度低于 1,000 英尺、以及雨雪雾需用雨刷时
- B. 只有完全黑夜
- C. 只有高速公路
- D. 只有下雪时

正确答案: A

解析：纽约 DMV 手册 Chapter 10 说明了前照灯使用时间、低能见度和雨刷联动要求。

121. 对向车辆接近时，远光灯应在多少英尺内切换近光？

- A. 500 英尺
- B. 200 英尺
- C. 100 英尺
- D. 50 英尺

正确答案: A

解析：纽约 DMV 手册 Chapter 10 说明，对向车辆 500 英尺内必须使用近光灯。

122. 跟随前车时，远光灯应在多少英尺内切换近光？

- A. 200 英尺
- B. 500 英尺
- C. 100 英尺
- D. 50 英尺

正确答案: A

解析：纽约 DMV 手册 Chapter 10 说明，距离前方车辆 200 英尺内应使用近光灯。



123. 车辆开始 hydroplane 时，正确做法是什么？

- A. 进一步减速，避免急刹和急打方向
- B. 加速通过积水
- C. 猛踩刹车
- D. 立刻拉手刹

正确答案: A

解析：纽约 DMV 手册 Chapter 10 说明，水滑会让车辆失去牵引力，应进一步降低速度并避免突然操作。

124. 后轮在冰雪中打滑时，应向哪里转方向盘？

- A. 朝车辆试图滑去的方向
- B. 朝相反方向猛转
- C. 保持方向盘不动
- D. 先关掉发动机

正确答案: A

解析：纽约 DMV 手册 Chapter 10 说明，后轮打滑时，应朝车辆试图移动的方向转方向盘。

125. 纽约金属钉胎允许使用的日期范围是什么？

- A. 10 月 16 日至 4 月 30 日
- B. 全年
- C. 12 月 1 日至 2 月 1 日
- D. 只在下雪当天

正确答案: A

解析：纽约 DMV 手册 Chapter 10 说明，metal stud tires 可在 10 月 16 日至 4 月 30 日使用。

126. 疲劳驾驶出现打哈欠、偏离车道、记不清刚开过路段时，应怎么做？

- A. 找安全地点停车休息
- B. 打开车窗继续开
- C. 把音乐调大继续开
- D. 喝咖啡后立即继续长途驾驶

正确答案: A

解析：纽约 DMV 手册 Chapter 8 说明，疲劳驾驶时不要依赖开窗或音乐，应安全停车休息。



127. 工作区遇到 flagger 指挥时，你应怎么做？

- A. 服从 flagger 指挥
- B. 只看信号灯，不管 flagger
- C. 如果赶时间可绕过
- D. 只在白天服从

正确答案: A

解析：纽约 DMV 手册 Chapter 8 说明，施工区 flagger 有权指挥交通，驾驶人必须服从。

128. 施工区驾驶时，哪种做法正确？

- A. 减速、保持安全距离、服从标志和工作人员
- B. 保持原速度
- C. 靠近前车防止插队
- D. 只在看到工人时减速

正确答案: A

解析：纽约 DMV 手册 Chapter 8 强调，工作区应减速、保持警觉并服从标志、信号和 flagger。

129. 摩托车在车道中的权利与汽车相比如何？

- A. 摩托车有权使用完整车道
- B. 摩托车必须贴右边缘行驶
- C. 汽车可以与摩托车并排挤在同一车道
- D. 摩托车只在高速上有车道权

正确答案: A

解析：纽约 DMV 手册 Chapter 11 强调，摩托车驾驶人享有与其他驾驶人相同的道路权利和责任，机动车不得挤占其车道空间。



130. 跟随摩托车时，为什么应留出更大的跟车距离？

- A. 摩托车可能更快停车或为避开小障碍突然改变位置
- B. 摩托车刹车距离一定比汽车长很多
- C. 摩托车永远不会突然减速
- D. 只有夜间需要留距离

正确答案: A

解析：纽约 DMV 手册 Chapter 11 提醒，摩托车更容易受路面坑洞、碎石、湿滑等影响，跟车时要给出额外空间。

131. 左转前为什么要特别寻找摩托车？

- A. 摩托车体积小，速度和距离更容易被误判
- B. 摩托车没有先行权
- C. 摩托车只能从右侧来
- D. 摩托车必须自己避让所有左转车辆

正确答案: A

解析：纽约 DMV 手册 Chapter 11 的共享道路内容强调，摩托车体积小、不易察觉，左转和路口判断时尤其要多看。

132. 准备变道时，为什么必须检查盲区中的摩托车？

- A. 摩托车很容易隐藏在汽车盲区内
- B. 摩托车总会鸣喇叭提醒你
- C. 只看后视镜永远足够
- D. 摩托车不能在多车道道路上行驶

正确答案: A

解析：纽约 DMV 手册 Chapter 11 提醒，摩托车较小，容易进入盲区；变道前要看镜子并回头确认。



133. 在同一车道内超越摩托车，正确做法是什么？

- A. 像超车汽车一样换到相邻车道并保持安全距离
- B. 在同一车道内贴近挤过去
- C. 鸣喇叭让摩托车让到路肩
- D. 只要车速低就可以并排行驶

正确答案: A

解析：纽约 DMV 手册 Chapter 11 的共享道路原则是给摩托车完整车道空间，超越时应像超越其他车辆一样保持足够距离。

134. 自行车在纽约道路上的基本地位是什么？

- A. 自行车属于道路交通的一部分，驾驶人应按车辆共享道路
- B. 自行车只能在人行道上行驶
- C. 自行车永远没有路权
- D. 汽车可以要求自行车离开车道

正确答案: A

解析：纽约 DMV 手册 Chapter 11 说明，骑车人和机动车驾驶人都必须遵守交通规则，机动车应与自行车共享道路。

135. 超越自行车时应怎样做？

- A. 从左侧以安全距离通过，直到完全超过自行车
- B. 贴近同一车道通过
- C. 从右侧通过
- D. 鸣喇叭后立即加速通过

正确答案: A

解析：纽约 DMV 手册 Chapter 11 和 Chapter 6 都强调，超越自行车时要从左侧保持安全距离，直到完全超过。



136. 右转前为什么要检查右侧自行车道或路肩？

- A. 自行车可能直行进入你的转弯路径
- B. 自行车必须永远在你后面
- C. 右转车辆永远优先
- D. 只有在有红灯时需要检查

正确答案: A

解析：纽约 DMV 手册 Chapter 11 提醒，转弯前要观察行人和骑车人，尤其是右转时可能与直行自行车发生冲突。

137. 打开车门前，驾驶人和乘客应先做什么？

- A. 检查后方和旁边是否有自行车、摩托车或车辆接近
- B. 立即开门，因为停着的车有优先权
- C. 只检查前方
- D. 只在夜间需要检查

正确答案: A

解析：纽约 DMV 手册 Chapter 11 的共享道路内容提醒，开门可能撞到骑车人或摩托车，开门前必须观察。

138. 看到骑车人绕开坑洞、排水口或碎石时，你应怎样理解？

- A. 预留空间，因为这些小障碍对自行车更危险
- B. 鸣喇叭要求其保持直线
- C. 贴近通过以免被挡路
- D. 认为骑车人违规

正确答案: A

解析：纽约 DMV 手册 Chapter 11 提醒，骑车人可能为避开路面危险而改变位置，驾驶人应留出安全空间。



139. 遇到使用白手杖或导盲犬的行人时，应怎么做？

- A. 完全让行并特别谨慎
- B. 鸣喇叭让其加快
- C. 只在有信号灯时让行
- D. 从其前方快速通过

正确答案: A

解析：纽约 DMV 手册 Chapter 11 强调，要特别保护盲人、视障行人以及行动不便行人，必须让其安全通过。

140. 行人、老人或行动不便者过街较慢时，驾驶人应怎么做？

- A. 耐心等待，给他们足够时间和空间
- B. 鸣喇叭催促
- C. 贴近他们前方通过
- D. 只要绿灯变了就前进

正确答案: A

解析：纽约 DMV 手册 Chapter 11 提醒，行人尤其是老人、儿童和行动不便者可能需要更多时间，驾驶人必须谨慎让行。

141. 大型卡车和公交车周围的 No-Zone 指什么？

- A. 驾驶人视线受限的盲区
- B. 专供小车超车的区域
- C. 紧急停车区
- D. 允许跟车更近的区域

正确答案: A

解析：纽约 DMV 手册 Chapter 11 说明，大型车辆前后左右都有 No-Zone 盲区，进入这些区域会让大型车驾驶人难以看见你。



142. 如果你看不到大型卡车的侧后视镜，通常说明什么？

- A. 卡车驾驶人可能也看不到你
- B. 你一定在安全位置
- C. 你可以放心加速通过
- D. 卡车必须让你先行

正确答案: A

解析：纽约 DMV 手册 Chapter 11 的大型车辆盲区规则可概括为：看不到卡车后视镜时，卡车驾驶人很可能看不到你。

143. 为什么不能在大型卡车或公交车前方突然切入？

- A. 大型车辆需要更长距离停车
- B. 大型车辆停车距离比小车短
- C. 大型车辆驾驶人总能立即看到你
- D. 只在下雨时危险

正确答案: A

解析：纽约 DMV 手册 Chapter 11 说明，大型车辆更重、停车距离更长，突然切入会减少其安全制动空间。

144. 大型卡车右转时，你为什么不应从其右侧挤过去？

- A. 大型车可能需要先向左摆再右转，右侧空间会被挤占
- B. 卡车右转时右侧永远安全
- C. 卡车必须保持在最右边不摆动
- D. 只有摩托车需要避开

正确答案: A

解析：纽约 DMV 手册 Chapter 11 提醒，大型车辆转弯半径大，右转前可能向左摆，驾驶人不得钻到其右侧危险区。



145. 跟在大型卡车后面太近有什么风险？

- A. 你会看不到前方路况，也可能处在卡车后方盲区
- B. 卡车会帮你挡住所有危险
- C. 这样最省油且安全
- D. 卡车驾驶人一定能通过后视镜看到你

正确答案: A

解析：纽约 DMV 手册 Chapter 11 说明，大型车辆后方存在盲区，跟车太近还会限制你的前方视野。

146. 看到橙色三角形慢速车辆标志时，通常表示什么？

- A. 前方车辆行驶速度很低，可能是农用或维护车辆
- B. 前方车辆会高速行驶
- C. 道路完全关闭
- D. 只能紧跟通过

正确答案: A

解析：纽约 DMV 手册 Chapter 11 的共享道路内容提醒，慢速车辆需要更长时间通过或转弯，看到慢速车辆标志要减速并谨慎超越。

147. 遇到骑马者或马车时，驾驶人应怎样做？

- A. 减速、留足空间，避免突然鸣喇叭或惊吓动物
- B. 贴近通过以尽快离开
- C. 持续鸣喇叭提醒
- D. 只有在乡村道路才需要注意

正确答案: A

解析：纽约 DMV 手册 Chapter 11 要求与特殊道路使用者共享道路，接近动物或马车时应降低速度并留出空间。



148. 在大型车辆旁边长时间并排行驶为什么危险？

- A. 你可能停留在侧方 No-Zone 盲区内
- B. 大型车旁边空气永远更稳定
- C. 这样能让大型车更容易转弯
- D. 只有夜间危险

正确答案: A

解析：纽约 DMV 手册 Chapter 11 提醒，不要停留在大型车辆侧方盲区，应安全、果断地通过或拉开距离。

149. 为什么在公交车站附近要特别注意行人？

- A. 乘客可能从公交车前后突然出现或横穿道路
- B. 公交车站附近没有行人
- C. 公交车会替你观察所有行人
- D. 只在学校区域需要注意

正确答案: A

解析：纽约 DMV 手册 Chapter 11 的共享道路主题要求驾驶人预判公共交通周边的行人活动，减速并准备让行。

150. 学校巴士载有学生时，可以在红灯处右转吗？

- A. 不可以
- B. 可以，先完全停车即可
- C. 只在纽约市不可以
- D. 只在没有行人时可以

正确答案: A

解析：纽约 DMV 手册 Chapter 4 说明，载有学生的校车不得在任何红灯处右转。



151. 黄色箭头灯表示什么？

- A. 绿箭头保护即将结束，准备停车
- B. 必须立即加速转弯
- C. 只能直行
- D. 箭头方向永远禁止通行

正确答案: A

解析：纽约 DMV 手册 Chapter 4 说明，黄色箭头表示绿箭头保护即将结束，准备停车。

152. 车道上方显示红色 X 时，该车道可以使用吗？

- A. 不可以
- B. 可以，只要车道空
- C. 只可以超车时短暂使用
- D. 只可以夜间使用

正确答案: A

解析：纽约 DMV 手册 Chapter 4 说明，车道控制灯的红色 X 表示不得在该车道行驶。

153. 车道上方显示黄色 X 时，正确做法是什么？

- A. 离开该车道
- B. 加速通过该车道
- C. 只用于左转
- D. 停车在车道内等待

正确答案: A

解析：纽约 DMV 手册 Chapter 4 说明，稳定黄色 X 表示应从该车道移出。

154. 车道上方闪烁黄色 X 通常表示什么？

- A. 该车道只能用于左转
- B. 该车道完全关闭
- C. 该车道限速取消
- D. 该车道只给公交车

正确答案: A

解析：纽约 DMV 手册 Chapter 4 说明，闪烁黄色 X 表示该车道只能用于左转。



155. 必须停车时，有白色停止线和人行横道线，应该停在哪里？

- A. 到达停止线前停下
- B. 停在人行横道中间
- C. 越过停止线后再停
- D. 只要不碰到行人即可

正确答案: A

解析：纽约 DMV 手册 Chapter 4 说明，因标志或信号需要停车时，有停止线应先停在停止线前。

156. 你的车道一侧是实线、对向一侧是虚线时，你可以跨线超车吗？

- A. 不可以，除非按规定左转进出道路
- B. 可以，只要对向没车
- C. 只可以超越慢车
- D. 只在白天可以

正确答案: A

解析：纽约 DMV 手册 Chapter 4 说明，实线在你一侧时不能跨线超车，通常只可为左转进出道路跨越。

157. 道路边缘实线通常表示什么？

- A. 行车道结束、路肩开始的位置
- B. 可以任意行驶的额外车道
- C. 专用超车车道
- D. 停车专用区

正确答案: A

解析：纽约 DMV 手册 Chapter 4 说明，道路边缘实线标示行车道边缘，通常不能跨越到路肩行驶。



158. 工作区限速最低可能被标示为多少？

- A. 25 mph
- B. 35 mph
- C. 45 mph
- D. 55 mph

正确答案: A

解析：纽约 DMV 手册 Chapter 4 说明，工作区限速可低至 25 mph，即使没有另设限速也必须降低速度。

159. 进入工作区后，flagger 的指挥和普通交通标志相比应如何处理？

- A. 按 flagger 指挥行驶
- B. 只看信号灯，不看 flagger
- C. 只有警察的指挥才有效
- D. flagger 只能建议，不能要求

正确答案: A

解析：纽约 DMV 手册 Chapter 4 和 Chapter 8 都说明，工作区 flagger 可以控制交通，驾驶人必须服从。

160. 另一辆车已经在路口内左转，你面对绿灯直行时应怎么做？

- A. 让它完成转弯后再进入
- B. 立刻直行，因为绿灯优先
- C. 鸣喇叭并从它前方通过
- D. 只要不碰撞就挤过去

正确答案: A

解析：纽约 DMV 手册 Chapter 5 说明，接近路口的驾驶人必须让行已经在路口内的交通。



161. 左转进入 driveway 或停车场时，对向车辆接近，你应怎么做？

- A. 让行对向交通
- B. 对向车必须让你
- C. 只要打左转灯即可先转
- D. 停在对面车道中等待

正确答案: A

解析：纽约 DMV 手册 Chapter 5 说明，左转进入 driveway、停车场或其他区域时也必须让行足以构成危险的对向交通。

162. 红灯变绿时，行人仍在横道内，你可以开始转弯吗？

- A. 不可以，应让行人通过
- B. 可以，因为行人应停下
- C. 可以，只要转弯很慢
- D. 只在右转时可以

正确答案: A

解析：纽约 DMV 手册 Chapter 5 说明，驾驶人必须让行合法使用有标线或无标线人行横道的行人。

163. 听到附近警笛但不知道紧急车辆在哪里，应怎么做？

- A. 安全靠右停车，直到确定它不是朝你驶来
- B. 继续原速行驶
- C. 停在路口中央观察
- D. 加速离开附近区域

正确答案: A

解析：纽约 DMV 手册 Chapter 5 说明，听到附近警笛而无法确定位置时，应安全靠右停车，直到确认紧急车辆不是朝你驶来。



164. 私人车辆显示蓝灯、绿灯或琥珀灯时，你是否法律上必须让行？

- A. 通常不强制，但安全时应礼让
- B. 必须像警车一样立即靠边
- C. 必须停在原车道
- D. 只要是蓝灯就一定是授权紧急车辆

正确答案: A

解析：纽约 DMV 手册 Chapter 5 说明，蓝、绿或琥珀灯车辆不是授权紧急车辆，驾驶人仍须遵守交通法规；你安全时应礼让。

165. 右转前，车辆位置应尽量在哪里？

- A. 尽量靠道路右侧
- B. 尽量靠车道中心线
- C. 从左侧车道转
- D. 先向左大幅摆出

正确答案: A

解析：纽约 DMV 手册 Chapter 5 说明，准备右转时应尽量靠右，不要做宽大的扫弯。

166. 三点掉头第一步通常应做什么？

- A. 打右转灯，靠右停车，再打左转灯并检查各方向
- B. 直接左转横过道路
- C. 先倒车到对向车道
- D. 不用打灯，快速完成

正确答案: A

解析：纽约 DMV 手册 Chapter 5 的三点掉头步骤先要求打右转灯靠右停车，再打左转灯并仔细检查各方向交通。



167. 超车或变道前，仅看后视镜够不够？

- A. 不够，还要快速回头检查盲区
- B. 够，只要后视镜调整正确
- C. 只在高速上需要回头
- D. 只在夜间需要回头

正确答案: A

解析：纽约 DMV 手册 Chapter 6 说明，即使后视镜调整正确也有盲区，变道或超车前必须快速回头看。

168. 完成左侧超车后，何时回到右车道较安全？

- A. 能在内后视镜看到被超车辆前保险杠，并回头确认有空间后
- B. 刚超过车尾就立即回去
- C. 不打灯直接回去
- D. 只要对向没车就回去

正确答案: A

解析：纽约 DMV 手册 Chapter 6 说明，回到右车道前应打灯、看内后视镜确认能看到被超车前保险杠，并快速回头确认空间。

169. 前车正在左转时，你可以在什么前提下从右侧通过？

- A. 只有在必要且安全，并且不驶上路肩或越过边缘线时
- B. 任何时候都可以
- C. 只能驶上路肩绕过
- D. 只要鸣喇叭即可

正确答案: A

解析：纽约 DMV 手册 Chapter 6 说明，右侧超车只在列明情形且安全必要时允许，不能驶上路肩或越过边缘线，除非标志或交通指挥允许。



170. 两向道路接近弯道或坡顶，看不清前方时可以左侧超车吗？

- A. 不可以
- B. 可以，只要前车慢
- C. 可以，只要鸣喇叭
- D. 只在白天可以

正确答案: A

解析：纽约 DMV 手册 Chapter 6 说明，在两向道路接近弯道或坡顶而无法看清前方时，不得左侧超车。

171. 两向道路上，在视线受阻的桥梁、隧道或高架桥 100 英尺内能左侧超车吗？

- A. 不可以
- B. 可以，只要没有黄线
- C. 可以，只要限速低
- D. 只在夜间不可以

正确答案: A

解析：纽约 DMV 手册 Chapter 6 说明，两向道路上视线受阻时，在桥梁、隧道或高架桥 100 英尺内不得左侧超车。

172. 平行停车选车位并准备停车前，应先做什么？

- A. 检查后视镜并打信号提醒后车
- B. 突然停车让后车反应
- C. 打开远光灯
- D. 不用观察后方

正确答案: A

解析：纽约 DMV 手册 Chapter 7 的平行停车步骤要求，停车前检查后视镜并打信号提醒其他驾驶人。



173. 平行停车倒车时，应主要看哪里？

- A. 通过后窗向后看，同时偶尔检查侧方和前方
- B. 只看倒车镜
- C. 只看前方
- D. 只看仪表盘

正确答案: A

解析：纽约 DMV 手册 Chapter 7 说明，平行停车倒车时应看后窗，不只依赖后视镜，并注意侧方和前方。

174. 山坡停车后，除了转动车轮外还应做什么？

- A. 拉紧停车制动，并把自动挡置于 Park
- B. 只开双闪即可
- C. 保持空挡
- D. 不用做其他操作

正确答案: A

解析：纽约 DMV 手册 Chapter 7 说明，山坡停车后应设置停车制动，自动挡置于 Park，手动挡置于 1 档。

175. 双排停车在纽约规则中如何处理？

- A. 不得停车、停站或停车等候
- B. 只要开双闪就可以
- C. 只允许 5 分钟
- D. 只在住宅区禁止

正确答案: A

解析：纽约 DMV 手册 Chapter 7 说明，不得在已停车的道路侧停车、停站或停车等候，也就是双排停车。



176. 在人行道或人行横道上可以停车、停站或停车等候吗？

- A. 不可以
- B. 可以，只要很快
- C. 只要车内有人就可以
- D. 只在没有行人时可以

正确答案: A

解析：纽约 DMV 手册 Chapter 7 明确列出，不得在人行道或人行横道上 parking、standing 或 stopping。

177. 消防站车道同侧多少英尺内通常不能 parking 或 standing？

- A. 20 英尺
- B. 30 英尺
- C. 50 英尺
- D. 75 英尺

正确答案: A

解析：纽约 DMV 手册 Chapter 7 说明，消防站车道同侧 20 英尺内不得 parking 或 standing。

178. 在消防站车道对面多少英尺内通常不能 parking 或 standing？

- A. 75 英尺
- B. 20 英尺
- C. 30 英尺
- D. 50 英尺

正确答案: A

解析：纽约 DMV 手册 Chapter 7 说明，消防站车道对面 75 英尺内不得 parking 或 standing。



179. 防御驾驶中，为什么不能只盯着前车？

- A. 应持续扫描前方、两侧和后方，提前发现问题
- B. 前车会替你发现所有危险
- C. 只看前车最省力且最安全
- D. 只在高速上需要看远

正确答案: A

解析：纽约 DMV 手册 Chapter 8 要求眼睛保持移动，持续观察前方、道路两侧，并每隔几秒通过后视镜检查后方。

180. 遇到 aggressive driver 挑衅时，应怎么做？

- A. 保持冷静，避免眼神接触，安全远离
- B. 加速挑战对方
- C. 挡住自己的车道不让
- D. 停车下车争论

正确答案: A

解析：纽约 DMV 手册 Chapter 8 建议，遇到 aggressive driver 不要眼神挑衅，不要加速挑战，应保持冷静并安全离开。

181. 如果 aggressive driver 跟着你，正确做法是什么？

- A. 不要停车或下车，开到最近的警察局
- B. 开回家让对方知道地址
- C. 停在路边争论
- D. 突然刹车警告对方

正确答案: A

解析：纽约 DMV 手册 Chapter 8 说明，被 aggressive driver 跟随时，不要停车或离车，应开到最近的警察局。



182. 工作区最常见的碰撞类型是什么？

- A. 追尾碰撞
- B. 正面碰撞
- C. 倒车碰撞
- D. 停车场擦碰

正确答案: A

解析：纽约 DMV 手册 Chapter 8 说明，工作区最常见的是追尾碰撞，应保持至少两秒或更多制动距离。

183. 工作区罚款在什么情况下可能加倍？

- A. 即使工人或工程车辆不在现场也可能加倍
- B. 只有夜间施工时
- C. 只有发生事故时
- D. 只有限速低于 25 mph 时

正确答案: A

解析：纽约 DMV 手册 Chapter 8 说明，在工作区超速罚款会加倍，即使工人或工程车辆不在场。

184. 接近现代 roundabout 时，应先看哪个方向的车流？

- A. 看左侧，圆环内车流有先行权
- B. 只看右侧
- C. 只看后方
- D. 不用看，进入车辆优先

正确答案: A

解析：纽约 DMV 手册 Chapter 8 说明，进入 roundabout 前应减速、让行行人并看左侧，圆环内车辆有先行权。



185. 在 roundabout 内遇到自行车，应如何处理？

- A. 不要在圆环内超越自行车
- B. 贴近从右侧通过
- C. 鸣喇叭要求其退出车道
- D. 自行车必须下车走人行道

正确答案: A

解析：纽约 DMV 手册 Chapter 8 说明，自行车可像车辆一样在 roundabout 内使用车道，机动车不要在圆环内超越自行车。

186. 成年人坐在有安全气囊的位置时，胸部中心与气囊盖至少应保持多远？

- A. 至少 10 英寸
- B. 至少 3 英寸
- C. 至少 5 英寸
- D. 至少 20 英寸

正确答案: A

解析：纽约 DMV 手册 Chapter 8 说明，成人应与安全气囊盖保持至少 10 英寸距离，双手放在 3 点和 9 点位置。

187. 后向式婴儿安全座椅可以放在有乘客安全气囊的前座吗？

- A. 绝对不可以
- B. 可以，只要座椅固定好
- C. 可以，只在低速道路上
- D. 可以，只要成年人坐旁边

正确答案: A

解析：纽约 DMV 手册 Chapter 8 明确提醒，不得把后向式婴儿安全座椅放在有乘客安全气囊的前座。



188. 处方药、非处方感冒药或过敏药会影响驾驶吗？

- A. 会，应查看警告并询问医生或药剂师
- B. 不会，只有酒精会影响驾驶
- C. 只有非法药物会影响驾驶
- D. 只有晚上服用才影响

正确答案: A

解析：纽约 DMV 手册 Chapter 9 说明，处方药、非处方药和非法药物都可能影响反应、判断、视力和警觉性。

189. 服药时喝酒为什么危险？

- A. 酒精和药物作用可能互相增强
- B. 药物会立即消除酒精影响
- C. 只会让人更清醒
- D. 只影响乘客不影响驾驶人

正确答案: A

解析：纽约 DMV 手册 Chapter 9 警告，酒精与其他药物合用可能增强彼此影响，严重降低驾驶能力。

190. 纽约 BAC 超过多少可作为 ability impaired 的法律证据？

- A. 0.05%
- B. 0.02%
- C. 0.08%
- D. 0.18%

正确答案: A

解析：纽约 DMV 手册 Chapter 9 说明，BAC 超过 0.05% 是 ability impaired 的法律证据。



191. 纽约 BAC 达到多少通常是 DWI/intoxication 的证据？

- A. 0.08% 或更高
- B. 0.02% 或更高
- C. 0.05% 或更高
- D. 0.18% 以下都不算

正确答案: A

解析：纽约 DMV 手册 Chapter 9 说明，BAC 0.08% 或更高是 intoxication/DWI 的证据。

192. 纽约 BAC 达到多少属于 aggravated DWI 的证据？

- A. 0.18% 或更高
- B. 0.08% 或更高
- C. 0.05% 或更高
- D. 0.02% 或更高

正确答案: A

解析：纽约 DMV 手册 Chapter 9 说明，BAC 0.18% 或更高是 aggravated driving while intoxicated 的证据。

193. 咖啡、运动或冷水澡能快速降低 BAC 吗？

- A. 不能，只有时间能有效降低 BAC
- B. 能，咖啡最快
- C. 能，运动最快
- D. 能，冷水澡最快

正确答案: A

解析：纽约 DMV 手册 Chapter 9 说明，咖啡、运动和冷水澡不能降低 BAC 或使人清醒；有效降低 BAC 的方法只有经过时间不再饮酒。



194. 纽约 implied consent 法意味着什么？

- A. 在纽约开车即视为同意酒药相关逮捕后的化学测试
- B. 可以拒绝所有测试且无后果
- C. 只有商用驾驶人才适用
- D. 只适用于血液测试

正确答案: A

解析：纽约 DMV 手册 Chapter 9 说明，根据 implied consent law，在纽约驾驶即视为已同意酒精或药物相关逮捕后的化学测试。

195. 21 岁以下驾驶人触发 zero tolerance 的 BAC 范围是什么？

- A. 0.02% 到 0.07%
- B. 0.08% 到 0.17%
- C. 0.18% 以上
- D. 只有 0.00% 才违法

正确答案: A

解析：纽约 DMV 手册 Chapter 9 说明，21 岁以下驾驶人的 zero tolerance 违规范围是可测量 BAC 0.02% 到 0.07%。

196. 铁路道口应如何看待？

- A. 把它视为路口，并始终预期可能有火车
- B. 只在有栏杆时当作路口
- C. 只在夜间危险
- D. 没有信号就不用减速

正确答案: A

解析：纽约 DMV 手册 Chapter 10 说明，铁路平交道口被视为路口，接近时始终预期可能有火车。



197. 铁路道口有多条轨道时，一列火车通过后应立即通过吗？

- A. 不应，应确认所有轨道双向都无其他火车
- B. 应该，第一列通过后一定安全
- C. 只要栏杆开始升起就立即通过
- D. 只看最近的轨道即可

正确答案: A

解析：纽约 DMV 手册 Chapter 10 说明，多轨道铁路道口要等能清楚看到所有轨道双向没有其他火车时再通过。

198. 前方交通堵塞，铁路另一侧没有足够空间，你可以上轨道等待吗？

- A. 不可以，必须等到车能完全越过所有轨道
- B. 可以，只要没有火车
- C. 可以，只要栏杆升起
- D. 只在白天可以

正确答案: A

解析：纽约 DMV 手册 Chapter 10 说明，除非确定整辆车能完全越过所有轨道且另一侧有空间，否则不得驶上铁路道口。

199. 跟随公交车或某些卡车接近铁路道口时，为什么要小心？

- A. 它们可能必须在所有铁路道口停车
- B. 它们会加速冲过铁路
- C. 它们不用遵守铁路信号
- D. 它们会在轨道上倒车

正确答案: A

解析：纽约 DMV 手册 Chapter 10 说明，校车、有乘客的公交车以及载有爆炸物或易燃货物的车辆必须在所有铁路道口停车。



200. 主动铁路道口的栏杆和红灯结束后，什么时候可以通过？

- A. 栏杆完全升起、红灯和铃声停止，并确认安全后
- B. 火车尾部刚过就立刻走
- C. 栏杆开始升起时就走
- D. 只要后车鸣喇叭就走

正确答案: A

解析：纽约 DMV 手册 Chapter 10 说明，主动铁路道口必须等栏杆完全升起、灯和铃停止后再通过。

201. 看到 STOP 标志时，正确做法是什么？



- A. 完全停下，按规则让行，安全时再走
- B. 只要没有车就慢慢通过
- C. 只需要让行行人，不必停车
- D. 以上都不正确

正确答案: A

解析：纽约 DMV 手册 Chapter 4 说明，STOP 标志要求完全停车，并让行路口内或正接近路口的车辆和行人。



202. 看到 YIELD 标志时，应当怎么做？



- A. 减速，必要时完全停下，让行车辆和行人
- B. 永远完全停车 3 秒
- C. 有优先权，可以直接通过
- D. 以上都不正确

正确答案: A

解析：纽约 DMV 手册 Chapter 4 说明，YIELD 标志要求接近路口时减速，必要时完全停下并让行。

203. 看到这个红色八边形标志时必须做什么？



- A. 在停车线或人行横道前完全停下，再安全通行
- B. 若无行人可减速通过
- C. 只需让行行人，不必停车
- D. 以上都不正确

正确答案: A

解析：纽约 DMV 手册 Chapter 4 说明，道路标志通过颜色、形状、符号和文字传达规则。STOP 标志要求在限制线前完全停车后再通行。



204. 在四向停车路口看到这个标志时，通行顺序如何？



- A. 按到达顺序依次通行，同时让行行人和右侧车辆
- B. 先来的车都让右侧车先走
- C. 若无行人可不必完全停
- D. 以上都不正确

正确答案: A

解析：纽约 DMV 手册 Chapter 4 说明，道路标志通过颜色、形状、符号和文字传达规则。四向停牌需全部车辆先停，按先来先行并让行右侧车辆与行人。

205. 这个“EXCEPT RIGHT TURN”配合红灯时表示什么？



- A. 红灯时仅允许右转无需停
- B. 红灯时仅允许右转，仍需完全停下并让行
- C. 仅左转时需要停
- D. 以上都不正确

正确答案: B

解析：纽约 DMV 手册 Chapter 4 说明，道路标志通过颜色、形状、符号和文字传达规则。红灯时仅允许右转，但必须先停车并让行。



206. 这个箭头标志要求你在红灯时做什么？



- A. 在箭头指示位置完全停下
- B. 在路口中心停下
- C. 减速到 5 mph 即可
- D. 以上都不正确

正确答案: A

解析：纽约 DMV 手册 Chapter 4 说明，道路标志通过颜色、形状、符号和文字传达规则。红灯时须在箭头指示位置完全停车。

207. 看到这个红底白字标志时应怎样？



- A. 继续前进，前方有优先权
- B. 立即停车并安全掉头或驶离
- C. 靠右慢行观察
- D. 以上都不正确

正确答案: B

解析：纽约 DMV 手册 Chapter 4 说明，道路标志通过颜色、形状、符号和文字传达规则。WRONG WAY 表示逆行，应立即安全驶离。



208. 遇到这个倒三角标志时应做什么？



- A. 减速并在必要时完全停下，让行车辆和行人
- B. 有优先权可直接通过
- C. 只对行人让行，不管车辆
- D. 以上都不正确

正确答案: A

解析：纽约 DMV 手册 Chapter 4 说明，道路标志通过颜色、形状、符号和文字传达规则。YIELD 标志要求减速让行，必要时完全停车。

209. 这个标志告诉你在窄桥或临时通行时应当做什么？



- A. 你有优先通行权
- B. 让行对向来车，必要时停下
- C. 两侧车辆同时通行
- D. 以上都不正确

正确答案: B

解析：纽约 DMV 手册 Chapter 4 说明，道路标志通过颜色、形状、符号和文字传达规则。该标志表示对向来车优先，应让行或停车等待。



210. 这个标志提示什么道路情况？



- A. 前方道路合流
- B. 前方进入分隔公路，有中央隔离
- C. 双向单车道
- D. 以上都不正确

正确答案: B

解析：纽约 DMV 手册 Chapter 4 说明，道路标志通过颜色、形状、符号和文字传达规则。分隔公路标志提示前方有中央隔离带。

211. 看到这个标志时你可以做什么？



- A. 可短暂时停车上下客
- B. 禁止停车，但可短暂时停靠即走人
- C. 可自由停车
- D. 以上都不正确

正确答案: B

解析：纽约 DMV 手册 Chapter 4 说明，道路标志通过颜色、形状、符号和文字传达规则。NO P ARKING 表示禁止停车，但可短暂时停靠上下客。



212. 这个标志说明在红灯时如何左转？



- A. 红灯禁止左转
- B. 红灯左转需先停后转
- C. 仅绿箭头允许左转
- D. 以上都不正确

正确答案: A

解析：纽约 DMV 手册 Chapter 4 说明，道路标志通过颜色、形状、符号和文字传达规则。NO LEFT ON RED 表示红灯禁止左转。

213. 碰到这个标志时你可以左转吗？



- A. 任何时候都禁止左转
- B. 仅红灯时禁止左转
- C. 仅高峰时段禁止左转
- D. 以上都不正确

正确答案: A

解析：纽约 DMV 手册 Chapter 4 说明，道路标志通过颜色、形状、符号和文字传达规则。斜杠左箭头表示禁止左转。



214. 这个标志对自行车意味着什么？



- A. 禁止自行车通行
- B. 仅夜间禁止自行车
- C. 要求下车推行
- D. 以上都不正确

正确答案: A

解析：纽约 DMV 手册 Chapter 4 说明，道路标志通过颜色、形状、符号和文字传达规则。斜杠自行车表示禁止自行车通行。

215. 绿灯左转时看到这个标志应如何？



- A. 绿灯左转前先让行对向直行/行人
- B. 绿灯左转拥有绝对优先权
- C. 红灯也可左转
- D. 以上都不正确

正确答案: A

解析：纽约 DMV 手册 Chapter 4 说明，道路标志通过颜色、形状、符号和文字传达规则。绿灯左转仍需让行对向直行和行人。



216. 遇到这个标志你应如何行驶？



- A. 保持在隔离或障碍物右侧通行
- B. 保持左侧行驶
- C. 可以在任意一侧通过
- D. 以上都不正确

正确答案: A

解析：纽约 DMV 手册 Chapter 4 说明，道路标志通过颜色、形状、符号和文字传达规则。KEEP RIGHT 表示需从障碍物右侧通过。

217. 这个标志对超车的要求是什么？



- A. 允许超车，但必须小心并确保安全
- B. 禁止任何超车
- C. 仅卡车可超车
- D. 以上都不正确

正确答案: A

解析：纽约 DMV 手册 Chapter 4 说明，道路标志通过颜色、形状、符号和文字传达规则。PASS WITH CARE 表示可超车但必须确保安全。



218. 看到这个标志时应该怎么做？



- A. 禁止进入对向车道超车
- B. 仅可在白天超车
- C. 小心左转
- D. 以上都不正确

正确答案: A

解析：纽约 DMV 手册 Chapter 4 说明，道路标志通过颜色、形状、符号和文字传达规则。DO NOT PASS 表示禁止跨线超车。

219. 遇到这个红圆标志时正确动作是？



- A. 立即停车并掉头，勿进入
- B. 慢行通过
- C. 仅夜间禁止进入
- D. 以上都不正确

正确答案: A

解析：纽约 DMV 手册 Chapter 4 说明，道路标志通过颜色、形状、符号和文字传达规则。DO NOT ENTER 表示禁止进入，应立即安全驶离。



220. 这个标志对行人意味着什么？



- A. 禁止行人进入或穿越此区域
- B. 仅夜间禁止行人
- C. 可在人行道通行
- D. 以上都不正确

正确答案: A

解析：纽约 DMV 手册 Chapter 4 说明，道路标志通过颜色、形状、符号和文字传达规则。斜杠行人图示表示行人禁止通行。

221. 看到这个标志时是否可以右转？



- A. 禁止右转
- B. 仅红灯禁止右转
- C. 仅卡车禁止右转
- D. 以上都不正确

正确答案: A

解析：纽约 DMV 手册 Chapter 4 说明，道路标志通过颜色、形状、符号和文字传达规则。斜杠右箭头表示禁止右转。



222. 这个标志对卡车驾驶员意味着什么？



- A. 禁止卡车通行
- B. 卡车限速 25 mph
- C. 仅允许卡车通行
- D. 以上都不正确

正确答案: A

解析：纽约 DMV 手册 Chapter 4 说明，道路标志通过颜色、形状、符号和文字传达规则。斜杠卡车表示禁止卡车通行。

223. 这个标志在红灯时的要求是？



- A. 红灯禁止任何转弯
- B. 红灯仅禁止右转
- C. 红灯可慢行转弯
- D. 以上都不正确

正确答案: A

解析：纽约 DMV 手册 Chapter 4 说明，道路标志通过颜色、形状、符号和文字传达规则。NO TURN ON RED 表示红灯禁止任何转弯。



224. 这个标志对红灯右转的限制是？



- A. 红灯禁止右转
- B. 红灯可在停稳后右转
- C. 仅高峰禁止右转
- D. 以上都不正确

正确答案: A

解析：纽约 DMV 手册 Chapter 4 说明，道路标志通过颜色、形状、符号和文字传达规则。NO RIGHT ON RED 表示红灯禁止右转。

225. 这个标志对掉头的规定是什么？



- A. 禁止掉头
- B. 只在红灯时禁止掉头
- C. 需要让行后可掉头
- D. 以上都不正确

正确答案: A

解析：纽约 DMV 手册 Chapter 4 说明，道路标志通过颜色、形状、符号和文字传达规则。斜杠 U 箭头表示禁止掉头。



226. 这个标志的含义是什么？



- A. 道路为单行道，交通方向指向左侧
- B. 左转禁止
- C. 仅公交可走左侧
- D. 以上都不正确

正确答案: A

解析：纽约 DMV 手册 Chapter 4 说明，道路标志通过颜色、形状、符号和文字传达规则。ONE WAY 表示道路为单行道，行驶方向向左。

227. 看到这个标志在左转时应注意什么？



- A. 对向直行可能保持更久的绿灯，需让行
- B. 你拥有更长绿灯可优先通行
- C. 红灯时可左转
- D. 以上都不正确

正确答案: A

解析：纽约 DMV 手册 Chapter 4 说明，道路标志通过颜色、形状、符号和文字传达规则。对向车流可能延长绿灯，左转需让行。



228. 这个上分支箭头标志表示什么？



- A. 前方可直行或左转
- B. 仅可左转
- C. 禁止直行
- D. 以上都不正确

正确答案: A

解析：纽约 DMV 手册 Chapter 4 说明，道路标志通过颜色、形状、符号和文字传达规则。该标志表示车道可直行或左转。

229. 这个左转 ONLY 车道标志的要求是？



- A. 该车道仅用于左转，禁止直行
- B. 该车道优先直行
- C. 仅公交可左转
- D. 以上都不正确

正确答案: A

解析：纽约 DMV 手册 Chapter 4 说明，道路标志通过颜色、形状、符号和文字传达规则。LEFT TURN ONLY 表示该车道仅可左转。



230. 这个直行或右转标志说明什么？



- A. 此车道可直行或右转
- B. 只能右转
- C. 禁止右转
- D. 以上都不正确

正确答案: A

解析：纽约 DMV 手册 Chapter 4 说明，道路标志通过颜色、形状、符号和文字传达规则。该车道允许直行或右转。

231. 这个车道用途标志说明？



- A. 左车道仅左转，右车道可直行或左转
- B. 两车道都直行
- C. 右车道禁止右转
- D. 以上都不正确

正确答案: A

解析：纽约 DMV 手册 Chapter 4 说明，道路标志通过颜色、形状、符号和文字传达规则。该标志表示左车道仅左转，右车道可直行或右转。



232. 这个标志说明红灯时允许什么？



- A. 红灯时由右转专用信号控制，需遵守信号指示
- B. 红灯可直接右转
- C. 禁止任何转向
- D. 以上都不正确

正确答案: A

解析：纽约 DMV 手册 Chapter 4 说明，道路标志通过颜色、形状、符号和文字传达规则。RIGHT TURN SIGNAL 表示右转需按专用信号指示通行。

233. 这个标志规定中央车道的用途是什么？



- A. 中央车道仅用于左转进出车道
- B. 中央车道允许超车
- C. 中央车道是快车道
- D. 以上都不正确

正确答案: A

解析：纽约 DMV 手册 Chapter 4 说明，道路标志通过颜色、形状、符号和文字传达规则。中间车道仅供双向车辆左转使用。



234. 这个标志表示什么停车要求？



- A. 残障人士专用车位，需有效许可证
- B. 仅周末可停
- C. 访客优先停车
- D. 以上都不正确

正确答案: A

解析：纽约 DMV 手册 Chapter 4 说明，道路标志通过颜色、形状、符号和文字传达规则。残障专用车位仅限持有有效许可车辆停放。

235. 栏杆放下且红灯闪烁，这个标志提示你应做什么？



- A. 在栏杆前完全停下，等信号解除再通过
- B. 绕过栏杆快速通过
- C. 只要听不到火车即可通过
- D. 以上都不正确

正确答案: A

解析：纽约 DMV 手册 Chapter 4 说明，道路标志通过颜色、形状、符号和文字传达规则。闸门放下且灯闪烁时必须停车等待。



236. 这个交叉形铁路标志意味着什么？



- A. 铁路道口，视作让行标志，需让行火车
- B. 仅公交需要停车
- C. 可加速通过
- D. 以上都不正确

正确答案: A

解析：纽约 DMV 手册 Chapter 4 说明，道路标志通过颜色、形状、符号和文字传达规则。铁路交叉牌表示道口在前，必须让行火车并必要时停车。

237. 这个右转 ONLY 标志要求？



- A. 该车道仅可右转，禁止直行
- B. 右转优先但可直行
- C. 禁止右转
- D. 以上都不正确

正确答案: A

解析：纽约 DMV 手册 Chapter 4 说明，道路标志通过颜色、形状、符号和文字传达规则。RIGHT TURN ONLY 表示该车道仅可右转。



238. 这个标志对路肩停车的规定是？



- A. 仅紧急情况可在此停车
- B. 允许临时休息
- C. 允许装卸货物
- D. 以上都不正确

正确答案: A

解析：纽约 DMV 手册 Chapter 4 说明，道路标志通过颜色、形状、符号和文字传达规则。EMERGENCY STOPPING ONLY 表示仅紧急情况可停车。

239. 看到这个 NO TURNS 标志时怎么开？



- A. 禁止左转、右转和掉头，只能直行
- B. 禁止左转但可右转
- C. 仅禁止掉头
- D. 以上都不正确

正确答案: A

解析：纽约 DMV 手册 Chapter 4 说明，道路标志通过颜色、形状、符号和文字传达规则。NO TURNS 表示禁止任何转弯，只能直行。



240. 这个最小限速标志的要求是？



- A. 除特殊情况外车速不得低于 40 mph
- B. 最高限速 40 mph
- C. 建议速度 40 mph
- D. 以上都不正确

正确答案: A

解析：纽约 DMV 手册 Chapter 4 说明，道路标志通过颜色、形状、符号和文字传达规则。最低限速 40 mph，除非安全原因不得低于。

241. 这个组合限速牌表示什么？



- A. 最高 55 mph，最低 45 mph
- B. 建议 55 mph
- C. 固定速度 45 mph
- D. 以上都不正确

正确答案: A

解析：纽约 DMV 手册 Chapter 4 说明，道路标志通过颜色、形状、符号和文字传达规则。该牌设定最高 55 mph、最低 45 mph 的速度区间。



242. 遇到这个 ROAD CLOSED 标志时？



- A. 前方道路封闭，必须改道
- B. 仅夜间封闭
- C. 当地居民可通过
- D. 以上都不正确

正确答案: A

解析：纽约 DMV 手册 Chapter 4 说明，道路标志通过颜色、形状、符号和文字传达规则。ROAD CLOSED 表示道路封闭，必须绕行。

243. 这个标志要求慢车如何行驶？



- A. 车速较慢需靠右行驶或让行
- B. 快车靠右，慢车靠左
- C. 仅卡车靠右
- D. 以上都不正确

正确答案: A

解析：纽约 DMV 手册 Chapter 4 说明，道路标志通过颜色、形状、符号和文字传达规则。慢车靠右标志要求车速较慢车辆靠右行驶。



244. 这个 WHEN CHILDREN ARE PRESENT 标志与限速有何关系？



- A. 儿童在场时需按校区限速行驶
- B. 儿童在场时禁止通行
- C. 仅晚上适用
- D. 以上都不正确

正确答案: A

解析：纽约 DMV 手册 Chapter 4 说明，道路标志通过颜色、形状、符号和文字传达规则。WHEN CHILDREN ARE PRESENT 表示有儿童时按校区限速行驶。

245. 这个校区限速牌在灯闪烁时要求什么？



- A. 灯闪烁时限速 20 mph，并注意行人/校车
- B. 任何时候都 20 mph
- C. 仅周末 20 mph
- D. 以上都不正确

正确答案: A

解析：纽约 DMV 手册 Chapter 4 说明，道路标志通过颜色、形状、符号和文字传达规则。闪灯时学校限速 20 mph 生效，应减速。



246. ALL YEAR 字样的黄牌说明什么？



- A. 校区限速全年有效，不分学期
- B. 仅夏季有效
- C. 限速仅夜间
- D. 以上都不正确

正确答案: A

解析：纽约 DMV 手册 Chapter 4 说明，道路标志通过颜色、形状、符号和文字传达规则。ALL YEAR 表示相关限制全年有效。

247. WHEN FLASHING 白底牌通常表示什么？



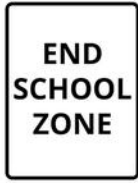
- A. 灯闪烁时对应的限速/规则开始生效
- B. 灯闪烁时可忽略限速
- C. 仅卡车遵守
- D. 以上都不正确

正确答案: A

解析：纽约 DMV 手册 Chapter 4 说明，道路标志通过颜色、形状、符号和文字传达规则。WHEN FLASHING 表示闪灯时标注规则生效。



248. END SCHOOL ZONE 表示什么？



- A. 校区限速结束，可恢复常规限速
- B. 前方开始校区
- C. 禁止经过此区域
- D. 以上都不正确

正确答案: A

解析：纽约 DMV 手册 Chapter 4 说明，道路标志通过颜色、形状、符号和文字传达规则。END SCHOOL ZONE 表示校区限制结束，可恢复常规限速。

249. 这个竖牌提示驾驶员对斑马线的义务是？



- A. 州法要求在斑马线前让行行人，必要时停车
- B. 仅需减速无需让行
- C. 行人必须让车
- D. 以上都不正确

正确答案: A

解析：纽约 DMV 手册 Chapter 4 说明，道路标志通过颜色、形状、符号和文字传达规则。州法要求在斑马线前让行行人，必要时停车。



250. 这个 SCHOOL 黄牌通常意味着？



- A. 与前方警告组合，表示学校相关区域
- B. 学校停车入口
- C. 仅教师停车标识
- D. 以上都不正确

正确答案: A

解析：纽约 DMV 手册 Chapter 4 说明，道路标志通过颜色、形状、符号和文字传达规则。SCHOOL 附牌表示相关警告适用于学校区域。

251. 这个持旗人标志提示你什么？



- A. 前方有交通指挥员，需减速并听从指挥
- B. 前方封路必须掉头
- C. 前方测速执法
- D. 以上都不正确

正确答案: A

解析：纽约 DMV 手册 Chapter 4 说明，道路标志通过颜色、形状、符号和文字传达规则。前方有旗手指挥，应减速并服从指示。



252. 这个 WORK ZONE 标志要求你做什么？



- A. 进入施工区必须打开车灯
- B. 关闭车灯避免眩光
- C. 鸣笛通过
- D. 以上都不正确

正确答案: A

解析：纽约 DMV 手册 Chapter 4 说明，道路标志通过颜色、形状、符号和文字传达规则。进入施工区需打开车灯以提高可见度。

253. END ACTIVE WORK ZONE 表示什么？



- A. 正在施工的区域结束，恢复常规限速/罚则
- B. 前方开始施工
- C. 道路封闭
- D. 以上都不正确

正确答案: A

解析：纽约 DMV 手册 Chapter 4 说明，道路标志通过颜色、形状、符号和文字传达规则。END ACTIVE WORK ZONE 表示施工活动结束，可恢复常规行驶。



254. ROAD WORK AHEAD 提示你什么？



- A. 前方有道路施工，需减速留意工人设备
- B. 道路封闭必须掉头
- C. 允许加速通过
- D. 以上都不正确

正确答案: A

解析：纽约 DMV 手册 Chapter 4 说明，道路标志通过颜色、形状、符号和文字传达规则。道路施工提示前方作业，应减速留意工人设备。

255. 这个工人铲土标志表示？



- A. 前方有工人作业，减速慢行
- B. 道路封闭
- C. 允许超车
- D. 以上都不正确

正确答案: A

解析：纽约 DMV 手册 Chapter 4 说明，道路标志通过颜色、形状、符号和文字传达规则。工人作业标志提示前方施工人员，应减速谨慎通过。



256. 这个校区限速预告告诉你什么？



- A. 前方将进入校区限速 20 mph，提前减速
- B. 校区结束
- C. 仅夜间限速
- D. 以上都不正确

正确答案: A

解析：纽约 DMV 手册 Chapter 4 说明，道路标志通过颜色、形状、符号和文字传达规则。校区限速预告提示即将进入学校限速区域，应提前减速。

257. 校车警告牌带行人和箭头表示？



- A. 前方校车上下学生区域，需准备停车礼让
- B. 仅公交专用道
- C. 校车不停车
- D. 以上都不正确

正确答案: A

解析：纽约 DMV 手册 Chapter 4 说明，道路标志通过颜色、形状、符号和文字传达规则。校车装卸学生区域提示前方可能停车上下学生，应减速并准备停车。



258. SCHOOL BUS STOP AHEAD 意味着？



- A. 前方校车站点，可能随时停车，上下学生时必须停
- B. 仅夜间停车
- C. 可在校车伸停牌时超车
- D. 以上都不正确

正确答案: A

解析：纽约 DMV 手册 Chapter 4 说明，道路标志通过颜色、形状、符号和文字传达规则。校车停靠点提示校车可能停车上下学生，应随时准备停车。

259. 20 MPH SCHOOL ZONE AHEAD 告诉你？



- A. 前方学校区域限速 20 mph，需提前减速
- B. 最高限速 20 mph 全程
- C. 仅夜间 20 mph
- D. 以上都不正确

正确答案: A

解析：纽约 DMV 手册 Chapter 4 说明，道路标志通过颜色、形状、符号和文字传达规则。前方学校区域限速 20 mph，应提前减速。



260. ACTIVE WORK ZONE WHEN FLASHING 提示什么？



- A. 灯闪时施工区生效，可能有加重罚则
- B. 灯闪时可加速通过
- C. 仅卡车须注意
- D. 以上都不正确

正确答案: A

解析：纽约 DMV 手册 Chapter 4 说明，道路标志通过颜色、形状、符号和文字传达规则。闪灯时施工区生效，应减速并遵守限制。

261. ROAD CLOSED AHEAD 警告你什么？



- A. 前方道路将封闭，需提前寻找绕行
- B. 仅夜间封闭
- C. 你有优先通行权
- D. 以上都不正确

正确答案: A

解析：纽约 DMV 手册 Chapter 4 说明，道路标志通过颜色、形状、符号和文字传达规则。ROAD CLOSED AHEAD 表示前方封闭，应提前准备绕行。



262. CONSTRUCTION ENTRANCE 表示什么？



- A. 施工车辆出入口，需警惕慢行
- B. 道路封闭
- C. 允许超车
- D. 以上都不正确

正确答案: A

解析：纽约 DMV 手册 Chapter 4 说明，道路标志通过颜色、形状、符号和文字传达规则。CONSTRUCTION ENTRANCE 提示施工车辆出入口，应减速警惕。

263. 黑色八边形写 SLOW 的牌子表示？



- A. 在施工区减速行驶
- B. 加速通过避免延误
- C. 仅卡车减速
- D. 以上都不正确

正确答案: A

解析：纽约 DMV 手册 Chapter 4 说明，道路标志通过颜色、形状、符号和文字传达规则。SLOW 标志要求在施工区减速行驶。



264. CONSTRUCTION 标志加上箭头表示？



- A. 前方开始施工区域，需提前减速
- B. 仅夜间施工
- C. 道路已开放无须减速
- D. 以上都不正确

正确答案: A

解析：纽约 DMV 手册 Chapter 4 说明，道路标志通过颜色、形状、符号和文字传达规则。CONSTRUCTION 提示前方施工区域，应提前减速。

265. ROAD MACHINERY AHEAD 意味着？



- A. 前方有施工机械缓慢移动，提前减速
- B. 仅限机械通行，禁止车辆
- C. 道路封闭
- D. 以上都不正确

正确答案: A

解析：纽约 DMV 手册 Chapter 4 说明，道路标志通过颜色、形状、符号和文字传达规则。ROAD MACHINERY AHEAD 表示前方有施工机械，应减速谨慎通过。



266. DETOUR 上箭头标志要求？



- A. 按箭头方向走绕行路线
- B. 原路直行即可
- C. 掉头返回
- D. 以上都不正确

正确答案: A

解析：纽约 DMV 手册 Chapter 4 说明，道路标志通过颜色、形状、符号和文字传达规则。绕行箭头要求按指示方向行驶。

267. ONE LANE ROAD AHEAD 提示什么？



- A. 前方变为单车道，需减速并交替通行
- B. 仅货车单车道
- C. 允许并排行驶
- D. 以上都不正确

正确答案: A

解析：纽约 DMV 手册 Chapter 4 说明，道路标志通过颜色、形状、符号和文字传达规则。ONE LANE ROAD AHEAD 提示前方变为单车道，应减速并交替通行。



268. BE PREPARED TO STOP 要求什么？



- A. 可能需要突然停车，提前减速
- B. 必须立即停车
- C. 无需减速
- D. 以上都不正确

正确答案: A

解析：纽约 DMV 手册 Chapter 4 说明，道路标志通过颜色、形状、符号和文字传达规则。BE PREPARED TO STOP 提示前方可能需要停车，应提前减速。

269. CONSTRUCTION VEHICLES ONLY 表示？



- A. 仅施工车辆可进入/使用该出口
- B. 私人车辆优先
- C. 仅夜间限制
- D. 以上都不正确

正确答案: A

解析：纽约 DMV 手册 Chapter 4 说明，道路标志通过颜色、形状、符号和文字传达规则。CONSTRUCTION VEHICLES ONLY 表示该出入口仅供施工车辆使用。



270. END ROAD WORK 意味着？



- A. 施工区结束，可恢复常规行驶/限速
- B. 前方开始施工
- C. 必须掉头
- D. 以上都不正确

正确答案: A

解析：纽约 DMV 手册 Chapter 4 说明，道路标志通过颜色、形状、符号和文字传达规则。END ROAD WORK 表示施工区结束，可恢复正常行驶。

271. LEFT LANE CLOSED AHEAD 提示？



- A. 前方左车道将关闭，应提前并线
- B. 右车道关闭
- C. 两侧车道全封闭
- D. 以上都不正确

正确答案: A

解析：纽约 DMV 手册 Chapter 4 说明，道路标志通过颜色、形状、符号和文字传达规则。LEFT LANE CLOSED AHEAD 表示左车道将关闭，应提前并线。



272. BUMP 黄牌提示什么？



- A. 前方路面隆起/减速带，需减速
- B. 坡道上坡需加速
- C. 道路封闭
- D. 以上都不正确

正确答案: A

解析：纽约 DMV 手册 Chapter 4 说明，道路标志通过颜色、形状、符号和文字传达规则。BUMP 提示前方路面隆起或减速带，应减速通过。

273. NO PASSING ZONE 黄三角表示什么？



- A. 此处及前方禁止跨线超车
- B. 建议谨慎超车
- C. 仅夜间禁超
- D. 以上都不正确

正确答案: A

解析：纽约 DMV 手册 Chapter 4 说明，道路标志通过颜色、形状、符号和文字传达规则。黄旗形 NO PASSING ZONE 表示进入禁止超车区。



274. 25 MPH 黄底牌通常意味着？



- A. 建议速度 25 mph (弯道/匝道等) , 根据条件调整
- B. 强制最高限速 25
- C. 最低限速 25
- D. 以上都不正确

正确答案: A

解析：纽约 DMV 手册 Chapter 4 说明，道路标志通过颜色、形状、符号和文字传达规则。黄底建议速度用于弯道或匝道，应按路况控制车速。

275. 这个并线标志提示什么？



- A. 右侧车道并入主线，需留意并线车辆
- B. 新增车道无需并线
- C. 左侧车道结束
- D. 以上都不正确

正确答案: A

解析：纽约 DMV 手册 Chapter 4 说明，道路标志通过颜色、形状、符号和文字传达规则。并线标志提示侧向车道并入，应留出空间并注意来车。



276. 这个标志对并线意味着什么？




- A. 旁侧匝道形成新增车道，无需互相抢道并线
- B. 右侧车道将结束，需要并入左侧
- C. 必须立即变道
- D. 以上都不正确

正确答案: A

解析：纽约 DMV 手册 Chapter 4 说明，道路标志通过颜色、形状、符号和文字传达规则。新增车道标志表示旁侧车流形成新车道，不需立即并线。

277. 这个分流箭头标志提示？



- A. 前方车流分为直行和右去向，提前选道
- B. 必须掉头
- C. 仅右转
- D. 以上都不正确

正确答案: A

解析：纽约 DMV 手册 Chapter 4 说明，道路标志通过颜色、形状、符号和文字传达规则。分流箭头表示前方分为直行与右转，应提前选道。



278. 这个上下箭头加隔离岛的标志提示什么？



- A. 中央分隔即将结束，前方无隔离的双向交通
- B. 开始分隔公路
- C. 道路封闭
- D. 以上都不正确

正确答案: A

解析：纽约 DMV 手册 Chapter 4 说明，道路标志通过颜色、形状、符号和文字传达规则。分隔公路结束提示前方为无隔离双向交通。

279. 这个右弯标志提示？



- A. 前方右向弯道，需减速
- B. 禁止右转
- C. 道路封闭
- D. 以上都不正确

正确答案: A

解析：纽约 DMV 手册 Chapter 4 说明，道路标志通过颜色、形状、符号和文字传达规则。右弯警告提示前方右向弯道，应减速通过。



280. 这个左弯标志要求你？



- A. 减速，准备通过左向弯道
- B. 必须左转掉头
- C. 表示道路封闭
- D. 以上都不正确

正确答案: A

解析：纽约 DMV 手册 Chapter 4 说明，道路标志通过颜色、形状、符号和文字传达规则。左弯警告提示前方左向弯道，应减速通过。

281. 这个三色灯警告牌提示？



- A. 前方有信号灯，需减速准备停车
- B. 信号失效可忽略
- C. 仅行人灯
- D. 以上都不正确

正确答案: A

解析：纽约 DMV 手册 Chapter 4 说明，道路标志通过颜色、形状、符号和文字传达规则。前方有信号灯路口，应提前减速并准备停车。



282. 车辆打滑图标提示什么？



- A. 路面潮湿易打滑，需减速平稳操控
- B. 允许漂移
- C. 仅夜间湿滑
- D. 以上都不正确

正确答案: A

解析：纽约 DMV 手册 Chapter 4 说明，道路标志通过颜色、形状、符号和文字传达规则。路面湿滑警告提示应减速并平稳操控。

283. 圆形 RR 交叉警告牌意味着？



- A. 前方铁路道口，减速、听/看是否有火车
- B. 铁路已废弃
- C. 仅公交停车
- D. 以上都不正确

正确答案: A

解析：纽约 DMV 手册 Chapter 4 说明，道路标志通过颜色、形状、符号和文字传达规则。圆形 R R 预告前方铁路道口，应减速并留意火车。



284. 这个右侧收窄标志提示？



- A. 右侧车道变窄，提前并线或留意间隙
- B. 左侧收窄
- C. 新增车道
- D. 以上都不正确

正确答案: A

解析：纽约 DMV 手册 Chapter 4 说明，道路标志通过颜色、形状、符号和文字传达规则。右侧车道变窄，需提前调整车距并准备并线。

285. 双箭头相反方向黄牌表示？



- A. 前方或当前为无隔离双向通行
- B. 单行道开始
- C. 仅公交双向
- D. 以上都不正确

正确答案: A

解析：纽约 DMV 手册 Chapter 4 说明，道路标志通过颜色、形状、符号和文字传达规则。双向通行标志提示前方为对向车流，应注意会车。



286. 双向绕行分隔物标志提示？



- A. 前方中央障碍/岛，车辆需分两侧绕行
- B. 道路封闭
- C. 单行道
- D. 以上都不正确

正确答案: A

解析：纽约 DMV 手册 Chapter 4 说明，道路标志通过颜色、形状、符号和文字传达规则。中央障碍标志提示前方有安全岛，应按箭头绕行。

287. 直角左转标志警告什么？



- A. 前方急转 90° 左弯，需大幅减速
- B. 仅小弯可高速过
- C. 禁止左转
- D. 以上都不正确

正确答案: A

解析：纽约 DMV 手册 Chapter 4 说明，道路标志通过颜色、形状、符号和文字传达规则。急左弯提示前方 90 度转弯，应明显减速。



288. 直角右转标志提示？



- A. 前方急转 90° 右弯，需减速
- B. 禁止右转
- C. 建议加速
- D. 以上都不正确

正确答案: A

解析：纽约 DMV 手册 Chapter 4 说明，道路标志通过颜色、形状、符号和文字传达规则。急右弯提示前方 90 度转弯，应明显减速。

289. 这块“左后右”连续弯道牌告诉你？



- A. 先左后右的连续弯道，需降低车速
- B. 只有一个左弯
- C. 直路无弯
- D. 以上都不正确

正确答案: A

解析：纽约 DMV 手册 Chapter 4 说明，道路标志通过颜色、形状、符号和文字传达规则。反向连续弯道提示先左后右，应提前减速。



290. 这个先右后左的连续弯道标志提示什么？




- A. 先右后左连续弯，需要减速
- B. 只有右弯
- C. 道路封闭
- D. 以上都不正确

正确答案: A

解析：纽约 DMV 手册 Chapter 4 说明，道路标志通过颜色、形状、符号和文字传达规则。反向连续弯道提示先右后左，应提前减速。

291. 这个黄色右箭头长牌告诉你什么？



- A. 前方必须按箭头方向行驶/转弯
- B. 可任意方向
- C. 禁止右转
- D. 以上都不正确

正确答案: A

解析：纽约 DMV 手册 Chapter 4 说明，道路标志通过颜色、形状、符号和文字传达规则。黄色方向箭头提示前方必须按箭头方向行驶或绕行。



292. 这个 T 字路口警告牌表示？



- A. 前方道路到此为止，需要左转或右转
- B. 可直行穿过
- C. 环岛在前
- D. 以上都不正确

正确答案: A

解析：纽约 DMV 手册 Chapter 4 说明，道路标志通过颜色、形状、符号和文字传达规则。T 字路口提示前方道路到头，必须左转或右转。

293. 这个右侧支路标志表示？



- A. 前方有右侧支路接入，注意来车
- B. 必须右转
- C. 禁止右转
- D. 以上都不正确

正确答案: A

解析：纽约 DMV 手册 Chapter 4 说明，道路标志通过颜色、形状、符号和文字传达规则。右侧支路标志提示右侧有道路汇入，应注意来车。



294. 这个十字路口警告牌表示？



- A. 前方有四向交叉路口，注意交叉交通
- B. 单行道结束
- C. 环岛
- D. 以上都不正确

正确答案: A

解析：纽约 DMV 手册 Chapter 4 说明，道路标志通过颜色、形状、符号和文字传达规则。十字路口警告提示前方交叉交通，应减速观察。

295. LANE ENDS MERGE LEFT 表示？



- A. 你所在车道结束，需并入左侧车道
- B. 左车道结束并向右并线
- C. 禁止并线
- D. 以上都不正确

正确答案: A

解析：纽约 DMV 手册 Chapter 4 说明，道路标志通过颜色、形状、符号和文字传达规则。LANE ENDS MERGE LEFT 表示当前车道结束，应向左并线。



296. ROAD NARROWS 警示你什么？



- A. 前方道路变窄，需减速并保持间距
- B. 道路封闭
- C. 新增车道
- D. 以上都不正确

正确答案: A

解析：纽约 DMV 手册 Chapter 4 说明，道路标志通过颜色、形状、符号和文字传达规则。ROAD NARROWS 表示前方道路变窄，应减速并保持间距。

297. 这个卡车倾侧标志提醒什么？



- A. 前方急弯/坡度有倾覆风险，卡车需大幅减速
- B. 仅小客车注意
- C. 允许高速通过
- D. 以上都不正确

正确答案: A

解析：纽约 DMV 手册 Chapter 4 说明，道路标志通过颜色、形状、符号和文字传达规则。卡车侧翻警告提示前方急弯/坡度，重车需显著降速。



298. 这个 Y 形交叉标志表示？



- A. 前方道路分叉成两支，需提前选道减速
- B. 必须右转
- C. 环岛在前
- D. 以上都不正确

正确答案: A

解析：纽约 DMV 手册 Chapter 4 说明，道路标志通过颜色、形状、符号和文字传达规则。Y 形路口提示前方分叉，应提前选道并减速。

299. 这个环岛警告标志要求？



- A. 前方环岛，减速并让行岛内车辆
- B. 必须直行，不可绕行
- C. 可高速通过
- D. 以上都不正确

正确答案: A

解析：纽约 DMV 手册 Chapter 4 说明，道路标志通过颜色、形状、符号和文字传达规则。环岛警告提示前方环岛，应减速并让行环岛内车辆。



300. 这个双头箭头标志表示？




- A. 前方只能左转或右转，禁止直行
- B. 允许直行
- C. 必须掉头
- D. 以上都不正确

正确答案: A

解析：纽约 DMV 手册 Chapter 4 说明，道路标志通过颜色、形状、符号和文字传达规则。双向箭头表示前方不得直行，只能左转或右转。

301. 这个窄桥/窄道标志警告？



- A. 前方桥梁/路面变窄，会车须小心减速
- B. 桥梁封闭
- C. 仅卡车通行
- D. 以上都不正确

正确答案: A

解析：纽约 DMV 手册 Chapter 4 说明，道路标志通过颜色、形状、符号和文字传达规则。前方桥面或道路变窄，应减速并谨慎会车。



302. WATCH FOR ICE ON BRIDGES 提示？



- A. 桥面易结冰，需减速、平稳操控
- B. 桥面封闭
- C. 加速防打滑
- D. 以上都不正确

正确答案: A

解析：纽约 DMV 手册 Chapter 4 说明，道路标志通过颜色、形状、符号和文字传达规则。桥面易结冰，应减速并平稳操作。

303. 鹿跃标志意味着？



- A. 前方可能有鹿横穿，需减速警惕
- B. 允许狩猎
- C. 仅夜间有鹿
- D. 以上都不正确

正确答案: A

解析：纽约 DMV 手册 Chapter 4 说明，道路标志通过颜色、形状、符号和文字传达规则。野生动物警告标志提示前方可能有鹿横穿，应减速警惕。



304. 12'-6" 这种上下箭头牌表示？



- A. 前方结构净空 12 英尺 6 英寸，超高车辆不得通行
- B. 限速 12 mph
- C. 最小车长 12 英尺
- D. 以上都不正确

正确答案: A

解析：纽约 DMV 手册 Chapter 4 说明，道路标志通过颜色、形状、符号和文字传达规则。净空高度标志提示前方限高 12 英尺 6 英寸，超高车辆不得通行。

305. 这个自行车图标黄牌表示？



- A. 前方有自行车通行/横穿，减速注意
- B. 禁止自行车
- C. 仅自行车道，禁止机动车
- D. 以上都不正确

正确答案: A

解析：纽约 DMV 手册 Chapter 4 说明，道路标志通过颜色、形状、符号和文字传达规则。自行车警告标志提示前方可能有自行车通行或横穿，应减速留意。



306. LOOSE GRAVEL 标志提醒？



- A. 路面碎石易打滑/飞溅，需减速加大车距
- B. 道路封闭
- C. 仅卡车受限
- D. 以上都不正确

正确答案: A

解析：纽约 DMV 手册 Chapter 4 说明，道路标志通过颜色、形状、符号和文字传达规则。松散碎石会降低附着力，需减速慢行。

307. HIGHWAY INTERSECTION AHEAD 表示？



- A. 前方与高速/主干线交汇，注意高速来车
- B. 封闭路口
- C. 仅行人通行
- D. 以上都不正确

正确答案: A

解析：纽约 DMV 手册 Chapter 4 说明，道路标志通过颜色、形状、符号和文字传达规则。提示前方与主干道/高速交汇，应注意更快车流。



308. 看到这个黄色菱形警告标志时，它提示驾驶者前方道路状况如何？



- A. 前方有车辆从右侧车道汇入主路，注意避让。
- B. 前方道路分岔，车流将分为两个不同的方向（直行和向右）。
- C. 前方是一个连续弯道（先左后右），需要减速行驶。
- D. 以上都不正确

正确答案: B

解析：纽约 DMV 手册 Chapter 4 说明，道路标志通过颜色、形状、符号和文字传达规则。该标志表示前方道路分叉或分流，应提前选道减速。

309. 双色下箭头牌表示什么？



- A. 中央障碍/岛，车辆可从两侧绕行
- B. 只准右侧通行
- C. 道路封闭
- D. 以上都不正确

正确答案: A

解析：纽约 DMV 手册 Chapter 4 说明，道路标志通过颜色、形状、符号和文字传达规则。双下箭头表示前方中央障碍/安全岛，车辆可从两侧绕行。



310. 这个低/软路肩标志提醒什么？



- A. 路肩高度/强度不足，勿突然驶入或猛回正
- B. 可在路肩超车
- C. 路肩封闭不可使用
- D. 以上都不正确

正确答案: A

解析：纽约 DMV 手册 Chapter 4 说明，道路标志通过颜色、形状、符号和文字传达规则。低/软路肩提示路肩承载差，应避免突然驶入或急回正。

311. 看到这个卡车下坡标志时应如何？



- A. 前方陡坡，提前减速并用低速挡控制车速
- B. 加速通过
- C. 仅卡车受限，小车无须理会
- D. 以上都不正确

正确答案: A

解析：纽约 DMV 手册 Chapter 4 说明，道路标志通过颜色、形状、符号和文字传达规则。下坡警告提示前方陡坡，应提前减速并用低速挡控制车速。



312. DIP 标志提醒什么？



- A. 前方路面下凹，需减速通过
- B. 坡道上坡
- C. 禁止通行
- D. 以上都不正确

正确答案: A

解析：纽约 DMV 手册 Chapter 4 说明，道路标志通过颜色、形状、符号和文字传达规则。DIP 表示前方路面下凹，应减速通过。

313. 行人图标黄牌要求？



- A. 前方人行横道，减速并礼让行人
- B. 禁止行人通行
- C. 仅夜间才有人行横道
- D. 以上都不正确

正确答案: A

解析：纽约 DMV 手册 Chapter 4 说明，道路标志通过颜色、形状、符号和文字传达规则。行人过街警告标志提示前方有人行横道，应减速并准备让行。



314. SPEED LIMIT 65 白底牌表示？



- A. 法定最高限速 65 mph，不得超速
- B. 建议速度 65 mph，可超
- C. 最低限速 65 mph
- D. 以上都不正确

正确答案: A

解析：纽约 DMV 手册 Chapter 4 说明，道路标志通过颜色、形状、符号和文字传达规则。白底限速牌表示法定最高限速，不得超速。

315. 当您在有“红灯禁止转弯”（NO TURN ON RED）标志的十字路口时，这意味着：



- A. 您不可以在红灯时右转。
- B. 您不可以在红灯时右转，除非您先停车。
- C. 该标志仅适用于卡车。
- D. 以上都不正确

正确答案: A

解析：纽约 DMV 手册 Chapter 4 说明，道路标志通过颜色、形状、符号和文字传达规则。NO TURN ON RED 表示红灯时禁止转弯，需等待绿灯。



316. 在有闪烁黄灯 (Flashing Yellow Light) 的十字路口，您是否需要为 (可能有闪烁红灯的) 交叉车流停车？



- A. 是，您必须始终停车。
- B. 否，您有先行权，但您仍应减速并保持警惕。
- C. 是，您必须为他们让行。
- D. 以上都不正确

正确答案: B

解析：纽约 DMV 手册 Chapter 4 说明，道路标志通过颜色、形状、符号和文字传达规则。闪烁黄灯无需停车，但必须减速并保持警惕。

317. 在有恒亮绿色箭头 (Solid Green Arrow) 的情况下左转，您是否需要为迎面而来的车流让行？



- A. 是，您必须始终为迎面车流让行。
- B. 否，绿色箭头表示“受保护”转弯，迎面车流有红灯。
- C. 是，但仅限卡车。
- D. 以上都不正确

正确答案: B

解析：纽约 DMV 手册 Chapter 4 说明，道路标志通过颜色、形状、符号和文字传达规则。绿箭头为受保护转弯，迎面车流为红灯，无需为其让行。



318. 如果您在十字路口面对闪烁红灯 (Flashing Red Light) ，而交叉车流 (来自您左侧和右侧) 面对恒亮的红灯，您应该：



- A. (这种情况不会发生)
- B. 在停车后，您可以 (在为他人让行后) 继续行驶。
- C. 等待绿灯。
- D. 以上都不正确

正确答案: B

解析：纽约 DMV 手册 Chapter 4 说明，道路标志通过颜色、形状、符号和文字传达规则。闪烁红灯按 STOP 处理，停车后让行再继续。

319. 如果您在十字路口面对闪烁黄灯 (Flashing Yellow Light) ，而交叉车流 (来自您左侧和右侧) 面对闪烁红灯，谁有先行权？



- A. 您 (闪烁黄灯) 。
- B. 您们都必须停车。
- C. 右侧的车辆。
- D. 以上都不正确

正确答案: A

解析：纽约 DMV 手册 Chapter 4 说明，道路标志通过颜色、形状、符号和文字传达规则。闪烁黄灯可谨慎通行，闪烁红灯必须停车让行，因此您有先行权但仍需减速警惕。



320. 在十字路口，如果您在（STOP 标志处的）限制线前停车，但您的视线受阻，您应该：



- A. （在停车后）缓慢向前“蠕行”（Creep），直到您能看清为止。
- B. 鸣喇叭并继续行驶。
- C. 掉头。
- D. 以上都不正确

正确答案: A

解析：纽约 DMV 手册 Chapter 4 说明，道路标志通过颜色、形状、符号和文字传达规则。根据手册第7章《道路法律及规定》《道路通行规则》的规定，先在限制线处停车，若视线受阻应缓慢向前蠕行至看清再通行。

321. 如果您在学校区域看到“END SCHOOL ZONE”（学校区域结束）的标志，您可以：



- A. 立即加速至时速 65 哩。
- B. 恢复到该区域（例如，住宅区）的正常标示限速。
- C. 停车并掉头。
- D. 以上都不正确

正确答案: B

解析：纽约 DMV 手册 Chapter 4 说明，道路标志通过颜色、形状、符号和文字传达规则。根据手册第7章《道路法律及规定》《道路通行规则》的规定，END SCHOOL ZONE 表示学校限速结束，可恢复该区域的正常限速。



322. 在有“禁止泊车” (NO PARKING) 标志的地方，您可以：



- A. 临时停车 (不超过 5 分钟) 上下客或装卸货物。
- B. 停车，只要驾驶员留在车内。
- C. 停车，但仅限夜间。
- D. 以上都不正确

正确答案: A

解析：纽约 DMV 手册 Chapter 4 说明，道路标志通过颜色、形状、符号和文字传达规则。根据手册第7章《道路法律及规定》《停车规定》的规定，禁止泊车区通常允许短暂停车上下客或装卸货物。

323. 在有“禁止泊车” (NO PARKING) 标志的区域，您是否可以短暂时停车让乘客下车？



- A. 是，这通常是允许的。
- B. 是，但仅限 30 秒内。
- C. 否，除非您打开应急闪光灯。
- D. 以上都不正确

正确答案: A

解析：纽约 DMV 手册 Chapter 4 说明，道路标志通过颜色、形状、符号和文字传达规则。根据手册第7章《道路法律及规定》《停车规定》的规定，禁止泊车区通常允许短暂停车上下客。



324. “红色路缘石” (Red Curb) 和“禁止泊车” (NO PARKING) 标志之间的区别是什么？



- A. 没有区别，它们的意思相同。
- B. 红色路缘石表示完全禁止停车/待车，而“禁止泊车”标志通常允许短暂上下客。
- C. “禁止泊车”标志仅适用于白天。
- D. 以上都不正确

正确答案: B

解析：纽约 DMV 手册 Chapter 4 说明，道路标志通过颜色、形状、符号和文字传达规则。根据手册第7章《道路法律及规定》《停车规定》的规定，红色路缘石完全禁止停车/待车，而禁止泊车区通常允许短暂上下客。

325. 无围栏操场附近 500 呎内，儿童在场时限速应为多少？



- A. 15 mph。
- B. 25 mph。
- C. 35 mph。
- D. 以上都不正确

正确答案: B

解析：纽约 DMV 手册 Chapter 4 说明，道路标志通过颜色、形状、符号和文字传达规则。根据手册第7章《道路法律及规定》《道路通行规则》的规定，无围栏操场 500 呎内有儿童时限速为 25 哩/小时 (或更低标志)。



326. 橙色的菱形标志 (例如“ROAD WORK AHEAD”) 表示什么 ?



- A. 高速公路建设及维护 (施工区) 。
- B. 前方有永久性的道路危险。
- C. 前方有休息区。
- D. 以上都不正确

正确答案: A

解析：纽约 DMV 手册 Chapter 4 说明，道路标志通过颜色、形状、符号和文字传达规则。根据手册第8章《安全驾驶》《修路工人和施工区》的规定，橙色菱形标志表示前方为道路施工或维护区域。

327. 在施工区看到旗手举着“SLOW/STOP”指示牌时，您应该：



- A. 只在看到危险时才遵守。
- B. 鸣喇叭继续行驶。
- C. 始终遵从旗手的指示。
- D. 以上都不正确

正确答案: C

解析：纽约 DMV 手册 Chapter 4 说明，道路标志通过颜色、形状、符号和文字传达规则。根据手册第8章《安全驾驶》《修路工人和施工区》的规定，旗手举牌时必须严格按照其指示行驶或停车。



328. 在施工区，您看到一个标志显示“ROAD MACHINERY AHEAD”（前方道路机械）。这意味着：



- A. 道路已封闭，您必须掉头。
- B. 前方有大型、移动缓慢的设备（如推土机或铺路机）可能正在或即将进入行车线。
- C. 机械将为您让行。
- D. 以上都不正确

正确答案: B

解析：纽约 DMV 手册 Chapter 4 说明，道路标志通过颜色、形状、符号和文字传达规则。根据手册第8章《安全驾驶》《修路工人和施工区》的规定，“前方道路机械”提示有大型缓慢设备可能进入车道，应减速并谨慎通过。

329. 当您在不受管制的“T”字形交叉路口（您在“T”字的顶部直行）时，谁拥有先行权？



- A. 从“T”字底部道路转弯的车辆。
- B. 在直行道路上的车辆、行人和自行车。
- C. 最先打信号的车辆。
- D. 以上都不正确

正确答案: B

解析：纽约 DMV 手册 Chapter 4 说明，道路标志通过颜色、形状、符号和文字传达规则。根据手册第7章《道路法律及规定》《先行权》的规定，T 字形路口直行道路的车流拥有先行权，支路车辆必须让行。



330. 在有“STOP”标志的四向停车十字路口，如果您与您左侧的车辆同时停车，谁应该先行？



- A. 您（在右侧的车辆）应该先行。
- B. 左转的车辆先行。
- C. 车身较大的车辆先行。
- D. 以上都不正确

正确答案: A

解析：纽约 DMV 手册 Chapter 4 说明，道路标志通过颜色、形状、符号和文字传达规则。根据手册第7章《道路法律及规定》《先行权》的规定，这是礼让右侧规则。当车辆同时到达十字路口时，您必须为您右侧的车辆让行。在这种情况下，您在对方的右侧，因此您拥有先行权，您左侧的车辆必须让行。

331. 当您驾车靠近一个您没有“STOP”标志的十字路口时，您看到一辆来自您左侧的车辆有“STOP”标志。您应该：



- A. 减速并准备在他们不让行时停车，但您拥有先行权。
- B. 鸣喇叭并加速通过。
- C. 为他们让行，因为他们在您的左侧。
- D. 以上都不正确

正确答案: A

解析：纽约 DMV 手册 Chapter 4 说明，道路标志通过颜色、形状、符号和文字传达规则。根据手册第7章《道路法律及规定》《先行权》的规定，您所在道路无 STOP 标志则拥有先行权，但必须保持警惕，准备在对方不让行时停车。



332. 在有“STOP”标志的四向停车十字路口，当您停车后，您发现您右侧的车辆也在停车。您应该怎么做？



- A. 您先行，因为您想直行。
- B. 为右侧的车辆让行。
- C. 鸣喇叭，示意他们先走。
- D. 以上都不正确

正确答案: B

解析：纽约 DMV 手册 Chapter 4 说明，道路标志通过颜色、形状、符号和文字传达规则。根据手册第7章《道路法律及规定》《先行权》的规定，这是礼让右侧规则。，如果车辆同时到达，您必须为您右侧的车辆让行。即使您们是同时停车的，您也必须等待，让您右侧的车辆先行通过。

333. 在有“STOP”标志的四向停车十字路口，如果您在另一辆车之后到达，您应该：



- A. 在他们后方停车，然后在他们通过后立即跟随他们通过。
- B. 完全停车，并等待轮到您。
- C. 如果您也想直行，可以和他們同时通过。
- D. 以上都不正确

正确答案: B

解析：纽约 DMV 手册 Chapter 4 说明，道路标志通过颜色、形状、符号和文字传达规则。依据手册第7章《道路法律及规定》《停车标志与四向停牌》的要点，STOP标志意味着您必须完全停车。先行权规则（如先到先行）仅在您停车后才适用。您必须完全停车，评估情况，然后在轮到您时（在所有比您先到的车辆都通过后）再行驶。



334. “左转车绿灯减速慢行” (LEFT TURN YIELD ON GREEN) 的标志是什么意思？



- A. 您有受保护的转弯，迎面车流会停止。
- B. 您可以在绿灯时左转，但必须为迎面车流和行人让行。
- C. 在此十字路口禁止左转。
- D. 以上都不正确

正确答案: B

解析：纽约 DMV 手册 Chapter 4 说明，道路标志通过颜色、形状、符号和文字传达规则。这个标志是用来提醒驾驶员，当您面对恒亮的绿色圆形灯时，您的左转是不受保护的。您必须为所有迎面而来的车辆和行人让行。

335. 在“T”字形路口 (没有标志或信号灯) 从单行道转入双向道时，谁拥有先行权？



- A. 在双向道上直行的车流拥有先行权。
- B. 从右侧接近的车辆。
- C. 从单行道驶出的车辆。
- D. 以上都不正确

正确答案: A

解析：纽约 DMV 手册 Chapter 4 说明，道路标志通过颜色、形状、符号和文字传达规则。根据手册第7章《道路法律及规定》《先行权》的规定，根据手册，在T字形交叉路口，直行道路 (即T字的顶部) 上的车流 (包括车辆、自行车和行人) 拥有先行权。从T字底部道路 (无论是单行还是双向) 驶入的车辆必须让行。



336. 如果您在等待左转时，迎面而来的车辆的右转向灯正在闪烁，您应该：



- A. 鸣喇叭提醒他们转弯。
- B. 等待，直到该车辆真正开始转弯或通过，再继续左转。
- C. 关闭您的信号灯，等待下一个绿灯。
- D. 以上都不正确

正确答案: B

解析：纽约 DMV 手册 Chapter 4 说明，道路标志通过颜色、形状、符号和文字传达规则。根据手册第7章《道路法律及规定》《转弯规则》的规定，明确警告，左转时不要假设对面的车辆会转弯。驾驶员可能错误地打开了转向灯，或者他们打算在您之后的某个地方转弯。您必须等待，直到该车辆真正开始转弯，或者安全通过十字路口后，您才能安全地进行左转。

337. 在没有“禁止左转”标志的情况下，您可以在哪里合法地进行左转？



- A. 穿过双黄线进入私人车道。
- B. 在红色箭头信号灯处。
- C. 在铁路交叉口。
- D. 以上都不正确

正确答案: A

解析：纽约 DMV 手册 Chapter 4 说明，道路标志通过颜色、形状、符号和文字传达规则。依据手册第7章《道路法律及规定》《交通信号灯》的要点，您可以穿过一组双黄实线以左转或进入或驶离私人道路或车道。这是一个常见的合法操作。



338. 在没有“红灯禁止转弯”标志的十字路口，您在红灯时右转之前必须：



- A. 减速至爬行速度，然后转弯。
- B. 完全停车。
- C. 仅为车辆让行，然后转弯。
- D. 以上都不正确

正确答案: B

解析：纽约 DMV 手册 Chapter 4 说明，道路标志通过颜色、形状、符号和文字传达规则。红灯右转必须先完全停车，再视情况让行后转弯。

339. 在分隔式公路上，您可以在何处进行掉头（U-turn）？



- A. 仅在十字路口。
- B. 在中央分隔带提供的指定开口处。
- C. 任何时候都不允许。
- D. 以上都不正确

正确答案: B

解析：纽约 DMV 手册 Chapter 4 说明，道路标志通过颜色、形状、符号和文字传达规则。根据手册第7章《道路法律及规定》《转弯规则》的规定，分隔式公路仅可在中央分隔带设有开口处掉头。



340. 绿灯时但有“NO U-TURN”标志，您应当：



- A. 可以掉头，只要慢速。
- B. 等行人通过后再掉头。
- C. 不得掉头，必须遵守标志。
- D. 以上都不正确

正确答案: C

解析：纽约 DMV 手册 Chapter 4 说明，道路标志通过颜色、形状、符号和文字传达规则。根据手册第7章《道路法律及规定》《转弯规则》的规定，即使绿灯，看到 NO U-TURN 标志也不得掉头。

341. 这个菱形车道标志提示什么？



- A. 前方有高乘载/共乘车道限制
- B. 禁止超车
- C. 仅货车车道
- D. 以上都不正确

正确答案: A

解析：纽约 DMV 手册 Chapter 4 说明，道路标志通过颜色、形状、符号和文字传达规则。菱形标志提示前方受限车道（如 HOV）需符合条件。



342. SHOULDER WORK AHEAD 提示？



- A. 路肩施工，主道行驶但需注意工人/设备
- B. 主车道封闭
- C. 仅行人施工
- D. 以上都不正确

正确答案: A

解析：纽约 DMV 手册 Chapter 4 说明，道路标志通过颜色、形状、符号和文字传达规则。路肩施工提示需减速并留意工人和设备。

343. THRU TRAFFIC MERGE LEFT 提示？



- A. 直行车辆需并到左侧车道
- B. 左转车辆靠右
- C. 禁止左转
- D. 以上都不正确

正确答案: A

解析：纽约 DMV 手册 Chapter 4 说明，道路标志通过颜色、形状、符号和文字传达规则。THRU TRAFFIC MERGE LEFT 表示直行车道需并入左侧。



344. ONE LANE TUNNEL 警告什么？



- A. 前方隧道仅单车道，需减速让行
- B. 隧道封闭
- C. 隧道限速 10 mph
- D. 以上都不正确

正确答案: A

解析：纽约 DMV 手册 Chapter 4 说明，道路标志通过颜色、形状、符号和文字传达规则。ONE LANE TUNNEL 提示隧道仅单车道，应减速并视情况让行。

345. 成对的黑黄车道导向牌提示？



- A. 前方急弯，需减速按箭头方向行驶
- B. 允许超车
- C. 直行优先
- D. 以上都不正确

正确答案: A

解析：纽约 DMV 手册 Chapter 4 说明，道路标志通过颜色、形状、符号和文字传达规则。黑黄导向标示急弯或线形变化，应减速按箭头通过。



346. LEFT LANE ENDS 黄牌提示？



- A. 左车道即将结束，需提前并线
- B. 右车道结束
- C. 道路封闭
- D. 以上都不正确

正确答案: A

解析：纽约 DMV 手册 Chapter 4 说明，道路标志通过颜色、形状、符号和文字传达规则。LEFT LANE ENDS 提示左车道结束，应提前并线。

347. 在施工区，“SHOULDER WORK AHEAD”（前方路肩施工）的标志表示：



- A. 道路已封闭，您必须掉头。
- B. 工人将在道路旁边的路肩上施工，您应小心。
- C. 您必须在路肩上行驶。
- D. 以上都不正确

正确答案: B

解析：纽约 DMV 手册 Chapter 4 说明，道路标志通过颜色、形状、符号和文字传达规则。根据手册第8章《安全驾驶》《修路工人和施工区》的规定，“前方路肩施工”提示路肩有工人或设备，应减速并保持警惕。

